

04 수2

07 부정적분

02 부정적분의 계산

01 부정적분의 계산1 (기본)

[출처] 2005 모의\_공공 사관학교 고3 07월 8

1. 자연수 n 과 실수 x 에 대하여 함수 F\_n(x)가

$$F_n(x) = \int \frac{x^{3n} - 1}{x^2 + x + 1} dx$$

$$F_n(1) = \frac{1}{3n-1} - \frac{1}{3n-2} + \frac{1}{3n-4} - \frac{1}{3n-5} + \dots + \frac{1}{2} - 1$$

와 같이 정의될 때, F\_n(0)의 값은?

- ①  $\frac{n(n-1)}{2}$     ②  $\frac{n(n-1)(n-2)}{6}$     ③  $\frac{(n-1)(n-2)}{n+1}$
- ④ 0            ⑤ 1

04 수2

07 부정적분

03 부정적분의 활용

06 함수 구하기6 (도함수의 정의 이용)

[출처] 2017 모의\_공공 경찰대 고3 07월 20

2. 미분가능한 함수 f(x), g(x)가

$$f(x+y) = f(x)g(y) + f(y)g(x), f(1) = 1$$

$$g(x+y) = g(x)g(y) + f(x)f(y), \lim_{x \rightarrow 0} \frac{g(x) - 1}{x} = 0$$

을 만족시킬 때, 옳은 것만을 <보기>에서 있는 대로 고른 것은?

<보 기>

ㄱ.  $f'(x) = f'(0)g(x)$

ㄴ.  $g(x)$ 는  $x=0$ 에서 극솟값 1을 갖는다.

ㄷ.  $\{g(x)\}^2 - \{f(x)\}^2 = 1$

- ① ㄴ            ② ㄷ            ③ ㄱ, ㄴ
- ④ ㄱ, ㄷ      ⑤ ㄱ, ㄴ, ㄷ

[출처] 2019 모의\_공공 경찰대 고3 07월 17

3. 임의의 두 실수  $x, y$ 에 대하여

$$f(x-y) = f(x) - f(y) + 3xy(x-y)$$

를 만족시키는 다항함수  $f(x)$ 가  $x=2$ 에서 극댓값  $a$ 를 가진다.  $f'(0)=b$ 일 때,  $a-b$ 의 값은?

- ① 2                      ② 4                      ③ 6
- ④ 8                      ⑤ 10

04 수2

07 부정적분

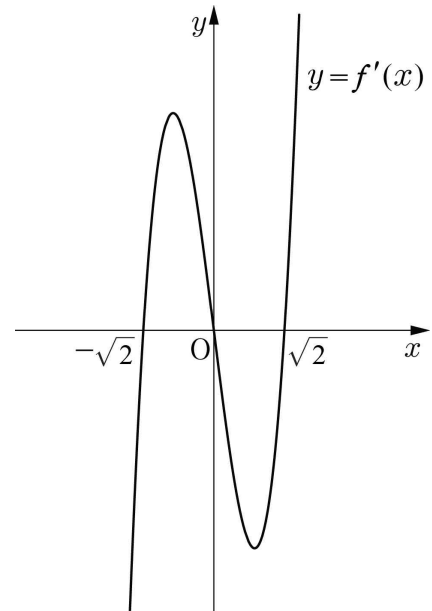
03 부정적분의 활용

07 함수 구하기7 (도함수 구하기)

[출처] 2016 모의\_공공 교육청 고3 10월 21

4. 사차함수  $f(x)$ 의 도함수  $y=f'(x)$ 의 그래프가 그림과

같고,  $f'(-\sqrt{2})=f'(0)=f'(\sqrt{2})=0$ 이다.



$f(0)=1, f(\sqrt{2})=-3$ 일 때,  $f(m)f(m+1)<0$ 을 만족시키는 모든 정수  $m$ 의 값의 합은?

- ① -2                      ② -1                      ③ 0
- ④ 1                        ⑤ 2

[출처] 2022 모의\_공공 사관학교 고3 07월 공통범위 10

5. 사차함수  $f(x)$ 가 다음 조건을 만족시킬 때,  $f(2)$ 의 값은?

(가)  $f(0)=2$ 이고  $f'(4)=-24$ 이다.  
 (나) 부등식  $xf'(x)>0$ 을 만족시키는 모든 실수  $x$ 의 값의 범위는  $1 < x < 3$ 이다.

- ① 3                      ②  $\frac{10}{3}$                       ③  $\frac{11}{3}$
- ④ 4                      ⑤  $\frac{13}{3}$

04 수2

07 부정적분

03 부정적분의 활용

08 활용1 (몫과 나머지의 해석)

[출처] 2009 모의\_공공 사관학교 고3 07월 27

6. 5차다항식  $P(x)$ 에 대하여,  $P(x)$ 를  $(x-1)^3$ 으로 나누면 나머지가 8이고,  $P(x)$ 를  $(x+1)^3$ 으로 나누면 나머지가 -8일 때,  $P(2)$ 의 값을 구하시오.

## 04 수2

07 부정적분

03 부정적분의 활용

09 활용2 (함수의 상황)

[출처] 2011 모의\_공공 사관학교 고3 07월 30

7. 두 다항함수  $f(x)$ 와  $g(x)$ 에 대하여  $f'(x)=6x^2$  이고,  $g'(x)=2x$ 이다.  $y=f(x)$ 와  $y=g(x)$ 의 그래프가 두 점에서 만날 때,  $f(0)-g(0)$ 의 값들의 합은  $\frac{q}{p}$ 이다.  $p+q$ 의 값을 구하시오. (단,  $p, q$ 는 서로소인 자연수이다.)

## 04 수2

07 부정적분

03 부정적분의 활용

10 활용3 (극대와 극소)

[출처] 2008 모의\_공공 교육청 고3 07월 공통범위 19

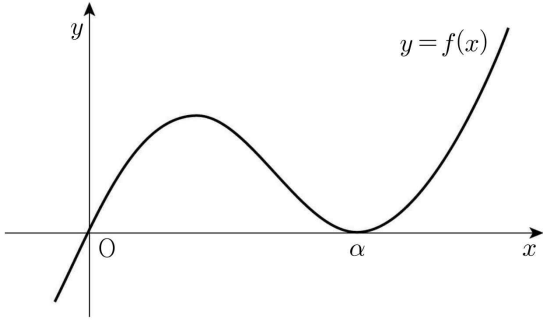
8. 함수  $f(x)$ 에 대하여  $f'(x)=(x-1)^3$ 이다. 함수  $f(x)$ 의 극값을  $M$ , 함수  $y=f(x)$ 의 그래프 위의 두 점  $A(0, f(0))$ ,  $B(2, f(2))$ 에서 접하는 두 접선의 교점의  $y$ 좌표를  $N$ 이라 할 때,  $16(M-N)$ 의 값을 구하시오.

[출처] 2013 모의\_공공 교육청 고3 07월 21

9. 최고차항의 계수가 1인 삼차함수  $f(x)$ 가

$$f(0)=0, f(\alpha)=0, f'(\alpha)=0$$

이고 함수  $g(x)$ 가 다음 두 조건을 만족시킬 때,  $g\left(\frac{\alpha}{3}\right)$ 의 값은? (단,  $\alpha$ 는 양수이다.)



(가)  $g'(x)=f(x)+xf'(x)$

(나)  $g(x)$ 의 극댓값이 81 이고 극솟값이 0 이다.

- ① 56                      ② 58                      ③ 60
- ④ 62                      ⑤ 64

04 수2

08 정적분

01 정적분의 계산

08 계산과 해석1 (정적분 관계식)

[출처] 2016 모의\_공공 교육청 고2 11월 20

10. 최고차항의 계수가 음수인 삼차함수  $f(x)$ 의 도함수를  $h(x)$ 라 하자.  $f(-1)=f(1)=f(2)=0$  일 때, <보기>에서 옳은 것만을 있는 대로 고른 것은?

<보 기>

ㄱ.  $\int_1^2 f(x)dx > 0$

ㄴ.  $h(0) < 0$

ㄷ.  $\int_m^n h(x)dx$ 의 값이 최대일 때,  $m+n = \frac{4}{3}$  이다.

(단,  $m < n$ )

- ① ㄱ                      ② ㄴ                      ③ ㄱ, ㄷ
- ④ ㄴ, ㄷ                ⑤ ㄱ, ㄴ, ㄷ

04 수2

08 정적분

01 정적분의 계산

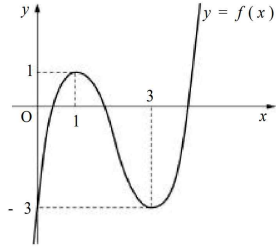
09 계산과 해석2 (절댓값함수의 해석)

[출처] 2002 모의\_공공 평가원 고3 11월 16

11. 그림과 같이 삼차함수

$y=f(x)$ 가 극댓값  $f(1)=1$ 과 극솟값  $f(3)=-3$ 을 가지며,  $f(0)=-3$ 이다.

이때,  $\int_0^3 |f'(x)|dx$ 의 값은?



- ① 6                      ② 7                      ③ 8
- ④ 9                      ⑤ 10

[출처] 2015 모의\_공공 평가원 고3 11월

12. 이차함수  $f(x)$ 가  $f(0)=0$ 이고 다음 조건을 만족시킨다.

(가)  $\int_0^2 |f(x)|dx = -\int_0^2 f(x)dx = 4$

(나)  $\int_2^3 |f(x)|dx = \int_2^3 f(x)dx$

$f(5)$ 의 값을 구하시오.

04 수2

08 정적분

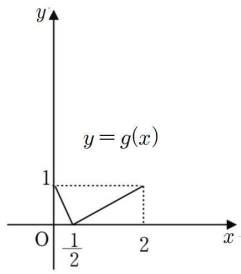
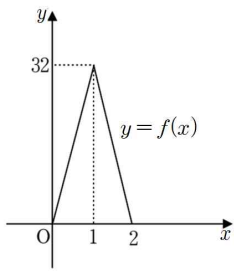
01 정적분의 계산

10 계산과 해석3 (함수 구하기)

[출처] 2003 모의\_공공 사관학교 고3 07월 30

13. 닫힌구간  $[0, 2]$ 에서 정의된 두 함수  $f(x)$ 와  $g(x)$ 의

그래프는 아래 그림과 같다. 이때,  $\frac{1}{3} \int_0^2 f(g(x))dx$ 의 값을 소수점 아래 셋째 자리에서 반올림하여 소수 둘째 자리까지 구하시오.



[출처] 2012 모의\_공공 사관학교 고3 07월 30

14. 세 다항함수  $f(x), g(x), h(x)$ 가 다음 조건을 만족시킨다.

(가)  $f(1)=1, g(1)=2$

(나) 모든 실수  $x, y$ 에 대하여  $f(xy+1)=xg(y)+h(x+y)$  이다.

이때,  $\int_0^3 \{f(x)+g(x)+h(x)\}dx$ 의 값을 구하시오.

[출처] 2014 모의\_공공 경찰대 고3 07월 18

15. 미분가능한 함수  $f(x)$ 가

$$f(x) = \begin{cases} ax^3 + bx^2 + cx + 1 & (x < 1) \\ 1 & (x = 1) \\ p(x-2)^3 + q(x-2)^2 + r(x-2) + 5 & (x > 1) \end{cases}$$

이고  $g(x) = f'(x)$ 라 할 때, 함수  $g(x)$ 가 다음 조건을 만족한다.

- (가)  $g(x)$ 는  $x=1$ 에서 미분가능하다.
- (나)  $g'(0) = g'(2) = 0$

$\int_0^1 f(x)dx$ 의 값은?

- ①  $\frac{1}{2}$
- ②  $\frac{3}{4}$
- ③ 1
- ④  $\frac{5}{4}$
- ⑤  $\frac{3}{2}$

[출처] 2015 모의\_공공 교육청 고3 07월 29

16. 최고차항의 계수가 1이고 다음 조건을 만족시키는

모든 삼차함수  $f(x)$ 에 대하여  $\int_0^3 f(x)dx$ 의 최솟값을  $m$ 이라 할 때,  $4m$ 의 값을 구하시오.

- (가)  $f(0) = 0$
- (나) 모든 실수  $x$ 에 대하여  $f'(2-x) = f'(2+x)$ 이다.
- (다) 모든 실수  $x$ 에 대하여  $f'(x) \geq -3$ 이다.

[출처] 2018 모의\_공공 교육청 고2 09월 28

17. 실수 전체의 집합에서 연속인 함수  $f(x)$ 가 다음 조건을 만족시킨다.

- (가) 모든 정수  $m$ 에 대하여  $\int_m^{m+2} f(x)dx = 4$ 이다.
- (나)  $0 \leq x \leq 2$ 에서  $f(x) = x^3 - 6x^2 + 8x$ 이다.

$4 \int_1^{10} f(x)dx$ 의 값을 구하시오.



[출처] 2020 모의\_공공 경찰대 고3 07월 22

18. 두 함수  $f(x) = -x^2 + 4x$ ,  $g(x) = 2x - a$ 에 대하여 함수  $h(x) = \frac{1}{2} \{f(x) + g(x) + |f(x) - g(x)|\}$ 가 극솟값 3을 가질 때,  $\int_0^4 h(x)dx$ 의 값을 구하시오. (단,  $a$ 는 상수이다.)

04 수2

08 정적분

01 정적분의 계산

11 계산과 해석4 (정의된 함수)

[출처] 2009 모의\_공공 평가원 고3 11월 24

19. 삼차함수  $f(x) = x^3 - 3x - 1$ 이 있다. 실수  $t (t \geq -1)$ 에 대하여  $-1 \leq x \leq t$ 에서  $|f(x)|$ 의 최댓값을  $g(t)$ 라고 하자.  $\int_{-1}^1 g(t)dt = \frac{q}{p}$ 일 때,  $p+q$ 의 값을 구하시오. (단,  $p, q$ 는 서로소인 자연수이다.)

[출처]

2015 모의\_공공 경찰대 고3 07월 22

20. 실수  $t$ 에 대하여 함수

$$f(x) = x^2 - 2|x-t| \quad (-1 \leq x \leq 1)$$

의 최댓값을  $g(t)$  라고 하자.  $\int_0^{\frac{3}{2}} g(t) dt = \frac{q}{p}$  일 때,  $p+q$ 의 값을 구하여라. (단,  $p, q$ 는 서로소인 자연수이다.)

## 04 수2

08 정적분

01 정적분의 계산

12 계산과 해석5 (미지수를 포함한 절댓값함수. 케이스)

[출처]

2011 모의\_공공 교육청 고3 04월 30

21.  $x$ 에 대한 방정식  $\int_0^x |t-1| dt = x$ 의 양수인 실근이
 $m+n\sqrt{2}$  일 때,  $m^3+n^3$ 의 값을 구하시오.
(단,  $m, n$ 은 유리수이다.)

04 수2

08 정적분

01 정적분의 계산

13 계산과 해석6 (추론과 해석)

[출처] 2014 모의\_공공 평가원 고3 06월

22. 실수 전체의 집합에서 미분가능한 함수  $f(x)$  가 다음 조건을 만족시킨다.

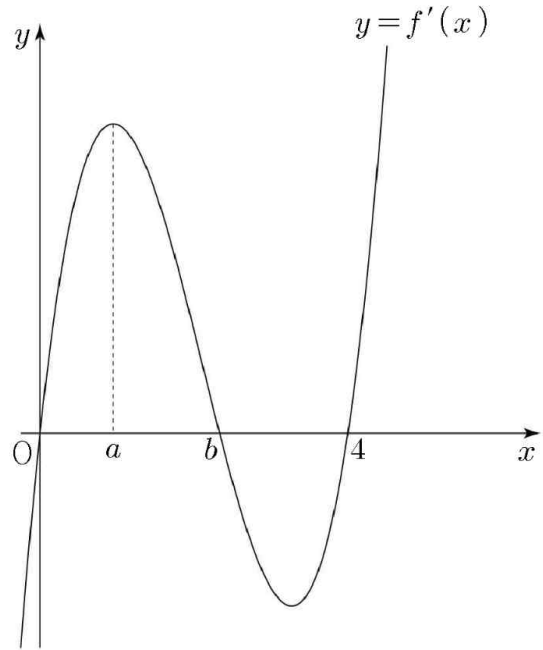
- (가) 모든 실수  $x$  에 대하여  $1 \leq f'(x) \leq 3$  이다.
- (나) 모든 정수  $n$  에 대하여 함수  $y=f(x)$  의 그래프는 점  $(4n, 8n)$ , 점  $(4n+1, 8n+2)$ , 점  $(4n+2, 8n+5)$ , 점  $(4n+3, 8n+7)$ 을 모두 지난다.
- (다) 모든 정수  $k$  에 대하여 닫힌구간  $[2k, 2k+1]$  에서 함수  $f(x)$  의 그래프는 각각 이차함수의 그래프의 일부이다.

$\int_3^6 f(x)dx = a$  라 할 때,  $6a$  의 값을 구하시오.

[출처] 2015 모의\_공공 교육청 고2 09월 21

23. 최고차항의 계수가 양수인 사차함수  $y=f(x)$  의

도함수  $y=f'(x)$  의 그래프가 그림과 같다. 함수  $f'(x)$  가  $x=a$  에서 극댓값을 가질 때, <보기>에서 옳은 것만을 있는 대로 고른 것은? (단,  $f'(0)=f'(b)=f'(4)=0$ )



<보 기>

- ㄱ. 함수  $f(x)$  는  $x=4$  에서 극솟값을 갖는다.
- ㄴ.  $a < t < b$  일 때,  $\frac{f(t)-f(a)}{t-a} > \frac{f(t)-f(b)}{t-b}$  이다.
- ㄷ.  $\int_a^4 f'(x)dx = 0$  일 때, 곡선  $y=f(x)$  와 직선  $y=f(a)$  는 서로 다른 세 점에서 만난다.

- ① ㄱ                      ② ㄱ, ㄴ                      ③ ㄱ, ㄷ
- ④ ㄴ, ㄷ                      ⑤ ㄱ, ㄴ, ㄷ

[출처] 2018 모의\_공공 교육청 고3 07월 17

24. 최고차항의 계수가 1 이고  $f(0)=0$  인 삼차함수  $f(x)$  가 다음 조건을 만족시킨다.

- (가)  $f(2)=f(5)$
- (나) 방정식  $f(x)-p=0$  의 서로 다른 실근의 개수가 2가 되게 하는 실수  $p$  의 최댓값은  $f(2)$  이다.

$\int_0^2 f(x)dx$  의 값은?

- ① 25
- ② 28
- ③ 31
- ④ 34
- ⑤ 37

[출처] 2018 모의\_공공 교육청 고3 07월 21

25. 함수

$$f(x)=(x-1)|x-a|$$

의 극댓값이 1 일 때,  $\int_0^4 f(x)dx$  의 값은?

(단,  $a$  는 상수이다.)

- ①  $\frac{4}{3}$
- ②  $\frac{3}{2}$
- ③  $\frac{5}{3}$
- ④  $\frac{11}{6}$
- ⑤ 2

[출처] 2021 모의\_공공 교육청 고3 07월 공통범위 15

26. 최고차항의 계수가 1인 사차함수  $f(x)$ 의 도함수

$f'(x)$ 에 대하여 방정식  $f'(x)=0$ 의 서로 다른 세 실근  $\alpha, 0, \beta(\alpha < 0 < \beta)$ 가 이 순서대로 등차수열을 이룰 때, 함수  $f(x)$ 는 다음 조건을 만족시킨다.

- (가) 방정식  $f(x)=9$ 는 서로 다른 세 실근을 갖는다.
- (나)  $f(\alpha)=-16$

함수  $g(x)=|f'(x)|-f'(x)$ 에 대하여  $\int_0^{10} g(x)dx$ 의 값은?

- ① 48
- ② 50
- ③ 52
- ④ 54
- ⑤ 56

[출처] 2021 모의\_공공 경찰대 고3 07월 15

27. 실수  $p$ 에 대하여 곡선  $y=x^3-x^2$ 과 직선  $y=px-1$ 의 교점의  $x$ 좌표 중 가장 작은 값을  $m$ 이라 하자.  $m < a < b$ 인 모든 실수  $a, b$ 에 대하여

$$\int_a^b (x^3 - x^2 - px + 1) dx > 0$$

이 되도록 하는  $m$ 의 최솟값은?

- ①  $-\frac{1}{2}$       ②  $-1$       ③  $-\frac{3}{2}$
- ④  $-2$       ⑤  $-\frac{5}{2}$

[출처] 2021 모의\_공공 평가원 고3 09월 공통범위 14

28. 최고차항의 계수가 1이고  $f'(0)=f'(2)=0$ 인 삼차함수  $f(x)$ 와 양수  $p$ 에 대하여 함수  $g(x)$ 를

$$g(x) = \begin{cases} f(x) - f(0) & (x \leq 0) \\ f(x+p) - f(p) & (x > 0) \end{cases}$$

이라 하자. <보기>에서 옳은 것만을 있는 대로 고른 것은?

<보 기>

- ㄱ.  $p=1$ 일 때,  $g'(1)=0$ 이다.
- ㄴ.  $g(x)$ 가 실수 전체의 집합에서 미분가능하도록 하는 양수  $p$ 의 개수는 1이다.
- ㄷ.  $p \geq 2$ 일 때,  $\int_{-1}^1 g(x) dx \geq 0$ 이다.

- ① ㄱ                      ② ㄱ, ㄴ                      ③ ㄱ, ㄷ
- ④ ㄴ, ㄷ                      ⑤ ㄱ, ㄴ, ㄷ

04

[준킬러][수학2] 4적분

04 수2 08 정적분

02 여러가지 함수의 정적분

---

02 여러가지 함수의 정적분2 (우함수와 기함수의 판단)

[출처] 2012 모의\_공공 교육청 고3 07월 19

29. 정수  $a, b, c$ 에 대하여 함수

$$f(x) = x^4 + ax^3 + bx^2 + cx + 10$$

이 다음 두 조건을 모두 만족시킨다.

(가) 모든 실수  $\alpha$ 에 대하여  $\int_{-\alpha}^{\alpha} f(x)dx = 2 \int_0^{\alpha} f(x)dx$

(나)  $-6 < f'(1) < -2$

이때, 함수  $y = f(x)$ 의 극솟값은?

- ① 5            ② 6            ③ 7  
 ④ 8            ⑤ 9

04 수2 08 정적분

02 여러가지 함수의 정적분

---

03 여러가지 함수의 정적분3 (우함수와 기함수의 활용)

[출처] 2018 모의\_공공 교육청 고3 07월 20

30. 최고차항의 계수가 1인 사차함수  $f(x)$ 가 모든 실수  $x$ 에 대하여

$$f'(-x) = -f'(x)$$

를 만족시킨다.  $f'(1) = 0, f(1) = 2$ 일 때, <보기>에서 옳은 것만을 있는 대로 고른 것은?

<보 기>

ㄱ.  $f'(-1) = 0$

ㄴ. 모든 실수  $k$ 에 대하여  $\int_{-k}^0 f(x)dx = \int_0^k f(x)dx$

ㄷ.  $0 < t < 1$ 인 모든 실수  $t$ 에 대하여  $\int_{-t}^t f(x)dx < 6t$

- ① ㄱ            ② ㄷ            ③ ㄱ, ㄴ  
 ④ ㄴ, ㄷ        ⑤ ㄱ, ㄴ, ㄷ

04 수2

08 정적분

02 여러가지 함수의 정적분

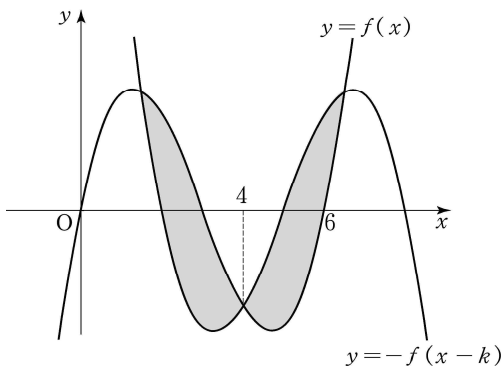
04 여러가지 함수의 정적분4 (대칭성)

[출처] 2005 모의\_공공 평가원 고3 09월 공통범위 20

31. 최고차항의 계수가 1인 삼차함수  $y=f(x)$ 는 다음 조건을 만족시킨다.

- (가)  $f(0)=f(6)=0$
- (나) 함수  $y=f(x)$ 의 그래프와 함수  $y=-f(x-k)$ 의 그래프가 서로 다른 세 점  $(\alpha, f(\alpha)), (\beta, f(\beta)), (\gamma, f(\gamma))$  (단,  $\alpha < \beta < \gamma$ )에서 만나면  $k$ 의 값에 관계없이  $\int_{\alpha}^{\gamma} f(x)+f(x-k)dx=0$ 이다.

함수  $y=f(x)$ 의 그래프와 함수  $y=-f(x-k)$ 의 그래프가 다음 그림과 같이 서로 다른 세 점에서 만나고 가운데 교점의  $x$ 좌표의 값이 4일 때,  $\int_0^k f(x)dx$ 의 값을 구하시오.



[출처]

2016 모의\_공공 교육청 고2 09월 19

32. 삼차함수  $f(x)=x^3-4x$ 의 그래프를  $x$ 축에 대하여 대칭이동한 곡선을  $y=g(x)$ 라 하자. <보기>에서 옳은 것만을 있는 대로 고른 것은?

<보 기>

ㄱ.  $\int_{-1}^1 f(x)dx=0$

ㄴ.  $\int_{-1}^0 f(x)dx + \int_0^1 g(x)dx = \frac{7}{2}$

ㄷ. 방정식  $\int_0^x g(t)dt = \int_0^x f(t)dt + 3$ 은 열린 구간  $(0, 1)$ 에서 적어도 하나의 실근을 갖는다.

- ① ㄱ                      ② ㄷ                      ③ ㄱ, ㄴ
- ④ ㄴ, ㄷ                  ⑤ ㄱ, ㄴ, ㄷ

[출처] 2018 모의\_공공 교육청 고3 10월 29

33. 최고차항의 계수가 양수인 이차함수  $f(x)$ 가 다음 조건을 만족시킨다.

(가) 모든 실수  $t$ 에 대하여  $\int_0^t f(x)dx = \int_{2a-t}^{2a} f(x)dx$  이다.

(나)  $\int_a^2 f(x)dx = 2, \int_a^2 |f(x)|dx = \frac{22}{9}$

$f(k) = 0$  이고  $k < a$ 인 실수  $k$ 에 대하여  $\int_k^2 f(x)dx = \frac{q}{p}$  이다.

$p+q$ 의 값을 구하시오.

(단,  $a$ 는 상수이고,  $p$ 와  $q$ 는 서로소인 자연수이다.)

[출처] 2019 모의\_공공 경찰대 고3 07월 14

34. 최고차항의 계수가 1인 삼차함수  $f(x)$ 와 양수  $a$ 가 다음 조건을 만족할 때,  $a$ 의 값은?

(가) 모든 실수  $t$ 에 대하여  $\int_{a-t}^{a+t} f(x)dx = 0$ 이다.

(나)  $f(a) = f(0)$

(다)  $\int_0^a f(x)dx = 144$

- ①  $2\sqrt{6}$       ②  $3\sqrt{6}$       ③  $4\sqrt{6}$
- ④  $5\sqrt{6}$       ⑤  $6\sqrt{6}$



04 수2

08 정적분

02 여러가지 함수의 정적분

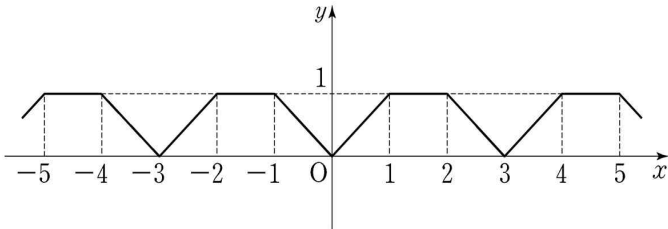
06 여러가지 함수의 정적분6 (주기함수)

[출처] 2014 모의\_공공 평가원 고3 11월 20

35. 함수  $f(x)$ 는 모든 실수  $x$ 에 대하여  $f(x+3)=f(x)$ 를 만족시키고,

$$f(x) = \begin{cases} x & (0 \leq x < 1) \\ 1 & (1 \leq x < 2) \\ -x+3 & (2 \leq x < 3) \end{cases}$$

이다.  $\int_{-a}^a f(x)dx = 13$ 일 때, 상수  $a$ 의 값은?



- ① 10            ② 12            ③ 14
- ④ 16            ⑤ 18

[출처] 2014 모의\_공공 교육청 고3 07월

36. 연속함수  $f(x)$ 가 모든 실수  $x$ 에 대하여 다음 조건을 만족시킨다.

(가)  $f(-x)=f(x)$   
 (나)  $f(x+2)=f(x)$   
 (다)  $\int_{-1}^1 (x+2)^2 f(x)dx = 50, \int_{-1}^1 x^2 f(x)dx = 2$

$\int_{-3}^3 x^2 f(x)dx$ 의 값을 구하시오.

[출처] 2015 모의\_공공 사관학교 고3 07월 17

37. 실수 전체의 집합에서 연속인 함수  $f(x)$ 가 다음 조건을 만족시킨다.

- (가)  $f(x)=ax^2(0 \leq x < 2)$
- (나) 모든 실수  $x$ 에 대하여  $f(x+2)=f(x)+2$ 이다.

$\int_1^7 f(x)dx$ 의 값은? (단,  $a$ 는 상수이다.)

- ① 20
- ② 21
- ③ 22
- ④ 23
- ⑤ 24

[출처] 2021 모의\_공공 평가원 고3 06월 공통범위 11

38. 닫힌구간  $[0, 1]$ 에서 연속인 함수  $f(x)$ 가

$$f(0)=0, f(1)=1, \int_0^1 f(x)dx = \frac{1}{6}$$

을 만족시킨다. 실수 전체의 집합에서 정의된 함수  $g(x)$ 가 다음 조건을 만족시킬 때,  $\int_{-3}^2 g(x)dx$ 의 값은?

- (가)  $g(x)=\begin{cases} -f(x+1)+1 & (-1 < x < 0) \\ f(x) & (0 \leq x \leq 1) \end{cases}$
- (나) 모든 실수  $x$ 에 대하여  $g(x+2)=g(x)$ 이다.

- ①  $\frac{5}{2}$
- ②  $\frac{17}{6}$
- ③  $\frac{19}{6}$
- ④  $\frac{7}{2}$
- ⑤  $\frac{23}{6}$

04 수2

08 정적분

03 정적분으로 정의된 함수

02 정적분으로 정의된 함수1 (적분함수)

[출처] 2004 모의\_공공 사관학교 고3 07월 26

39. 실수 전체의 집합에서 정의된 다항함수  $f(x)$ 가 다음 세 조건을 만족한다.

I.  $f(1)=25$

II.  $f(x)=\frac{1}{2}\int_x^{x+1}f(t)dt-\frac{1}{2}\int_x^{x-1}f(t)dt-\int_0^1f(t)dt$

III. 임의의 실수  $x, y$ 에 대하여  $f(x+y)+f(x-y)=2\{f(x)+f(y)\}$

이때, 미분계수  $f'(1)$ 의 값을 구하시오.

[출처] 2021 모의\_공공 평가원 고3 09월 공통범위 11

40. 다항함수  $f(x)$ 가 모든 실수  $x$ 에 대하여

$$xf(x)=2x^3+ax^2+3a+\int_1^xf(t)dt$$

를 만족시킨다.  $f(1)=\int_0^1f(t)dt$ 일 때,  $a+f(3)$ 의 값은?

(단,  $a$ 는 상수이다.)

- ① 5                      ② 6                      ③ 7
- ④ 8                      ⑤ 9

04 수2

08 정적분

03 정적분으로 정의된 함수

03 정적분으로 정의된 함수2 (피적분함수의 변수와 상수의 구분)

[출처] 2017 모의\_공공 경찰대 고3 07월 25

41. 함수  $f(x) = (x-1)^4(x+1)$ 에 대하여 이차함수  $g(x)$ ,  $h(x)$ 가

$$f(x) = g(x) + \int_0^x (x-t)^2 h(t) dt$$

를 만족시킬 때,  $g(2) + h(2)$ 의 값을 구하시오.

[출처] 2019 모의\_공공 경찰대 고3 07월 9

42. 다항함수  $f(x)$ 가 모든 실수  $x$ 에 대하여

$$\int_0^x (x-t)^2 f'(t) dt = \frac{3}{4}x^4 - 2x^3$$

을 만족한다.  $f(0) = 1$ 일 때,  $\int_0^1 f(x) dx$ 의 값은?

- ① 1                      ② 2                      ③ 3
- ④  $-\frac{1}{2}$                   ⑤  $-\frac{1}{3}$

04 수2

08 정적분

03 정적분으로 정의된 함수

04 정적분으로 정의된 함수3 (정적분의 기본정리)

[출처] 2012 모의\_공공 사관학교 고3 07월 14

43. 모든 실수  $x$ 에서 정의된 함수  $f(x) = \int_1^x (x^2 - t)dt$ 에

대하여 직선  $y = 6x - k$ 가 곡선  $y = f(x)$ 에 접할 때, 양수  $k$ 의 값은?

- ①  $\frac{11}{2}$       ②  $\frac{13}{2}$       ③  $\frac{15}{2}$
- ④  $\frac{17}{2}$       ⑤  $\frac{19}{2}$

[출처] 2021 모의\_공공 경찰대 고3 07월 12

44. 다항함수  $f(x)$ 가 다음 조건을 만족시킬 때, 상수  $a$ 의 값은?

(가) 모든 실수  $x$ 에 대하여

$$\begin{aligned} & \frac{d}{dx} \left\{ \int_1^x (f(t) + t^2 + 2at - 3)dt \right\} \\ &= \int_1^x \left\{ \frac{d}{dt} (2f(t) - 3t + 7) \right\} dt \end{aligned}$$

(나)  $\lim_{h \rightarrow 0} \frac{f(3+h) - f(3-h)}{h} = 6$

- ① -1      ② -2      ③ -3
- ④ -4      ⑤ -5

04 수2

08 정적분

03 정적분으로 정의된 함수

06 활용2 (극대와 극소)

[출처] 2012 모의\_공공 평가원 고3 11월 21

45. 삼차함수  $f(x) = x^3 - 3x + a$ 에 대하여 함수

$F(x) = \int_0^x f(t)dt$ 가 오직 하나의 극값을 갖도록 하는 양수

$a$ 의 최솟값은?

- ① 1            ② 2            ③ 3
- ④ 4            ⑤ 5

[출처] 2014 모의\_공공 교육청 고3 07월 19

46. 양수  $a, b$ 에 대하여 함수  $f(x) = \int_0^x (t-a)(t-b)dt$ 가

다음 조건을 만족시킬 때,  $a+b$ 의 값은?

(가) 함수  $f(x)$ 는  $x = \frac{1}{2}$ 에서 극값을 갖는다.

(나)  $f(a) - f(b) = \frac{1}{6}$

- ① 1            ② 2            ③ 3
- ④ 4            ⑤ 5

[출처] 2020 모의\_공공 평가원 고3 11월 20

47. 실수  $a$  ( $a > 1$ )에 대하여 함수  $f(x)$ 를

$f(x) = (x+1)(x-1)(x-a)$ 라 하자. 함수

$g(x) = x^2 \int_0^x f(t)dt - \int_0^x t^2 f(t)dt$ 가 오직 하나의 극값을

갖도록 하는  $a$ 의 최댓값은?

- ①  $\frac{9\sqrt{2}}{8}$       ②  $\frac{3\sqrt{6}}{4}$       ③  $\frac{3\sqrt{2}}{2}$
- ④  $\sqrt{6}$         ⑤  $2\sqrt{2}$

[출처] 2021 모의\_공공 평가원 고3 06월 공통범위 20

48. 실수  $a$ 와 함수  $f(x)=x^3-12x^2+45x+3$ 에 대하여  
함수

$$g(x)=\int_a^x \{f(x)-f(t)\} \times \{f(t)\}^4 dt$$

가 오직 하나의 극값을 갖도록 하는 모든  $a$ 의 값의 합을 구하시오.

04 수2

08 정적분

03 정적분으로 정의된 함수

07 활용3 (최대와 최소)

[출처] 2016 모의\_공공 평가원 고3 09월 29

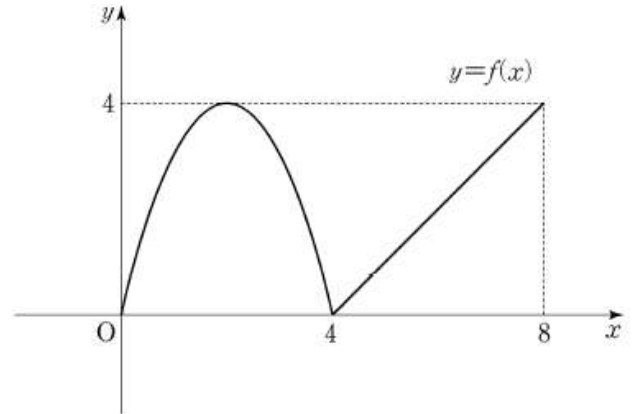
49. 구간  $[0, 8]$ 에서 정의된 함수  $f(x)$ 는

$$f(x)=\begin{cases} -x(x-4) & (0 \leq x < 4) \\ x-4 & (4 \leq x \leq 8) \end{cases}$$

이다. 실수  $a(0 \leq a \leq 4)$ 에 대하여  $\int_a^{a+4} f(x)dx$ 의 최솟값은

$\frac{q}{p}$ 이다.  $p+q$ 의 값을 구하시오.

(단,  $p$ 와  $q$ 는 서로소인 자연수이다.)



[출처] 2022 모의\_공공 경찰대 고3 07월 18

50. 함수

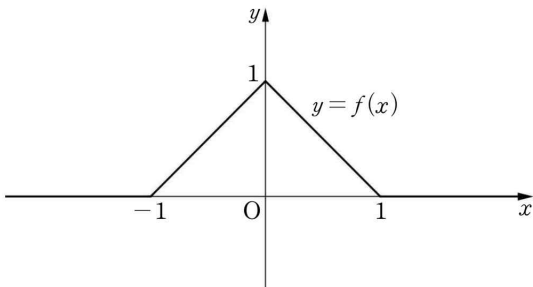
$$f(x) = \begin{cases} 1+x & (-1 \leq x < 0) \\ 1-x & (0 \leq x \leq 1) \\ 0 & (|x| > 1) \end{cases}$$

에 대하여 함수  $g(x)$ 를

$$g(x) = \int_{-1}^x f(t) \{2x - f(t)\} dt$$

라 할 때, 함수  $g(x)$ 의 최솟값은?

- ①  $-\frac{1}{4}$       ②  $-\frac{1}{3}$       ③  $-\frac{5}{12}$
- ④  $-\frac{1}{2}$       ⑤  $-\frac{7}{12}$



[출처] 2022 모의\_공공 평가원 고3 11월 공통범위 12

51. 실수 전체의 집합에서 연속인 함수  $f(x)$ 가 다음

조건을 만족시킨다.

$n-1 \leq x < n$ 일 때,  $|f(x)| = |6(x-n+1)(x-n)|$ 이다.  
(단,  $n$ 은 자연수이다.)

열린구간  $(0, 4)$ 에서 정의된 함수

$$g(x) = \int_0^x f(t) dt - \int_x^4 f(t) dt$$

가  $x=2$ 에서 최솟값 0을 가질 때,  $\int_{\frac{1}{2}}^4 f(x) dx$ 의 값은?

- ①  $-\frac{3}{2}$       ②  $-\frac{1}{2}$       ③  $\frac{1}{2}$
- ④  $\frac{3}{2}$       ⑤  $\frac{5}{2}$



04 수2

08 정적분

03 정적분으로 정의된 함수

08 활용4 (양적관계 활용)

[출처] 2018 모의\_공공 교육청 고2 11월 17

52. 최고차항의 계수가 양수인 사차함수  $f(x)$ 의 도함수  $f'(x)$ 에 대하여 방정식  $f'(x)=0$ 이 세 실근  $\alpha, 0, \beta(\alpha < 0 < \beta)$ 를 갖는다.

$$S = \int_{\alpha}^0 |f'(x)|dx, T = \int_0^{\beta} |f'(x)|dx$$

라 할 때, 보기에서 옳은 것만을 있는 대로 고른 것은?

<보 기>

- ㄱ. 함수  $f(x)$ 는  $x=0$ 에서 극댓값을 갖는다.
- ㄴ.  $\alpha + \beta = 0$ 이면  $S = T$ 이다.
- ㄷ.  $S < T$ 이고  $f(\alpha) = 0$ 이면 방정식  $f(x) = 0$ 의 양의 실근의 개수는 2이다.

- ① ㄱ            ② ㄷ            ③ ㄱ, ㄴ
- ④ ㄴ, ㄷ       ⑤ ㄱ, ㄴ, ㄷ

04 수2

08 정적분

03 정적분으로 정의된 함수

09 활용5 (함수 구하기)

[출처] 2008 모의\_공공 교육청 고3 10월 공통범위 20

53. 두 다항함수  $f(x), g(x)$ 가 다음 조건을 만족시킨다.

- 모든 실수  $x$ 에 대하여
- (가)  $f(x)g(x) = x^3 + 3x^2 - x - 3$
  - (나)  $f'(x) = 1$
  - (다)  $g(x) = 2 \int_1^x f(t)dt$

$\int_0^3 3g(x)dx$ 의 값을 구하시오.

[출처] 2016 모의\_공공 평가원 고3 11월 20

54. 최고차항의 계수가 양수인 삼차함수  $f(x)$ 가 다음 조건을 만족시킨다.

(가) 함수  $f(x)$ 는  $x=0$ 에서 극댓값,  $x=k$ 에서 극솟값을 가진다. (단,  $k$ 는 상수이다.)  
 (나) 1보다 큰 모든 실수  $t$ 에 대하여  

$$\int_0^t |f'(x)|dx = f(t) + f(0)$$
 이다.

<보기>에서 옳은 것만을 있는 대로 고른 것은?

— <보 기> —

ㄱ.  $\int_0^k f'(x)dx < 0$   
 ㄴ.  $0 < k \leq 1$   
 ㄷ. 함수  $f(x)$ 의 극솟값은 0이다.

- ① ㄱ      ② ㄷ      ③ ㄱ, ㄴ  
 ④ ㄴ, ㄷ    ⑤ ㄱ, ㄴ, ㄷ

[출처] 2017 모의\_공공 교육청 고2 09월 15

55. 최고차항의 계수가 1인 삼차함수  $f(x)$ 에 대하여 함수  $g(x)$ 를

$$g(x) = \int_2^x (t-2)f'(t)dt$$

라 하자. 함수  $g(x)$ 가  $x=0$ 에서만 극값을 가질 때,  $g(0)$ 의 값은?

- ①  $-2$       ②  $-\frac{5}{2}$       ③  $-3$   
 ④  $-\frac{7}{2}$       ⑤  $-4$

[출처] 2017 모의\_공공 경찰대 고3 07월 17

56. 음이 아닌 정수  $n$ 에 대하여 최고차항의 계수가 1인  $n$ 차 다항함수  $P_n(x)$ 는 다음 조건을 만족시킨다.

(가)  $P_0(x) = 1, P_1(x) = x$

(나) 음이 아닌 서로 다른 정수  $m, n$ 에 대하여

$$\int_{-1}^1 P_m(x)P_n(x)dx = 0$$

$\int_0^1 P_3(x)dx$ 의 값은?

- ①  $-\frac{1}{20}$       ②  $-\frac{1}{10}$       ③  $\frac{1}{5}$
- ④  $\frac{1}{10}$       ⑤  $\frac{1}{20}$

[출처] 2020 모의\_공공 교육청 고3 10월 20

57. 최고차항의 계수가 4인 삼차함수  $f(x)$ 에 대하여 함수  $g(x)$ 를

$$g(x) = \int_0^x f(t)dt - xf(x)$$

라 하자. 모든 실수  $x$ 에 대하여  $g(x) \leq g(3)$ 이고 함수

$g(x)$ 는 오직 1개의 극값만 가진다.  $\int_0^1 g'(x)dx$ 의 값은?

- ① 8                  ② 9                  ③ 10
- ④ 11                ⑤ 12

[출처] 2020 모의\_공공 교육청 고3 03월 20

58. 최고차항의 계수가 1인 삼차함수  $f(x)$ 에 대하여 함수  $g(x)$ 를

$$g(x) = \int_0^x f(t)dt + f(x)$$

라 할 때, 함수  $g(x)$ 는 다음 조건을 만족시킨다.

- (가) 함수  $g(x)$ 는  $x=0$ 에서 극댓값 0을 갖는다.
- (나) 함수  $g(x)$ 의 도함수  $y=g'(x)$ 의 그래프는 원점에 대하여 대칭이다.

$f(2)$ 의 값은?

- ① -5
- ② -4
- ③ -3
- ④ -2
- ⑤ -1

[출처] 2021 모의\_공공 평가원 고3 11월 20

59. 실수 전체의 집합에서 미분가능한 함수  $f(x)$ 가 다음 조건을 만족시킨다.

- (가) 닫힌구간  $[0, 1]$ 에서  $f(x)=x$ 이다.
- (나) 어떤 상수  $a, b$ 에 대하여 구간  $[0, \infty)$ 에서  $f(x+1)-xf(x)=ax+b$ 이다.

$60 \times \int_1^2 f(x)dx$ 의 값을 구하시오.

[출처] 2022 모의\_공공 평가원 고3 09월 공통범위 14

60. 최고차항의 계수가 1이고  $f(0)=0, f(1)=0$ 인 삼차함수  $f(x)$ 에 대하여 함수  $g(t)$ 를

$$g(t) = \int_t^{t+1} f(x)dx - \int_0^1 |f(x)|dx$$

라 할 때, <보기>에서 옳은 것만을 있는 대로 고른 것은?

- <보 기>
- ㄱ.  $g(0)=0$ 이면  $g(-1) < 0$ 이다.
  - ㄴ.  $g(-1) > 0$ 이면  $f(k)=0$ 을 만족시키는  $k < -1$ 인 실수  $k$ 가 존재한다.
  - ㄷ.  $g(-1) > 1$ 이면  $g(0) < -1$ 이다.

- ① ㄱ
- ② ㄱ, ㄴ
- ③ ㄱ, ㄷ
- ④ ㄴ, ㄷ
- ⑤ ㄱ, ㄴ, ㄷ

[출처] 2022 모의\_공공 교육청 고3 07월 공통범위 20

61. 최고차항의 계수가 3인 이차함수  $f(x)$ 에 대하여 함수

$$g(x) = x^2 \int_0^x f(t)dt - \int_0^x t^2 f(t)dt$$

가 다음 조건을 만족시킨다.

- (가) 함수  $g(x)$ 는 극값을 갖지 않는다.
- (나) 방정식  $g'(x) = 0$ 의 모든 실근은 0, 3이다.

$\int_0^3 |f(x)|dx$ 의 값을 구하시오.

04 수2

08 정적분

03 정적분으로 정의된 함수

10 활용6 (정의된 함수)

[출처] 2018 모의\_공공 교육청 고2 09월 21

62. 양수  $t$ 에 대하여 함수  $f(x)$ 를

$$f(x) = \int_{3t}^x (s^2 - 4ts + 3t^2)ds$$

라 할 때, 닫힌 구간  $[0, 2]$ 에서 함수  $f(x)$ 의 최댓값을  $g(t)$ 라 하자. <보기>에서 옳은 것만을 있는 대로 고른 것은?

<보 기>

- ㄱ.  $f'(x) = (x-t)(x-3t)$
- ㄴ.  $t > 2$ 일 때,  $g(t) = \frac{2}{3}(3t-2)^2$ 이다.
- ㄷ.  $t > 0$ 에서 정의된 함수  $g(t)$ 는  $t = \frac{1}{2}$ 에서만 미분가능하지 않다.

- ① ㄱ
- ② ㄷ
- ③ ㄱ, ㄴ
- ④ ㄴ, ㄷ
- ⑤ ㄱ, ㄴ, ㄷ

[출처] 2021 모의\_공공 경찰대 고3 07월 18

63. 실수  $t(0 < t < 3)$ 에 대하여 삼차함수

$$f(x) = 2x^3 - (t+3)x^2 + 2tx$$

가  $x=a$ 에서 극댓값을 가질 때, 세 점  $(0, 0)$ ,  $(a, 0)$ ,  $(a, f(a))$ 를 꼭짓점으로 하는 삼각형의 넓이를  $g(t)$ 라 하자.

$\lim_{t \rightarrow 0} \frac{1}{g(t)} \int_0^a f(x)dx$ 의 값은?

- ① 1                      ②  $\frac{13}{12}$                       ③  $\frac{7}{6}$
- ④  $\frac{5}{4}$                       ⑤  $\frac{4}{3}$

[출처] 2022 모의\_공공 교육청 고3 10월 공통범위 14

64. 최고차항의 계수가 1인 삼차함수  $f(x)$ 와 실수  $t$ 에

대하여  $x$ 에 대한 방정식

$$\int_t^x f(s)ds = 0$$

의 서로 다른 실근의 개수를  $g(t)$ 라 할 때, <보기>에서 옳은 것만을 있는 대로 고른 것은?

— <보 기> —

- ㄱ.  $f(x) = x^2(x-1)$ 일 때,  $g(1) = 1$ 이다.
- ㄴ. 방정식  $f(x) = 0$ 의 서로 다른 실근의 개수가 3이면  $g(a) = 3$ 인 실수  $a$ 가 존재한다.
- ㄷ.  $\lim_{t \rightarrow b} g(t) + g(b) = 6$ 을 만족시키는 실수  $b$ 의 값이 0과 3뿐이면  $f(4) = 12$ 이다.

- ① ㄱ                      ② ㄱ, ㄴ                      ③ ㄱ, ㄷ
- ④ ㄴ, ㄷ                      ⑤ ㄱ, ㄴ, ㄷ

04 수2

08 정적분

03 정적분으로 정의된 함수

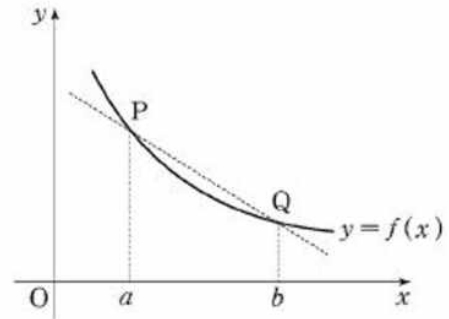
11 활용7 (추론과 해석)

[출처] 2001 모의\_공공 사관학교 고3 07월 28

65. 부등식  $n < \int_0^2 \sqrt{27+2\sin x} dx < n+1$  을 만족하는 양의 정수  $n$  을 구하시오.

[출처] 2004 모의\_공공 평가원 고3 11월 공통범위 8

66. 다음은 연속함수  $y=f(x)$  의 그래프와 이 그래프 위의 서로 다른 두 점  $P(a, f(a)), Q(b, f(b))$  를 나타낸 것이다.



함수  $F'(x)$  가  $F'(x)=f(x)$  를 만족시킬 때, <보기>에서 항상 옳은 것을 모두 고른 것은?

— <보 기> —

ㄱ. 함수  $F(x)$  는 구간  $[a, b]$  에서 증가한다.

ㄴ.  $\frac{F(b)-F(a)}{b-a}$  는 직선 PQ 의 기울기와 같다.

ㄷ.  $\int_a^b \{f(x)-f(b)\}dx \leq \frac{(b-a)\{f(a)-f(b)\}}{2}$

- ① ㄱ      ② ㄴ      ③ ㄱ, ㄷ  
 ④ ㄴ, ㄷ      ⑤ ㄱ, ㄴ, ㄷ

[출처] 2008 모의\_공공 평가원 고3 09월 공통범위 10

67. 함수  $f(x) = \begin{cases} -1 & (x < 1) \\ -x+2 & (x \geq 1) \end{cases}$  에 대하여 함수  $g(x)$  를

$$g(x) = \int_{-1}^x (t-1)f(t)dt$$

라 하자. <보기>에서 옳은 것만을 있는 대로 고른 것은?

— <보 기> —

- ㄱ.  $g(x)$  는 구간  $(1, 2)$  에서 증가한다.
- ㄴ.  $g(x)$  는  $x=1$  에서 미분가능하다.
- ㄷ. 방정식  $g(x)=k$  가 서로 다른 세 실근을 갖도록 하는 실수  $k$  가 존재한다.

- ① ㄴ            ② ㄷ            ③ ㄱ, ㄴ
- ④ ㄱ, ㄷ      ⑤ ㄱ, ㄴ, ㄷ

[출처] 2008 모의\_공공 평가원 고3 09월 공통범위 11

68. 다항함수  $f(x)$  가 다음 두 조건을 만족한다.

- (가)  $f(0)=0$
- (나)  $0 < x < y < 1$  인 모든  $x, y$  에 대하여  $0 < xf(y) < yf(x)$

세 수

$$A = f'(0),$$

$$B = f(1),$$

$$C = 2 \int_0^1 f(x)dx$$

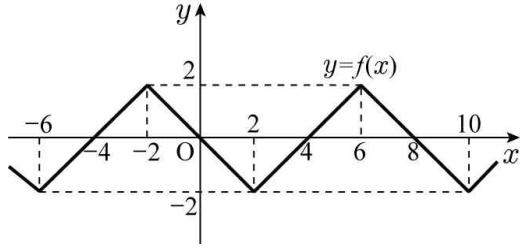
의 대소 관계를 옳게 나타낸 것은?

- ①  $A < B < C$             ②  $A < C < B$             ③  $B < A < C$
- ④  $B < C < A$             ⑤  $C < A < B$



[출처] 2010 모의\_공공 교육청 고3 10월 공통범위 9

69. 실수 전체의 집합에서 정의된 연속함수  $y=f(x)$ 의 그래프의 일부가 그림과 같다.



실수 전체의 집합에서 함수  $g(x)$ 를  $g(x)=\int_x^{x+2} f(t)dt$ 라 할 때, 옳은 것만을 <보기>에서 있는 대로 고른 것은?

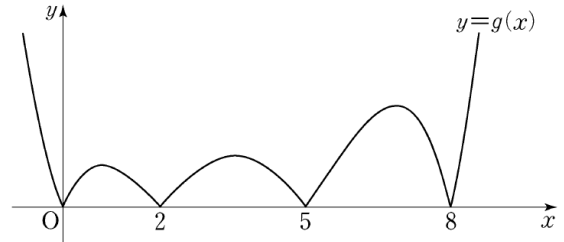
<보 기>

- ㄱ.  $g(-1)=0$
- ㄴ. 함수  $g(x)$ 는 열린구간  $(-2, 2)$ 에서 감소한다.
- ㄷ.  $-4 \leq x \leq 6$ 에서 방정식  $g(x)=2$ 의 모든 실근의 합은 4이다.

- ① ㄱ      ② ㄴ      ③ ㄱ, ㄴ
- ④ ㄱ, ㄷ    ⑤ ㄱ, ㄴ, ㄷ

[출처] 2012 모의\_공공 평가원 고3 11월 19

70. 삼차함수  $f(x)$ 는  $f(0)>0$ 을 만족시킨다. 함수  $g(x)$ 를  $g(x)=\left|\int_0^x f(t)dt\right|$ 라 할 때, 함수  $y=g(x)$ 의 그래프가 그림과 같다.



<보기>에서 옳은 것만을 있는 대로 고른 것은?

<보 기>

- ㄱ. 방정식  $f(x)=0$ 은 서로 다른 3개의 실근을 갖는다.
- ㄴ.  $f'(0)<0$
- ㄷ.  $\int_m^{m+2} f(x)dx>0$ 을 만족시키는 자연수  $m$ 의 개수는 3이다.

- ① ㄴ      ② ㄷ      ③ ㄱ, ㄴ
- ④ ㄱ, ㄷ    ⑤ ㄱ, ㄴ, ㄷ

[출처] 2016 모의\_공공 경찰대 고3 07월 11

71. 최고차항의 계수가 양수인 이차함수  $f(x)$ 에 대하여 함수  $g(x)$ 를

$$g(x) = \int_0^x |f(t) - 2t| dt$$

로 정의하자. 다음 조건을 만족시키는 이차함수  $f$  중에서  $f(1)$ 의 최솟값은?

$g'(x)$ 는 실수 전체의 집합에서 미분가능하다.

- ① 1                      ② 2                      ③ 3
- ④ 4                      ⑤ 5

[출처] 2017 모의\_공공 교육청 고2 11월 20

72. 함수  $f(x) = -x + 2 - t$ 에 대하여 함수  $g(t)$

$$g(t) = \int_0^t |f(x)| dx$$

라 하자. <보기>에서 옳은 것만을 있는 대로 고른 것은?  
(단,  $t > 0$ )

<보 기>

ㄱ.  $g(1) = \frac{1}{2}$

ㄴ. 함수  $g(t)$ 는  $t=2$ 에서 미분가능하다.

ㄷ. 방정식  $g(t) = \frac{2}{3}$ 는 서로 다른 두 실근을 갖는다.

- ① ㄱ                      ② ㄷ                      ③ ㄱ, ㄴ
- ④ ㄴ, ㄷ                ⑤ ㄱ, ㄴ, ㄷ

[출처] 2017 모의\_공공 교육청 고3 07월 20

73. 최고차항의 계수가 양수인 이차함수  $f(x)$ 에 대하여

$$g(x) = \int_0^x tf(t)dt$$

라 할 때, <보기>에서 옳은 것만을 있는 대로 고른 것은?

— <보 기> —

- ㄱ.  $g'(0)=0$
- ㄴ. 양수  $\alpha$ 에 대하여  $g(\alpha)=0$ 이면 방정식  $f(x)=0$ 은 열린 구간  $(0, \alpha)$ 에서 적어도 하나의 실근을 갖는다.
- ㄷ. 양수  $\beta$ 에 대하여  $f(\beta)=g(\beta)=0$ 이면 모든 실수  $x$ 에 대하여  $\int_{\beta}^x tf(t)dt \geq 0$ 이다.

- ① ㄱ            ② ㄷ            ③ ㄱ, ㄴ
- ④ ㄴ, ㄷ       ⑤ ㄱ, ㄴ, ㄷ

[출처] 2018 모의\_공공 교육청 고2 11월 21

74. 삼차함수  $f(x)=4x^3-24x^2+36x-8k$  ( $k$ 는 정수)에

대하여 실수 전체의 집합에서 연속인 함수  $g(x)$ 를

$$g(x) = \begin{cases} \int_0^x f(t)dt & (x \leq a \text{ 또는 } x \geq b) \\ c & (a < x < b) \end{cases}$$

라 하자. 어떤 정수  $k$ 에 대하여 함수  $g(x)$ 가 오직 한 점에서만 미분가능하지 않도록 세 실수  $a, b, c$ 를 정할 때,  $k+a+b+c$ 의 최솟값은?

- ① 1            ② 3            ③ 5
- ④ 7            ⑤ 9

[출처] 2019 모의\_공공 평가원 고3 09월 21

75. 함수  $f(x) = x^3 + x^2 + ax + b$ 에 대하여 함수  $g(x)$ 를

$$g(x) = f(x) + (x-1)f'(x)$$

라 하자. 보기에서 옳은 것만을 있는 대로 고른 것은?  
(단,  $a, b$ 는 상수이다.)

<보기>

- ㄱ. 함수  $h(x)$ 가  $h(x) = (x-1)f(x)$ 이면  $h'(x) = g(x)$ 이다.
- ㄴ. 함수  $f(x)$ 가  $x = -1$ 에서 극값 0을 가지면  $\int_0^1 g(x)dx = -1$ 이다.
- ㄷ.  $f(0) = 0$ 이면 방정식  $g(x) = 0$ 은 열린구간  $(0, 1)$ 에서 적어도 하나의 실근을 갖는다.

- ① ㄱ
- ② ㄴ
- ③ ㄱ, ㄴ
- ④ ㄱ, ㄷ
- ⑤ ㄱ, ㄴ, ㄷ

[출처] 2020 모의\_공공 교육청 고3 07월 20

76. 두 다항함수  $f(x), g(x)$ 가 다음 조건을 만족시킨다.

- (가)  $f'(x) = x^2 - 4x, g'(x) = -2x$
- (나) 함수  $y = f(x)$ 의 그래프와 함수  $y = g(x)$ 의 그래프는 서로 다른 두 점에서만 만난다.

<보기>에서 옳은 것만을 있는 대로 고른 것은?

<보기>

- ㄱ. 두 함수  $f(x)$ 와  $g(x)$ 는 모두  $x = 0$ 에서 극대이다.
- ㄴ.  $\{f(0) - g(0)\} \times \{f(2) - g(2)\} = 0$
- ㄷ. 모든 실수  $x$ 에 대하여  $\int_{-1}^x \{f(t) - g(t)\}dt \geq 0$ 이면  $\int_{-1}^1 \{f(x) - g(x)\}dx = 2$ 이다.

- ① ㄱ
- ② ㄱ, ㄴ
- ③ ㄱ, ㄷ
- ④ ㄴ, ㄷ
- ⑤ ㄱ, ㄴ, ㄷ

04 수2

09 정적분의 활용

01 정적분과 넓이

03 정적분과 넓이3 (그래프 그리기)

[출처] 2019 모의\_공공 경찰대 고3 07월 15

77. 두 곡선  $y = x^3 + 4x^2 - 6x + 5$ ,  $y = x^3 + 5x^2 - 9x + 6$ 이

만나는 점의  $x$ 좌표를  $\alpha, \beta$  ( $\alpha < \beta$ )라 할 때, 곡선  $y = 6x^5 + 4x^3 + 1$  과 두 직선  $x = \alpha, x = \beta$ 와  $x$ 축으로 둘러싸인 부분의 넓이는  $a\sqrt{5}$  이다. 자연수  $a$ 의 값은?

- ① 160      ② 162      ③ 164
- ④ 166      ⑤ 168

04 수2

09 정적분의 활용

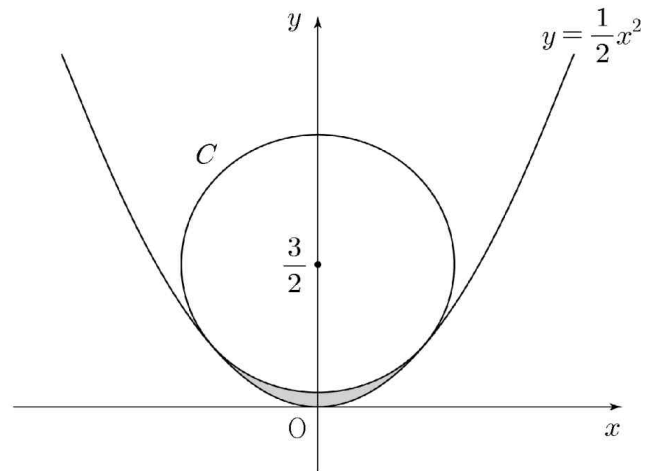
01 정적분과 넓이

07 정적분과 넓이7 (해석 후 넓이)

[출처] 2016 모의\_공공 교육청 고2 09월 29

78. 그림과 같이 중심이  $(0, \frac{3}{2})$ 이고, 반지름의 길이가

$r$  ( $r < \frac{3}{2}$ )인 원  $C$ 가 있다. 원  $C$ 가 함수  $y = \frac{1}{2}x^2$ 의 그래프와 서로 다른 두 점에서 만날 때, 원  $C$ 와 함수  $y = \frac{1}{2}x^2$ 의 그래프로 둘러싸인 모양의 넓이는  $a + b\pi$ 이다.  $120(a + b)$ 의 값을 구하시오. (단,  $a, b$ 는 유리수이다.)



04 수2

09 정적분의 활용

01 정적분과 넓이

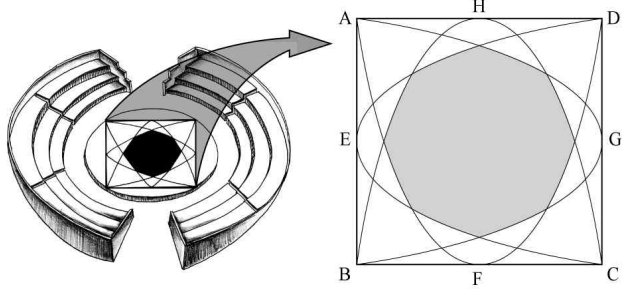
08 정적분과 넓이8 (함수결정 후 넓이)

[출처] 2011 모의\_공공 교육청 고3 07월 30

79. [그림1]은 무대 디자이너 길섭이가 야외공연

무대디자인 공모전에 출품한 작품이다. [그림1]의 중앙무대를 확대하면 [그림2]와 같고, 중앙 무대를 디자인하는 과정은 다음과 같다.

- (1) 한 변의 길이가 2인 정사각형 ABCD를 그리고 각 변의 중점을 각각 E, F, G, H라 한다.
- (2) 변 BC를 좌표평면 위의  $x$ 축과 평행하게 놓고 두 점 B, C를 지나며 점 H를 꼭짓점으로 하는 이차함수의 그래프와 두 점 A, D를 지나며 점 F를 꼭짓점으로 하는 이차함수의 그래프를 그린다.
- (3) 변 AB를 좌표평면 위의  $x$ 축과 평행하게 놓고 (2)와 같은 방법으로 세 점 A, B, G를 지나는 이차함수와 세 점 C, D, E를 지나는 이차함수의 그래프를 추가로 그린다.



[그림1]

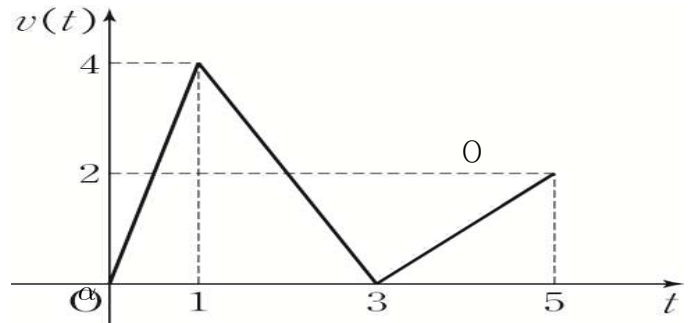
[그림2]

[그림2]의 어두운 부분의 넓이를  $\frac{p\sqrt{2}+q}{3}$  라 할 때,  $p-q$ 의 값을 구하시오. (단,  $p, q$ 는 정수이다.)

[출처]

2013 모의\_공공 교육청 고3 07월 14

80. 반지름의 길이가 1, 중심이 O인 원을 밑면으로 하고 높이가  $2\sqrt{2}$ 인 원뿔이 평면  $\alpha$  위에 놓여있다. 그림과 같이 원뿔을 평면  $\alpha$ 와 평행하고 원뿔의 밑면의 중심 O를 지나는 평면으로 자를 때 생기는 단면의 일부분은 포물선이다. 이때 단면의 넓이는?



- ①  $\frac{13}{8}$       ②  $\frac{7}{4}$       ③  $\frac{15}{8}$
- ④ 2      ⑤  $\frac{17}{8}$

[출처] 2016 모의\_공공 경찰대 고3 07월 19

81. 함수  $f(x)=x^4-6x^3+12x^2-8x+1$  과 이차함수  $g(x)$  는 어떤 실수  $\alpha$  에 대하여 다음 조건을 만족시킨다.

- (가)  $f(\alpha)=g(\alpha), f'(\alpha)=g'(\alpha)$
- (나)  $f(\alpha+1)=g(\alpha+1), f'(\alpha+1)=g'(\alpha+1)$

두 곡선  $y=f(x)$  와  $y=g(x)$  로 둘러싸인 영역의 넓이를  $S_1$ , 곡선  $y=g(x)$  와  $x$  축으로 둘러싸인 영역의 넓이를  $S_2$  라 할 때,  $\frac{S_2}{S_1}$  의 값은?

- ① 20
- ② 25
- ③ 30
- ④ 35
- ⑤ 40

[출처] 2016 모의\_공공 사관학교 고3 07월 30

82. 실수 전체의 집합에서 정의된 함수  $f(x)$  가 다음 조건을 만족시킨다.

- (가)  $x \geq 0$  일 때,  $f(x)=x^2-2x$  이다.
- (나) 모든 실수  $x$  에 대하여  $f(-x)+f(x)=0$  이다.

실수  $t$  에 대하여 닫힌 구간  $[t, t+1]$  에서 함수  $f(x)$  의 최솟값을  $g(t)$  라 하자. 좌표평면에서 두 곡선  $y=f(x)$  와  $y=g(x)$  로 둘러싸인 부분의 넓이는  $\frac{q}{p}$  이다.  $p+q$  의 값을 구하시오. (단,  $p$  와  $q$  는 서로소인 자연수이다.)

[출처] 2018 모의\_공공 평가원 고3 11월 17

83. 실수 전체의 집합에서 증가하는 연속함수  $f(x)$ 가 다음 조건을 만족시킨다.

(가) 모든 실수  $x$ 에 대하여  $f(x)=f(x-3)+4$ 이다.

(나)  $\int_0^6 f(x)dx=0$

함수  $y=f(x)$ 의 그래프와  $x$ 축 및 두 직선  $x=6$ ,  $x=9$ 로 둘러싸인 부분의 넓이는?

- ① 9            ② 12            ③ 15  
 ④ 18           ⑤ 21

[출처] 2021 모의\_공공 교육청 고3 10월 공통범위 20

84. 최고차항의 계수가 1인 삼차함수  $f(x)$ 가  $f(0)=0$ 이고, 모든 실수  $x$ 에 대하여  $f(1-x)=-f(1+x)$ 를 만족시킨다. 두 곡선  $y=f(x)$ 와  $y=-6x^2$ 으로 둘러싸인 부분의 넓이를  $S$ 라 할 때,  $4S$ 의 값을 구하시오.



04 수2

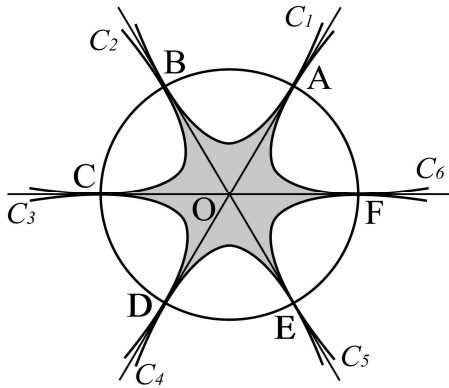
09 정적분의 활용

01 정적분과 넓이

09 정적분과 넓이9 (곡선과 접선으로 둘러싸인 도형의 넓이)

[출처] 2007 모의\_공공 교육청 고3 10월 공통범위 10

85. 그림과 같이 중심이 O이고 반지름의 길이가 2인 원의 둘레를 6등분하는 점을 각각 A, B, C, D, E, F라 하자. 두 점 A, B에서 두 직선 OA, OB에 접하는 포물선  $C_1$ 을 그리고, 두 점 B, C에서 두 직선 OB, OC에 접하는 포물선  $C_2$ 를 그린다.



이와 같은 방법으로 포물선  $C_3, C_4, C_5, C_6$ 을 그릴 때, 6개의 포물선으로 둘러싸인 부분의 넓이는?

- ①  $2\sqrt{3}$       ②  $\frac{5\sqrt{3}}{2}$       ③  $3\sqrt{3}$
- ④  $\frac{7\sqrt{3}}{2}$       ⑤  $4\sqrt{3}$

[출처]

2013 모의\_공공 경찰대 고3 07월 14

86. 좌표평면 위의 점  $P(\frac{1}{2}, -2)$ 에서 곡선  $y=x^2$ 에 그은 두 접선을  $l, m$ 이라 할 때, 두 접선  $l, m$ 과 곡선  $y=x^2$ 으로 둘러싸인 부분의 넓이는?

- ①  $\frac{3}{2}$               ②  $\frac{7}{4}$               ③  $\frac{1}{2}$
- ④  $\frac{9}{4}$               ⑤  $\frac{5}{2}$

[출처]

2014 모의\_공공 경찰대 고3 07월 25

87. 직선  $l$ 이 함수  $f(x)=x^4-2x^2-2x+3$ 의 그래프와 서로 다른 두 점에서 접할 때, 직선  $l$ 과 곡선  $y=f(x)$ 로 둘러싸인 영역의 넓이가  $A$ 이다.  $30A$ 의 값을 구하시오.

04 수2

09 정적분의 활용

02 정적분과 넓이의 해석

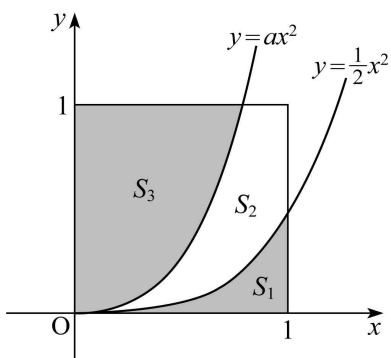
01 넓이와 해석1 (넓이조건과 관계식)

[출처] 2008 모의\_공공 교육청 고3 10월 공통범위 10

88. 그림과 같이 네 점 (0, 0), (1, 0), (1, 1), (0, 1)을

꼭짓점으로 하는 정사각형의 내부를 두 곡선  $y = \frac{1}{2}x^2$ ,

$y = ax^2$ 으로 나눈 세 부분의 넓이를 각각  $S_1, S_2, S_3$ 이라 하자.



$S_1, S_2, S_3$ 이 이 순서로 등차수열을 이룰 때, 양수  $a$ 의 값은?

- ①  $\frac{16}{9}$       ②  $\frac{17}{9}$       ③ 2
- ④  $\frac{19}{9}$       ⑤  $\frac{20}{9}$

[출처] 2021 모의\_공공 사관학교 고3 07월 공통범위 20

89. 양의 실수  $a$ 에 대하여 함수  $f(x)$ 를

$$f(x) = \begin{cases} \frac{3}{a}x^2 & (-a \leq x \leq a) \\ 3a & (x < -a \text{ 또는 } x > a) \end{cases}$$

라 하자. 함수  $y = f(x)$ 의 그래프와  $x$ 축 및 두 직선  $x = -3, x = 3$ 으로 둘러싸인 부분의 넓이가 8이 되도록 하는 모든  $a$ 의 값의 합은  $S$ 이다.  $40S$ 의 값을 구하시오.

04 수2

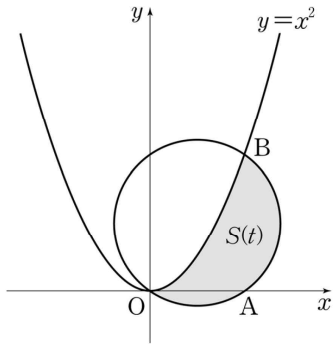
09 정적분의 활용

02 정적분과 넓이의 해석

03 넓이와 해석3 (넓이로 정의된 함수)

[출처] 2012 모의\_공공 평가원 고3 09월 29

90. 그림과 같이 곡선  $y=x^2$ 과 양수  $t$ 에 대하여 세 점  $O(0, 0)$ ,  $A(t, 0)$ ,  $B(t, t^2)$ 을 지나는 원  $C$ 가 있다. 원  $C$ 의 내부와 부등식  $y \leq x^2$ 이 나타내는 영역의 공통부분의 넓이를  $S(t)$ 라 할 때,  $S'(1) = \frac{p\pi+q}{4}$ 이다.  $p^2+q^2$ 의 값을 구하시오. (단,  $p, q$ 는 정수이다.)



04 수2

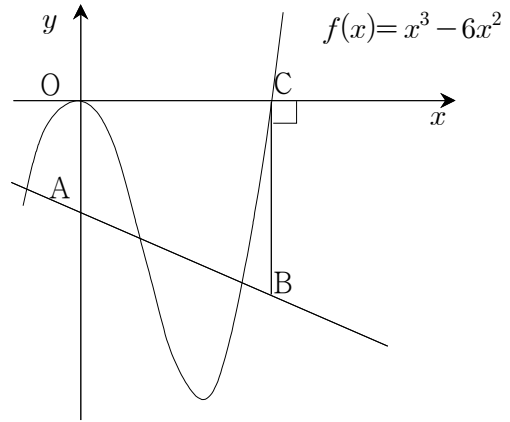
09 정적분의 활용

02 정적분과 넓이의 해석

04 넓이와 해석4 (넓이가 같은 조건)

[출처] 2009 모의\_공공 교육청 고3 07월 공통범위 23

91. 그림과 같이 임의로 그은 직선  $l$ 이  $y$ 축과 만나는 점을  $A$ , 점  $C(6, 0)$ 을 지나고  $y$ 축과 평행하게 그은 직선과의 교점을  $B$ 라 하자. 사다리꼴  $OABC$ 의 넓이가 곡선  $f(x)=x^3-6x^2$ 과  $x$ 축으로 둘러싸인 부분의 넓이와 같을 때, 임의의 직선  $l$ 은 항상 일정한 점  $D$ 를 지난다. 이 때,  $\triangle ODC$ 의 넓이를 구하시오. (단,  $\overline{AB}$ 는  $\overline{OC}$ 아래에 있다.)



04 수2

09 정적분의 활용

03 속도와 거리

01 속도와 거리1 (위치, 위치조건)

[출처] 2011 모의\_공공 교육청 고3 10월 19

92. 수직선 위를 움직이는 두 점 P, Q가 있다. 점 P는 점 A(5)를 출발하여 시각  $t$ 에서의 속도가  $3t^2 - 2$ 이고, 점 Q는 점 B( $k$ )를 출발하여 시각  $t$ 에서의 속도가 1이다. 두 점 P, Q가 동시에 출발한 후 2번 만나도록 하는 정수  $k$ 의 값은? (단,  $k \neq 5$ )

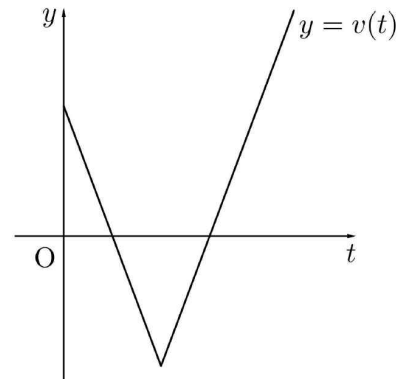
- ① 2                      ② 4                      ③ 6
- ④ 8                      ⑤ 10

[출처] 2022 모의\_공공 사관학교 고3 07월 공통범위 20

93. 원점을 출발하여 수직선 위를 움직이는 점 P의 시각  $t$  ( $t \geq 0$ )에서의 속도는  $v(t) = |at - b| - 4$  ( $a > 0, b > 4$ )이다. 시각  $t=0$ 에서  $t=k$ 까지 점 P가 움직인 거리를  $s(k)$ , 시각  $t=0$ 에서  $t=k$ 까지 점 P의 위치의 변화량을  $x(k)$ 라 할 때, 두 함수  $s(k), x(k)$ 가 다음 조건을 만족시킨다.

- (가)  $0 \leq k < 3$ 이면  $s(k) - x(k) < 8$ 이다.
- (나)  $k \geq 3$ 이면  $s(k) - x(k) = 8$ 이다.

시간  $t=1$ 에서  $t=6$ 까지 점 P의 위치의 변화량을 구하시오. (단,  $a, b$ 는 상수이다.)



04 수2                      09 정적분의 활용

---

03 속도와 거리

---

02 속도와 거리2 (속도, 가속도 조건)

[출처]            2021 모의\_공공 평가원 고3 예비 공통범위 14

94. 수직선 위를 움직이는 점 P의 시각  $t$ 에서의 가속도가

$$a(t) = 3t^2 - 12t + 9 (t \geq 0)$$

이고, 시각  $t=0$ 에서의 속도가  $k$ 일 때, <보기>에서 옳은 것만을 있는 대로 고른 것은?

— <보 기> —

- ㄱ. 구간  $(3, \infty)$ 에서 점 P의 속도는 증가한다.
- ㄴ.  $k=-4$ 이면 구간  $(0, \infty)$ 에서 점 P의 운동 방향이 두 번 바뀐다.
- ㄷ. 시각  $t=0$ 에서 시각  $t=5$ 까지 점 P의 위치의 변화량과 점 P가 움직인 거리가 같도록 하는  $k$ 의 최솟값은 0이다.

- ① ㄱ                      ② ㄴ                      ③ ㄱ, ㄴ
- ④ ㄱ, ㄷ                ⑤ ㄱ, ㄴ, ㄷ

04 수2                      09 정적분의 활용

---

03 속도와 거리

---

03 속도와 거리3 (이동거리)

[출처]            2010 모의\_공공 평가원 고3 11월 공통범위 17

95. 원점을 출발하여 수직선 위를 움직이는 점 P의 시각

$t (0 \leq t \leq 5)$ 에서의 속도  $v(t)$ 가 다음과 같다.

$$v(t) = \begin{cases} 4t & (0 \leq t < 1) \\ -2t+6 & (1 \leq t < 3) \\ t-3 & (3 \leq t \leq 5) \end{cases}$$

$0 < x < 3$ 인 실수  $x$ 에 대하여 점 P가

- 시각  $t=0$ 에서  $t=x$ 까지 움직인 거리,
- 시각  $t=x$ 에서  $t=x+2$ 까지 움직인 거리,
- 시각  $t=x+2$ 에서  $t=5$ 까지 움직인 거리

중에서 최소인 값을  $f(x)$ 라 할 때, 옳은 것만을 <보기>에서 있는 대로 고른 것은?

— <보 기> —

- ㄱ.  $f(1)=2$
- ㄴ.  $f(2)-f(1) = \int_1^2 v(t)dt$
- ㄷ. 함수  $f(x)$ 는  $x=1$ 에서 미분가능하다.

- ① ㄱ                      ② ㄴ                      ③ ㄱ, ㄴ
- ④ ㄱ, ㄷ                ⑤ ㄴ, ㄷ

[출처] 2017 모의\_공공 사관학교 고3 07월 14

96. 원점에서 동시에 출발하여 수직선 위를 움직이는 두 점 P, Q의 시각  $t(t \geq 0)$ 에서의 속도를 각각  $f(t), g(t)$ 라 하면

$$f(t) = t^2 + t, g(t) = 5t$$

이다. 두 점 P, Q가 출발 후 처음으로 만날 때까지 점 P가 움직인 거리는?

- ① 82            ② 84            ③ 86
- ④ 88            ⑤ 90

[출처] 2021 모의\_공공 사관학교 고3 07월 공통범위 11

97. 시각  $t=0$ 일 때 동시에 원점을 출발하여 수직선 위를 움직이는 두 점 P, Q의 시각  $t(t \geq 0)$ 에서의 속도가 각각

$$v_1(t) = 3t^2 - 6t, v_2(t) = 2t$$

이다. 두 점 P, Q가 시각  $t=a(a > 0)$ 에서 만날 때, 시각  $t=0$ 에서  $t=a$ 까지 점 P가 움직인 거리는?

- ① 22            ② 24            ③ 26
- ④ 28            ⑤ 30

[출처] 2021 모의\_공공 교육청 고3 07월 공통범위 14

98. 시각  $t=0$ 일 때 원점을 출발하여 수직선 위를 움직이는 점 P의 시각  $t(t \geq 0)$ 에서의 속도  $v(t)$ 가

$$v(t) = 3t^2 - 6t$$

일 때, <보기>에서 옳은 것만을 있는 대로 고른 것은?

<보 기>

- ㄱ. 시각  $t=2$ 에서 점 P가 움직이는 방향이 바뀐다.
- ㄴ. 점 P가 출발한 후 움직이는 방향이 바뀔 때 점 P의 위치는  $-4$ 이다.
- ㄷ. 점 P가 시각  $t=0$ 일 때부터 가속도가 12가 될 때까지 움직인 거리는 8이다.

- ① ㄱ            ② ㄱ, ㄴ            ③ ㄱ, ㄷ
- ④ ㄴ, ㄷ        ⑤ ㄱ, ㄴ, ㄷ

[출처] 2021 모의\_공공 평가원 고3 11월 14

99. 수직선 위를 움직이는 점 P의 시각  $t$ 에서의 위치

$x(t)$ 가 두 상수  $a, b$ 에 대하여

$$x(t) = t(t-1)(at+b) \quad (a \neq 0)$$

이다. 점 P의 시각  $t$ 에서의 속도  $v(t)$ 가  $\int_0^1 |v(t)| dt = 2$ 를

만족시킬 때, <보기>에서 옳은 것만을 있는 대로 고른 것은?

<보 기>

ㄱ.  $\int_0^1 v(t) dt = 0$

ㄴ.  $|x(t_1)| > 1$ 인  $t_1$ 이 열린구간  $(0, 1)$ 에 존재한다.

ㄷ.  $0 \leq t \leq 1$ 인 모든  $t$ 에 대하여  $|x(t)| < 1$ 이면  $x(t_2) = 0$ 인  $t_2$ 가 열린구간  $(0, 1)$ 에 존재한다.

- ① ㄱ                      ② ㄱ, ㄴ                      ③ ㄱ, ㄷ
- ④ ㄴ, ㄷ                      ⑤ ㄱ, ㄴ, ㄷ

04 수2

09 정적분의 활용

03 속도와 거리

05 속도와 거리5 (실생활)

[출처] 2005 모의\_공공 사관학교 고3 07월 28

100. 동일한 직선도로 위를 같은 방향으로 달리는 두

자동차 A와 B가 있다. 자동차 A가 매시 72 km의 속력으로 달리고 있던 중 P지점에 이르렀을 때, P지점에서 100 m 앞에 정지하고 있던 자동차 B를 발견하고 제동장치를 작동하여  $-5 \text{ m/초}^2$ 의 가속도로 운행하였다. A가 제동장치를 작동한지 4초가 되는 순간에 정지하고 있던 B는  $6 \text{ m/초}^2$ 의 가속도로 출발하였고, 동시에 A는  $10 \text{ m/초}^2$ 의 가속도로 계속하여 운행하였다. 이 때, P지점에서 A가 B를 추월하는 지점까지의 거리는 몇 m 인지를 구하시오.





[준킬러][수학2] 4적분(빠른 정답)

준킬러수2

2023.01.06

1. [정답] ④

2. [정답] ⑤

3. [정답] ②

4. [정답] ①

5. [정답] ②

6. [정답] 46

7. [정답] 28

8. [정답] 12

9. [정답] ⑤

10. [정답] ③

12.[정답] 45

13. [정답] 10.67

14. [정답] 18

15. [정답] ②

16. [정답] 27

17. [정답] 71

18. [정답] 13

19. [정답] 17

20. [정답] 19

21. [정답] 9

22. [정답] 167

23. [정답] ⑤

24. [정답] ②

25. [정답] ①

26. [정답] ②

27. [정답] ②

28. [정답] ⑤

29. [정답] ②

30. [정답] ⑤

31. [정답] 16

32. [정답] ⑤

33. [정답] 25

34. [정답] ①

35. [정답] ①

36. [정답] 102

37. [정답] ③

38. [정답] ②

39. [정답] 50

40. [정답] ④

41. [정답] 57

42. [정답] ④

43. [정답] ⑤

44. [정답] ③

45. [정답] ②

46. [정답] ②

47. [정답] ④

48. [정답] 8

49. [정답] 43

50. [정답] ②

51. [정답] ②

52. [정답] ⑤

53. [정답] 27

54. [정답] ⑤

55. [정답] ⑤

56. [정답] ①

57. [정답] ②

58. [정답] ②

59. [정답] 110

60. [정답] ⑤

61. [정답] 8

62. [정답] ⑤

63. [정답] ⑤

64. [정답] ②

65. [정답] 10

66. [정답] ③

67. [정답] ③

68. [정답] ④

69. [정답] ④

70. [정답] ⑤

71. [정답] ②

72. [정답] ⑤

73. [정답] ⑤

74. [정답] ②  
75. [정답] ⑤
76. [정답] ⑤  
77. [정답] ④  
78. [정답] 140  
79. [정답] 15  
80. [정답] ④
81. [정답] ⑤  
82. [정답] 35  
83. [정답] ④  
84. [정답] 2  
85. [정답] ①
86. [정답] ④  
87. [정답] **32**  
88. [정답] ①  
89. [정답] **290**  
90. [정답] 13
91. [정답] 54  
92. [정답] ②  
93. [정답] 14  
94. [정답] ④  
95. [정답] ①
96. [정답] ⑤  
97. [정답] ②  
98. [정답] ⑤  
99. [정답] ③  
100. [정답] 190

[준킬러][수학2] 4적분(해설)

준킬러수2

2023.01.06

1) [정답] ④

[해설]

$$F_n(x) = \int \frac{x^{3n}-1}{x^2+x+1} dx \text{에서}$$

$$\frac{x^{3n}-1}{x^2+x+1} = \frac{(x-1)(x^3-1)(x^{3(n-1)}+x^{3(n-2)}+\dots+x^3+1)}{(x-1)(x^2+x+1)}$$

$$= \frac{1}{3n-1}x^{3n-1} - \frac{1}{3n-2}x^{3n-2} + \frac{1}{3n-4}x^{3n-4} - \frac{1}{3n-5}x^{3n-5}$$

$$+ \dots + \frac{1}{5}x^5 - \frac{1}{4}x^4 + \frac{1}{2}x^2 - x + C \quad \dots \textcircled{1}$$

주어진 조건

$$F_n(1) = \frac{1}{3n-1} - \frac{1}{3n-2} + \frac{1}{3n-4} - \frac{1}{3n-5} + \dots + \frac{1}{2} - 1$$

로 부터 적분상수  $C=0$ 이다. 따라서  $F_n(0)=0$ 이다.

2) [정답] ⑤

[해설]

$$\lim_{x \rightarrow 0} \frac{g(x)-1}{x} = 0 \text{에서 } g(0)=1, g'(0)=0$$

$$f(1+0) = f(1)g(0) + f(0)g(1) \text{에서 } f(0)g(1) = 0$$

$$g(1+0) = g(1)g(0) + f(1)f(0) \text{에서 } f(1)f(0) = 0$$

$$f(1)=1 \text{이므로 } f(0)=0$$

$$\begin{aligned} \neg. f'(x) &= \lim_{y \rightarrow 0} \frac{f(x+y)-f(x)}{y} \\ &= \lim_{y \rightarrow 0} \frac{f(x)g(y) + f(y)g(x) - f(x)}{y} \\ &= \lim_{y \rightarrow 0} f(x) \frac{g(y)-1}{y} + \lim_{y \rightarrow 0} \frac{f(y)}{y} g(x) \\ &= f'(0)g(x) \quad \dots \textcircled{1} \end{aligned}$$

추가로

$$\begin{aligned} g'(x) &= \lim_{y \rightarrow 0} \frac{g(x+y)-g(x)}{y} \\ &= \lim_{y \rightarrow 0} \frac{g(x)g(y) + f(y)f(x) - g(x)}{y} \\ &= \lim_{y \rightarrow 0} g(x) \frac{g(y)-1}{y} + \lim_{y \rightarrow 0} \frac{f(y)}{y} f(x) \\ &= f'(0)f(x) \quad \dots \textcircled{2} \end{aligned}$$

ㄷ. ①, ② 에서

$$f'(0) = \frac{g'(x)}{f(x)} = \frac{f'(x)}{g(x)}$$

정리하면

$$2g(x)g'(x) - 2f(x)f'(x) = 0$$

적분하면

$$\{g(x)\}^2 - \{f(x)\}^2 = 1 \quad (\because g(0)=1, f(0)=0)$$

ㄴ. ㄷ에서  $\{g(x)\}^2 = 1 + \{f(x)\}^2 \geq 1$ 이므로

$x=0$ 를 포함하는 열린구간에서  $0 < g(x) \leq 1$ 인 점이

없다. 따라서 이 열린구간에서  $g(x) \geq 1 = g(0)$ 이므로

$x=0$ 에서 극솟값 1을 갖는다.

3) [정답] ②

[해설]

주어진 항등식의 우변에  $3xy(x-y)$  으로부터

$$f(x) = -x^3 + kx \text{이다. 따라서 } f'(x) = -3x^2 + k$$

$$f'(2) = -12 + k = 0, f(2) = -8 + 2k = a, k = 12, a = 16$$

$$f'(0) = k = b, b = 12 \therefore a - b = 16 - 12 = 4$$

4) [정답] ①

[해설]

함수  $f'(x)$  는 삼차함수이고

$$f'(0) = f'(\sqrt{2}) = f'(-\sqrt{2}) = 0 \text{이므로}$$

$$f'(x) = kx(x + \sqrt{2})(x - \sqrt{2})$$

$$= kx(x^2 - 2)$$

$$= kx^3 - 2kx \quad (\text{단, } k \text{는 상수})$$

$$f(x) = \frac{k}{4}x^4 - kx^2 + C \quad (\text{단, } C \text{는 적분상수})$$

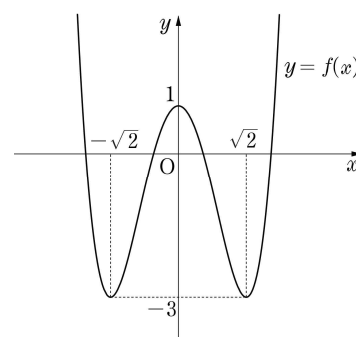
$$f(0) = C = 1$$

$$f(\sqrt{2}) = k - 2k + C = -k + 1 = -3$$

이므로  $k = 4$

$$\text{따라서 } f(x) = x^4 - 4x^2 + 1$$

함수  $y = f(x)$  의 그래프는 그림과 같다.



$$f(-2) = f(2) = 1 > 0,$$

$$f(-1) = f(1) = -2 < 0$$

이므로

$f(m)f(m+1) < 0$ 을 만족시키는 정수는  $-2, -1, 0, 1$ 이다.

따라서  $f(m)f(m+1) < 0$ 을 만족시키는 모든 정수  $m$ 의 값의

합은  $-2$

5) [정답] ②

[해설]

조건 (나)에서  $f'(x) = ax(x-1)(x-3)$  ( $a < 0$ )이라 하면

조건 (가)에서  $f'(4) = -24$ 이므로

$$f'(4) = 12a = -24 \text{에서 } a = -2$$

따라서  $f'(x) = -2x(x-1)(x-3) = -2x^3 + 8x^2 - 6x$ 이므로

$$f(x) = -\frac{1}{2}x^4 + \frac{8}{3}x^3 - 3x^2 + 2 \quad (\because f(0) = 2)$$

$$\therefore f(2) = \frac{10}{3}$$

6) [정답] 46

[해설]

나눗셈 정리를 이용하면

$$P(x) = (x-1)^3 Q(x) + 8 \dots (1)$$

$$= (x+1)^3 R(x) - 8 \dots (2)$$

양변을  $x$ 에 관하여 미분하면

$$P'(x) = 3(x-1)^2 Q(x) + (x-1)^3 Q'(x)$$

$$= (x-1)^2 \{3Q(x) + (x-1)Q'(x)\}$$

$$= 3(x+1)^2 R(x) + (x+1)^3 R'(x)$$

$$= (x+1)^2 \{3R(x) + (x+1)R'(x)\}$$

따라서

$$P'(x) = a(x-1)^2(x+1)^2 = a(x^2-1)^2 \dots (3)$$

이 식을  $x$ 에 관하여 적분하면

$$P(x) = \frac{1}{5}ax^5 - \frac{2}{3}ax^3 + ax + C \dots (4)$$

식 (1)과 식 (2)에서  $P(1) = 8, P(-1) = -8$ 이므로 식 (4)로부터

$$P(1) = \frac{1}{5}a - \frac{2}{3}a + a + C = \frac{8}{15}a + C = 8 \dots (5)$$

$$P(-1) = -\frac{1}{5}a + \frac{2}{3}a - a + C = -\frac{8}{5}a + C = -8 \dots (6)$$

식 (5)와 (6)을 연립하여 풀면  $a = 15, C = 0$ 이다.

따라서

$$P(x) = 3x^5 - 10x^3 + 15x$$

$$\therefore P(2) = 3 \cdot 2^5 - 10 \cdot 2^3 + 15 \cdot 2$$

$$= 96 - 80 + 30 = 46$$

7) [정답] 28

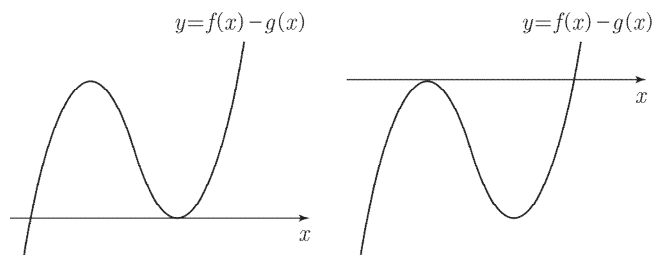
[해설]

$$f'(x) - g'(x) = 6x^2 - 2x \text{이므로}$$

$$f(x) - g(x) = 2x^3 - x^2 + C \text{이다.}$$

$y = f(x)$ 와  $y = g(x)$ 가 서로 다른 두 점에서 만나므로 방정식  $f(x) - g(x) = 0$ 은 서로 다른 두 실근을 갖는다.

$f(x) - g(x)$ 는 삼차함수이므로 방정식  $f(x) - g(x) = 0$ 은 서로 다른 두 실근을 갖기 위해서는 함수  $f(x) - g(x)$ 의 (극솟값) = 0 또는 (극댓값) = 0이어야 한다.



$$f'(x) - g'(x) = 2x(3x-1) = 0 \text{에서}$$

$$x = 0 \text{ 또는 } x = \frac{1}{3} \text{이므로}$$

$$f(0) - g(0) = C = 0$$

$$\text{또는 } f\left(\frac{1}{3}\right) - g\left(\frac{1}{3}\right) = \frac{2}{27} - \frac{1}{9} + C = 0$$

$$\therefore C = 0 \text{ 또는 } C = \frac{1}{27}$$

$$\therefore \frac{q}{p} = 0 + \frac{1}{27} = \frac{1}{27}$$

$$\therefore p = 27, q = 1, p + q = 28$$

8) [정답] 12

[해설]

$$f(x) = \frac{1}{4}(x-1)^4 + C \text{ 에서 } M = f(1) = C$$

$$f'(0) = -1, f'(2) = 1$$

$$x=0 \text{에서의 접선은 } y = -x + \frac{1}{4} + C$$

$$x=2 \text{에서의 접선은 } y = (x-2) + \frac{1}{4} + C$$

$$-x + \frac{1}{4} + C = x - 2 + \frac{1}{4} + C \text{ 에서 } x=1 \text{이므로}$$

$$N = C - \frac{3}{4}$$

$$\therefore 16(M-N) = 12$$

9) [정답] ⑤

[해설]

$$f(x) = x(x-\alpha)^2 \text{ 이고, } g'(x) = (xf(x))' \text{ 이므로}$$

$$g(x) = xf(x) + C, g(x) = x^2(x-\alpha)^2 + C$$

$$g'(x) = 2x(x-\alpha)^2 + 2x^2(x-\alpha) = 2x(x-\alpha)(2x-\alpha)$$

$y = g(x)$ 는  $x=0, x=\alpha$ 에서 극솟값,  $x = \frac{\alpha}{2}$ 에서 극댓값을

$$\text{찾는다. } g\left(\frac{\alpha}{2}\right) = 81, g(0) = g(\alpha) = 0$$

이를 이용하여  $\alpha$ 와  $g(x)$ 를 구하면  $\alpha = 6, g(x) = x^2(x-6)^2$

$$\therefore g\left(\frac{\alpha}{3}\right) = g(2) = 64$$

<별해>

함수  $f(x)$ 를 구하면  $f(x) = x(x-\alpha)^2$ 이므로,

$$f'(x) = (x-\alpha)^2 + 2x(x-\alpha), g'(x) = f(x) + xf'(x) \text{ 이므로}$$

$$g'(x) = 4x^3 - 6\alpha x^2 + 2\alpha^2 x = 2x(x-\alpha)(2x-\alpha)$$

$y = g(x)$ 는  $x=0, x=\alpha$ 에서 극솟값,  $x = \frac{\alpha}{2}$ 에서 극댓값을

$$\text{찾는다. } g\left(\frac{\alpha}{2}\right) = 81, g(0) = g(\alpha) = 0$$

이를 이용하여  $\alpha$ 와  $g(x)$ 를 구하면  $\alpha = 6, g(x) = x^2(x-6)^2$

$$\therefore g\left(\frac{\alpha}{3}\right) = g(2) = 64$$

10) [정답] ③

[해설]

ㄱ.  $f(x) = a(x+1)(x-1)(x-2) (a < 0)$ 라 하자.

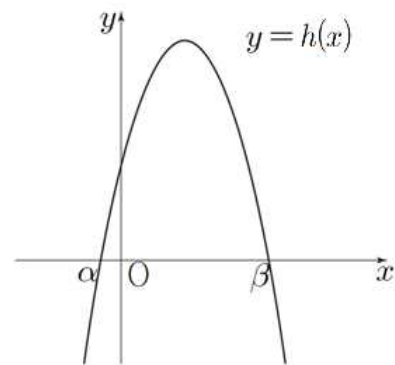
$1 < x < 2$ 일 때,  $f(x) > 0$

$$\int_1^2 f(x) dx > 0 \therefore (\text{참})$$

ㄴ.  $h(x) = f'(x) = a(3x^2 - 4x - 1)$

$$h(0) = -a > 0 \therefore (\text{거짓})$$

ㄷ. 방정식  $h(x) = 0$ 의 서로 다른 두 실근을  $\alpha, \beta (\alpha < \beta)$ 라 하자.



$\int_m^n h(x) dx$ 의 값이 최대가 되려면

달린 구간  $[m, n]$ 이  $h(x) \geq 0$ 를 만족시키는 구간과 일치하여야 하므로  $m = \alpha, n = \beta$

$$\therefore m+n = \alpha + \beta = \frac{4}{3} \therefore (\text{참})$$

따라서 옳은 것은 ㄱ, ㄷ

11)

12) [정답] 45

[해설]

$f(0) = 0$ 이므로  $f(x) = ax^2 + bx (a \neq 0)$ 라 하자.

조건 (가)에 의하여

$$\int_0^2 |f(x)| dx = 4, \int_0^2 f(x) dx = -4$$

이므로 구간  $[0, 2]$ 에서  $f(x) \leq 0$ 이다.

또한, 조건 (나)에 의하여

$$\int_2^3 |f(x)| dx = \int_2^3 f(x) dx$$

이므로 구간  $[2, 3]$ 에서  $f(x) \geq 0$ 이다.

따라서  $f(2) = 0$ 이므로

$$f(2)=4a+2b=0$$

$$\therefore b=-2a$$

즉,  $f(x)=ax^2-2ax$  이므로

$$\int_0^2 (ax^2-2ax)dx = \left[ \frac{a}{3}x^3 - ax^2 \right]_0^2$$

$$= \frac{8}{3}a - 4a = -\frac{4}{3}a = -4$$

$$\therefore a=3$$

따라서  $f(x)=3x^2-6x$  이므로

$$f(5)=3 \times 5^2 - 6 \times 5 = 75 - 30 = 45$$

13) [정답] 10.67

[해설]

$$f(x) = \begin{cases} 32x & (0 \leq x \leq 1) \\ -32x+64 & (1 \leq x \leq 2) \end{cases}$$

$$g(x) = \begin{cases} -2x+1 & \left(0 \leq x \leq \frac{1}{2}\right) \\ \frac{2}{3}x - \frac{1}{3} & \left(\frac{1}{2} \leq x \leq 2\right) \end{cases}$$

(i)  $0 \leq x \leq \frac{1}{2}$  일 때,

$$f(g(x)) = f(-2x+1) = 32(-2x+1) = -64x+32$$

(ii)  $\frac{1}{2} \leq x \leq 2$  일 때,

$$f(g(x)) = f\left(\frac{2}{3}x - \frac{1}{3}\right) = 32\left(\frac{2}{3}x - \frac{1}{3}\right) = \frac{64}{3}x - \frac{32}{3}$$

$$\frac{1}{3} \int_0^2 f(g(x))dx$$

$$= \frac{1}{3} \left\{ \int_0^{\frac{1}{2}} (-64x+32)dx + \int_{\frac{1}{2}}^2 \left(\frac{64}{3}x - \frac{32}{3}\right)dx \right\}$$

$$= \frac{1}{3} \left\{ \left[-32x^2+32x\right]_0^{\frac{1}{2}} + \left[\frac{32}{3}x^2 - \frac{32}{3}x\right]_{\frac{1}{2}}^2 \right\}$$

$$= \frac{1}{3}(8+24) = \frac{32}{3} = 10.666\cdots$$

$$\therefore 10.67$$

14) [정답] 18

[해설]

$$f(xy+1) = xg(y) + h(x+y) \cdots \cdots \textcircled{1}$$

$\textcircled{1}$ 의 양변에  $x=0$  을 대입하면  $f(1)=h(y)$

$f(1)=1$ 이고 위 식은 모든 실수  $y$ 에 대하여 성립해야하므로

$h(x)$ 는 상수함수이다.  $\therefore h(x)=1$

따라서  $\textcircled{1}$ 의 식은  $f(xy+1) = xg(y) + 1 \cdots \cdots \textcircled{2}$

$\textcircled{2}$ 의 양변에  $y=1$ 을 대입하면  $f(x+1) = xg(1) + 1$

$g(1)=2$ 이므로  $f(x+1) = 2x+1 \quad \therefore f(x) = 2x-1 \cdots \cdots \textcircled{3}$

따라서  $f(x+1) = 2(xy+1) - 1 = 2xy+1$ 이므로

$\textcircled{2}$ 에서  $2xy+1 = xg(y) + 1$

따라서  $g(y) = 2y$  즉,  $g(x) = 2x$ 이다.

$$\therefore f(x) + g(x) + h(x) = 4x$$

$$\therefore \int_0^3 \{f(x) + g(x) + h(x)\}dx = \int_0^3 4xdx = [2x^2]_0^3 = 18$$

[별해]

$$f(xy+1) = xg(y) + h(x+y) \cdots \textcircled{1}$$

(1)  $\textcircled{1}$ 에  $x=0$  을 대입하면

$$f(1) = h(y); h(y) = 1 \quad \therefore h(x) = 1$$

(2)  $h(x) = 1$  이므로  $\textcircled{1}$ 에서  $f(xy+1) = xg(y) + 1 \cdots \textcircled{2}$

$\textcircled{2}$ 에  $y=1$  을 대입하면  $f(x+1) = xg(1) + 1 = 2x+1$

$\therefore x$  대신  $x-1$  을 대입하면  $f(x) = 2(x-1) + 1 = 2x-1$

이 때,  $\textcircled{2}$ 에서

$$2(xy+1) - 1 = xg(y) + 1; 2xy = xg(y); g(y) = 2y$$

$$\therefore g(x) = 2x$$

$$\therefore \int_0^3 \{f(x) + g(x) + h(x)\}dx$$

$$= \int_0^3 \{(2x-1) + 2x + 1\}dx$$

$$= \int_0^3 4xdx = [2x^2]_0^3 = 2 \cdot 3^2 = 18$$

15) [정답] ②

[해설]

함수  $f(x), g(x)$ 가 모든 실수에서 미분가능하므로

$$g(x) = \begin{cases} 3ax^2 + 2bx + c & (x < 1) \\ 3p(x-2)^2 + 2q(x-2) + r & (x \geq 1) \end{cases}$$

$$g'(x) = \begin{cases} 6ax + 2b & (x < 1) \\ 6p(x-2) + 2q & (x \geq 1) \end{cases}$$

함수  $f(x)$ 가  $x=1$ 에서 연속일 조건으로부터

$$a+b+c+1=1, -p+q-r+5=1$$

$$\therefore a+b+c=0$$

$\cdots \cdots \textcircled{1}$ ,

$p - q + r = 4$  ..... ㉠  
 함수  $f(x)$ 가  $x = 1$ 에서 미분 가능할 조건으로부터  
 $3a + 2b + c = 3p - 2q + r$  ..... ㉡  
 함수  $g(x)$ 가  $x = 1$ 에서 미분 가능할 조건으로부터  
 $6a + 2b = -6p + 2q$  ..... ㉢  
 $g'(0) = g'(2) = 0$ 인 조건으로부터  
 $2b = 2q = 0$   
 $\therefore b = q = 0$  ..... ㉣

㉠, ㉡, ㉢, ㉣, ㉤에서

$a = 1, b = 0, c = -1$

$p = -1, q = 0, r = 5$

$$\begin{aligned} \therefore \int_0^1 f(x) dx &= \int_0^1 (x^3 - x + 1) dx \\ &= \left[ \frac{x^4}{4} - \frac{x^2}{2} + x \right]_0^1 \\ &= \frac{3}{4} \end{aligned}$$

16) [정답] 27

[해설]

$f(x) = x^3 + ax^2 + bx + c$  (단,  $a, b, c$ 는 상수) 라 하면

조건 (가)에 의하여  $c = 0$

$f'(x) = 3x^2 + 2ax + b$ 에서

조건 (나)에 의하여  $a = -6$

$f'(x) = 3x^2 - 12x + b$

$= 3(x - 2)^2 + b - 12$

조건 (다)에 의하여  $b \geq 9$  이고

$$\begin{aligned} \int_0^3 f(x) dx &= \int_0^3 (x^3 - 6x^2 + bx) dx \\ &= \left[ \frac{x^4}{4} - 2x^3 + \frac{b}{2}x^2 \right]_0^3 \\ &= -\frac{135}{4} + \frac{9b}{2} \geq \frac{27}{4} \quad (\because b \geq 9) \end{aligned}$$

$b = 9$  일 때, 최솟값  $m = \frac{27}{4}$

따라서  $4m = 27$

17) [정답] 71

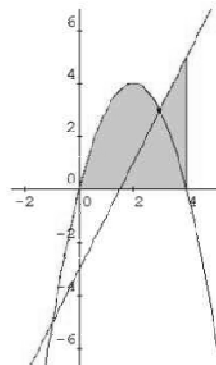
[해설]

$$\begin{aligned} \int_1^{10} f(x) dx &= \int_0^{10} f(x) dx - \int_0^1 f(x) dx \\ &= \int_0^2 f(x) dx + \int_2^4 f(x) dx + \int_4^6 f(x) dx \\ &\quad + \int_6^8 f(x) dx + \int_8^{10} f(x) dx - \int_0^1 f(x) dx \\ &= 5 \times 4 - \int_0^1 (x^3 - 6x^2 + 8x) dx \\ &= 20 - \frac{9}{4} = \frac{71}{4} \end{aligned}$$

따라서  $4 \int_1^{10} f(x) dx = 71$

18) [정답] 13

[해설]



$f(x) = f(x)(f(x) \geq g(x))$

$g(x)(f(x) < g(x))$

3이 극솟값이면 그림과 같이 직선  $g(x) = 2x - a$ 는 점 (3, 3)을 지난다

따라서  $a = -3$

$$\begin{aligned} \int_0^4 h(x) dx &= \int_0^3 (-x^2 + 4x) dx + \int_3^4 (2x - 3) dx \\ &= \left[ -\frac{1}{3}x^3 + 2x^2 \right]_0^3 + \left[ x^2 - 3x \right]_3^4 \\ &= 13 \end{aligned}$$

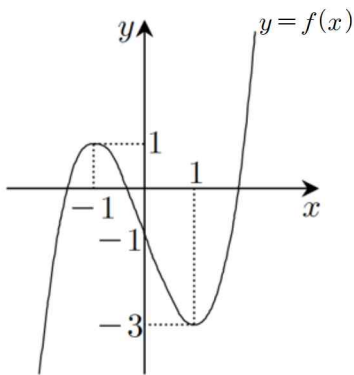
19) [정답] 17

[해설]

$f(x) = x^3 - 3x - 1$ 에서  $f'(x) = 3x^2 - 3$

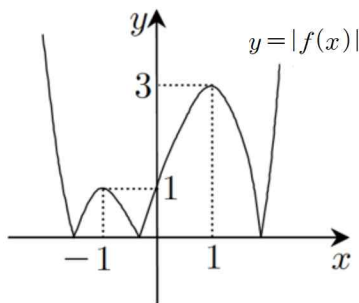
따라서  $f'(x)=0$ 이 되는  $x$ 의 값은  $\pm 1$ 이다.

이때,  $f(1)=-3, f(-1)=1$ 이므로  $y=f(x)$ 의 그래프는 다음과 같다.



[그림1]

따라서 함수  $y=|f(x)|$ 의 그래프를 그려보면 다음과 같다.

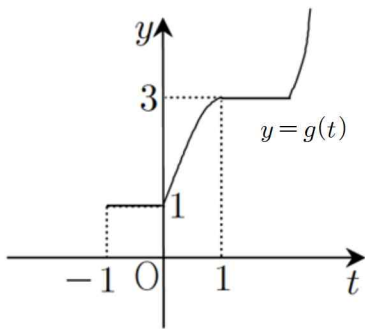


[그림2]

따라서  $-1 \leq x \leq t$ 에서  $|f(x)|$ 의 최댓값  $g(t)$ 는 구간  $[-1, 1]$ 에서 다음과 같이 나타낼 수 있다.

$$g(t) = \begin{cases} 1 & (-1 \leq t \leq 0) \\ -t^3 + 3t + 1 & (0 \leq t \leq 1) \end{cases}$$

따라서 함수  $y=g(t)$ 의 그래프는 다음 그림과 같다.



[그림3]

$$\begin{aligned} \therefore \int_{-1}^1 g(t) dt &= \int_{-1}^0 g(t) dt + \int_0^1 (-t^3 + 3t + 1) dt \\ &= \int_{-1}^0 1 dt + \int_0^1 (-t^3 + 3t + 1) dt = [t]_{-1}^0 + \left[-\frac{1}{4}t^4 + \frac{3}{2}t^2 + t\right]_0^1 \\ &= 1 + \left(-\frac{1}{4} + \frac{3}{2} + 1\right) = \frac{13}{4} \therefore p+q = 4 + 13 = 17 \end{aligned}$$

20) [정답] 19

[해설]

절댓값을 풀면

$$f(x) = \begin{cases} x^2 + 2x - 2t & (x < t) \\ x^2 - 2x + 2t & (x \geq t) \end{cases}$$

$$f(x) \text{의 최댓값} = g(t) = \begin{cases} 2t + 3 & (t < -1) \\ t^2 & (-1 \leq t \leq 1) \\ 3 - 2t & (1 < t) \end{cases}$$

$$\text{따라서 } \int_0^{\frac{3}{2}} g(t) dt = \int_0^1 t^2 dt + \int_1^{\frac{3}{2}} (3 - 2t) dt = \frac{7}{12}$$

그러므로  $p+q=19$

21) [정답] 9

[해설]

i)  $x < 1$  일 때,  $\int_0^x (-t+1) dt = x$  이므로

$$-\frac{x^2}{2} + x = x \therefore x = 0$$

ii)  $x \geq 1$  일 때,

$$\int_0^1 (-t+1) dt + \int_1^x (t-1) dt = x$$

$$\frac{1}{2} + \left(\frac{x^2}{2} - x + \frac{1}{2}\right) = x \Leftrightarrow x^2 - 4x + 2 = 0$$

$$\therefore x = 2 + \sqrt{2} (\because x \geq 1)$$

i), ii)에 의해 양수인 실근은  $x = 2 + \sqrt{2}$  이므로  $m=2, n=1$ 이다. 따라서  $m^3+n^3=9$

22) [정답] 167

[해설]

함수  $f(x)$ 가 점 (3, 7), (4, 8), (5, 10), (6, 13)을 지나고

$1 \leq f'(x) \leq 3$ 이므로

(1) 두 점 (3, 7), (4, 8)의 기울기가 1이므로

$$3 \leq x \leq 4 \text{에서 } f(x) = x + 4$$

(2) 두 점 (5, 10), (6, 13)의 기울기가 3

이므로  $5 \leq x \leq 6$ 에서  $f(x) = 3x - 5$



(3) 주어진 조건에 의해 (4, 8)과 (5, 10)을 지나는 함수는 이차함수이고

$$f(x) = ax^2 + bx + c, \quad f'(x) = 2ax + b$$

실수 전체의 집합에서 미분가능하므로

$$f'(4) = 8a + b = 1, \quad f'(5) = -10a + b = 3$$

$$a = 1, \quad b = -7, \quad f(4) = 8 \text{에서 } c = 20$$

(1), (2), (3)에 의해

$$\int_3^6 f(x)dx = \int_3^4 (x+4)dx + \int_4^5 (x^2 - 7x + 20)dx + \int_5^6 (3x-5)dx$$

$$= \frac{167}{6}$$

$$\therefore 6a = 167$$

23) [정답] ⑤

[해설]

ㄱ.  $x=4$ 의 좌우에서  $f'(x)$ 의 부호가 음에서 양으로 바뀌므로  $x=4$ 에서 극솟값을 갖는다. (참)

ㄴ. 사차함수  $f(x)$ 는 구간  $(a, t)$ 에서 미분가능하고 구간  $[a, t]$ 에서 연속이므로 평균값 정리에 의하여

$$\frac{f(t) - f(a)}{t - a} = f'(c)$$

인  $c$ 가 구간  $(a, t)$ 에 존재한다. 또한

사차함수  $f(x)$ 는 구간  $(t, b)$ 에서 미분가능하고 구간  $[t, b]$ 에서 연속이므로 평균값 정리에 의하여

$$\frac{f(t) - f(b)}{t - b} = \frac{f(b) - f(t)}{b - t} = f'(d)$$

인  $d$ 가 구간  $(t, b)$ 에 존재한다.

함수  $f'(x)$ 가 구간  $(a, b)$ 에서 감소하고

$a < c < t < d < b$ 이므로  $f'(c) > f'(d)$ 이다.

그러므로

$$\frac{f(t) - f(a)}{t - a} = f'(c) > f'(d) = \frac{f(b) - f(t)}{b - t}$$

이다. (참)

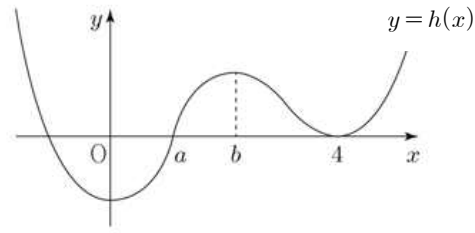
ㄷ. 함수  $h(x)$ 를  $h(x) = f(x) - f(a)$ 라 하자.

주어진 조건에 의하여 함수  $y = h(x)$ 는

$x = 0, b, 4$ 일 때 극값을 갖는다.

$$0 = \int_a^4 f'(x)dx = f(4) - f(a) \text{이므로 } h(4) = 0$$

함수  $h(x)$ 의 그래프의 모양은



이므로 곡선  $y = h(x)$ 와  $x$ 축은 서로 다른 세 점에서 만난다. 그러므로 곡선  $y = f(x)$ 와 직선  $y = f(a)$ 는 서로 다른 세 점에서 만난다. (참)

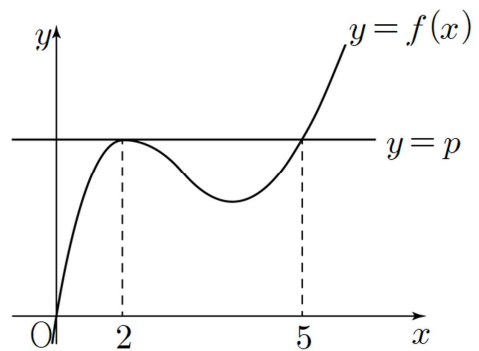
따라서 옳은 것은 ㄱ, ㄴ, ㄷ

24) [정답] ②

[해설]

조건 (가)와 조건 (나)를 만족시키는

함수  $y = f(x)$ 의 그래프는 그림과 같다.



$$f(x) - p = (x-2)^2(x-5)$$

$$f(0) = 0 \text{이므로 } p = 20$$

$$f(x) = (x-2)^2(x-5) + 20 = x^3 - 9x^2 + 24x$$

$$\int_0^2 f(x)dx = \int_0^2 (x^3 - 9x^2 + 24x)dx$$

$$= \left[ \frac{1}{4}x^4 - 3x^3 + 12x^2 \right]_0^2 = 28$$

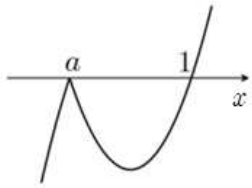
25) [정답] ①

[해설]

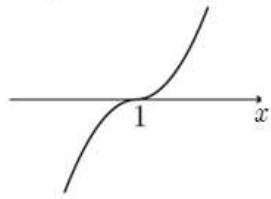
$$f(x) = \begin{cases} (x-1)(x-a) & (x \geq a) \\ -(x-1)(x-a) & (x < a) \end{cases}$$

함수  $y = f(x)$ 의 그래프는 그림과 같다.

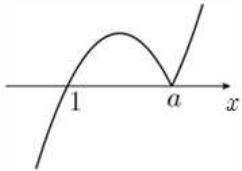
(i)  $a < 1$  일 때



(ii)  $a = 1$  일 때



(iii)  $a > 1$  일 때

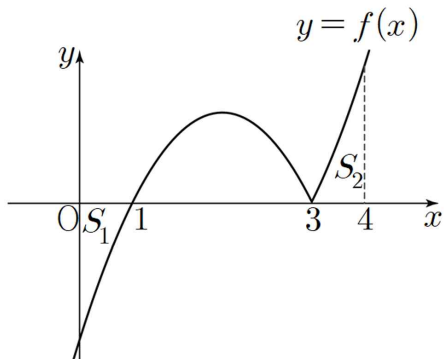


함수  $f(x)$ 의 극댓값이 1이므로 그래프의 개형은 (iii)과 같아야 하고, 극댓값을 갖는  $x$ 의 값은  $\frac{a+1}{2}$

$$f\left(\frac{a+1}{2}\right) = -\left(\frac{a+1}{2} - 1\right)\left(\frac{a+1}{2} - a\right) = 1$$

$$\frac{(a-1)^2}{4} = 1, \quad a > 1 \text{ 이므로 } a = 3$$

그림과 같이 영역  $S_1$ 의 넓이와 영역  $S_2$ 의 넓이가 같으므로



$$\int_0^4 f(x) dx = \int_1^3 \{-(x-1)(x-3)\} dx$$

$$= \left[ -\frac{1}{3}x^3 + 2x^2 - 3x \right]_1^3 = \frac{4}{3}$$

26) [정답] ②

[해설]

방정식  $f'(x) = 0$ 의 서로 다른 세 실근  $\alpha, 0, \beta$  ( $\alpha < 0 < \beta$ )가 이 순서대로 등차수열을 이루므로  $\beta = -\alpha$

$$f'(x) = 4x(x-\alpha)(x+\alpha)$$

$$f(x) = x^4 - 2\alpha^2 x^2 + C \quad (\text{단, } C \text{는 적분상수이다.})$$

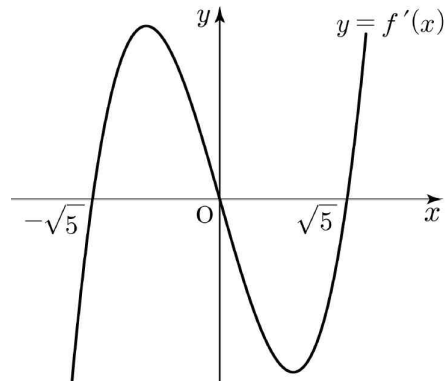
$f(-x) = f(x)$ 이므로 함수  $y = f(x)$ 의 그래프는  $y$ 축에 대하여 대칭이고, 조건 (가)에 의하여

$$f(0) = 9, \quad C = 9$$

조건 (나)에 의하여  $f(\alpha) = \alpha^4 - 2\alpha^4 + 9 = -16$

$$\alpha = -\sqrt{5}$$

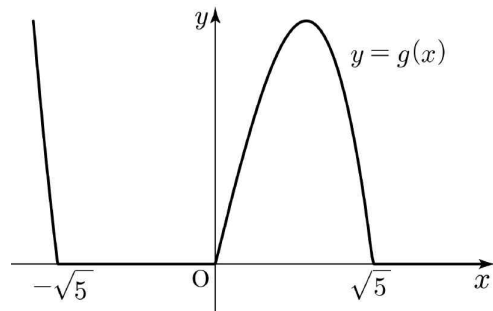
함수  $f'(x) = 4x(x-\sqrt{5})(x+\sqrt{5})$ 의 그래프의 개형은 다음과 같다.



함수  $g(x) = |f'(x)| - f'(x)$ 이므로

함수  $g(x) = \begin{cases} 0 & (f'(x) \geq 0) \\ -2f'(x) & (f'(x) < 0) \end{cases}$ 이고, 함수  $y = g(x)$ 의

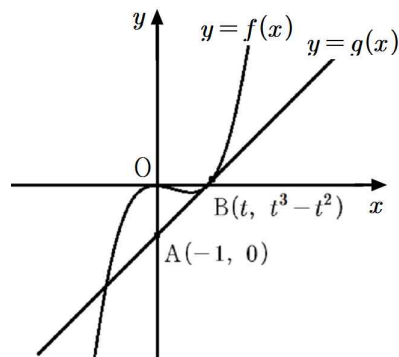
그래프의 개형은 다음과 같다.



$$\begin{aligned} \int_0^{10} g(x) dx &= -2 \int_0^{\sqrt{5}} f'(x) dx \\ &= -2 \left[ f(x) \right]_0^{\sqrt{5}} \\ &= -2 \{ f(\sqrt{5}) - f(0) \} \\ &= -2 \times (-16 - 9) \\ &= 50 \end{aligned}$$

27) [정답] ②

[해설]



직선 AB의 기울기와 점 B에서의 접선의 기울기가 같음을 이용하여  $t$ 를 구하면

$$\frac{t^3 - t^2 + 1}{t} = f'(t) = 3t^2 - 2t$$

$$2t^3 - t^2 - 1 = (t-1)(2t^2 + t + 1) = 0$$

$$\therefore t = 1$$

즉,  $p=1$ 이므로  $x^3-x^2=x-1$ 을 정리하면,

$$x^3-x^2-x+1=(x+1)(x-1)^2=0$$

$$\therefore x=-1$$

따라서  $m=-1$

28) [정답] ⑤

[해설]

삼차함수  $f(x)$ 는 최고차항의 계수가 1이고

$f'(0)=f'(2)=0$ 이므로  $f'(x)=3x(x-2)=3x^2-6x$ 이다.

따라서

$$\begin{aligned} f(x) &= \int f'(x)dx \\ &= x^3-3x^2+C \quad (C \text{ 는 적분상수}) \end{aligned}$$

따라서  $f(x)-f(0)=x^3-3x^2$ 이고

$$\begin{aligned} f(x+p)-f(p) &= (x+p)^3-3(x+p)^2+C-(p^3-3p^2+C) \\ &= x^3+(3p-3)x^2+(3p^2-6p)x \end{aligned}$$

이므로

$$g(x) = \begin{cases} x^3-3x^2 & (x \leq 0) \\ x^3+(3p-3)x^2+(3p^2-6p)x & (x > 0) \end{cases}$$

이다.

ㄱ.  $p=1$ 이면

$$g(x) = \begin{cases} x^3-3x^2 & (x \leq 0) \\ x^3-3x & (x > 0) \end{cases} \text{이므로}$$

$$g'(x) = \begin{cases} 3x^2-6x & (x < 0) \\ 3x^2-3 & (x > 0) \end{cases}$$

$$\text{따라서 } g'(1)=3-3=0 \quad (\text{참})$$

ㄴ.  $\lim_{x \rightarrow 0^-} g(x) = \lim_{x \rightarrow 0^+} g(x) = g(0) = 0$ 이므로

함수  $g(x)$ 는  $x=0$ 에서 연속이다.

$$\text{이때 } \lim_{x \rightarrow 0^-} g'(x) = \lim_{x \rightarrow 0^-} (3x^2-6x) = 0$$

$$\begin{aligned} \lim_{x \rightarrow 0^+} g'(x) &= \lim_{x \rightarrow 0^+} \{3x^2+2(3p-3)x+(3p^2-6p)\} \\ &= 3p^2-6p \end{aligned}$$

이므로  $g(x)$ 가 실수 전체의 집합에서 미분가능하려면

$3p^2-6p=0$ 이어야 한다..

따라서 양수  $p$ 의 값은  $p=2$ 뿐이므로 양수  $p$ 의 개수는 1이다.

(참)

$$\text{ㄷ. } \int_{-1}^0 g(x)dx = \int_{-1}^0 (x^3-3x^2)dx$$

$$= \left[ \frac{1}{4}x^4 - x^3 \right]_{-1}^0$$

$$= 0 - \left( \frac{1}{4} + 1 \right)$$

$$= -\frac{5}{4}$$

이고,

$$\int_0^1 g(x)dx = \int_0^1 \{x^3+(3p-3)x^2+(3p^2-6p)x\}dx$$

$$= \left[ \frac{1}{4}x^4 + (p-1)x^3 + \frac{3p^2-6p}{2}x^2 \right]_0^1$$

$$= \frac{1}{4} + (p-1) + \frac{3p^2-6p}{2}$$

$$= \frac{3}{2}p^2 - 2p - \frac{3}{4}$$

이므로

$$\int_{-1}^1 g(x)dx = \int_{-1}^0 g(x)dx + \int_0^1 g(x)dx$$

$$= \left( -\frac{5}{4} \right) + \frac{3}{2}p^2 - 2p - \frac{3}{4}$$

$$= \frac{3}{2}p^2 - 2p - 2$$

$$= \frac{1}{2}(3p+2)(p-2)$$

따라서  $p \geq 2$ 일 때,  $\int_{-1}^1 g(x)dx \geq 0$ 이다. (참)

따라서 옳은 것은 ㄱ, ㄴ, ㄷ이다.

[다른 풀이]

삼차함수  $f(x)$ 의 최고차항의 계수가 1이고

$f'(0)=f'(2)=0$

이므로 함수  $f(x)$ 는  $x=0$ 에서 극대이고  $x=2$ 에서

극소이다.

이때, 곡선  $y=f(x)-f(0)$ 은 곡선  $y=f(x)$ 를  $y$ 축의 방향으로

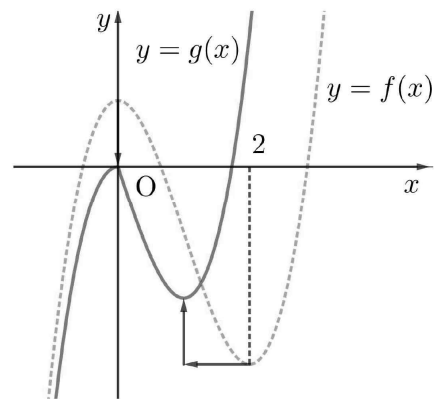
$-f(0)$ 만큼 평행이동한 것이고, 곡선  $y=f(x+p)-f(p)$ 는

곡선  $y=f(x)$ 를  $x$ 축의 방향으로  $-p$ 만큼 평행이동한

것이다. 따라서 두 곡선  $y=f(x)-f(0)$ ,

$y=f(x+p)-f(p)$ 는 모두 원점을 지나고 함수  $g(x)$ 의

그래프는 다음과 같다.



ㄱ.  $p=1$ 일 때, 곡선  $y=f(x+1)-f(1)$ 는 곡선  $y=f(x)$ 를

$x$ 축의 방향으로  $-1$ 만큼,  $y$ 축의 방향으로  $-f(1)$ 만큼

평행이동한 것이다.

따라서  $g'(1)=0$ 이다.

(참)

ㄴ.  $\lim_{x \rightarrow 0^-} g(x) = \lim_{x \rightarrow 0^+} g(x) = g(0) = 0$ 이므로 함수  $g(x)$ 는  $x=0$ 에서 연속이다.

이때  $\lim_{x \rightarrow 0^-} g'(x) = \lim_{x \rightarrow 0^-} (3x^2 - 6x) = 0$ 이므로  $g(x)$ 가 실수

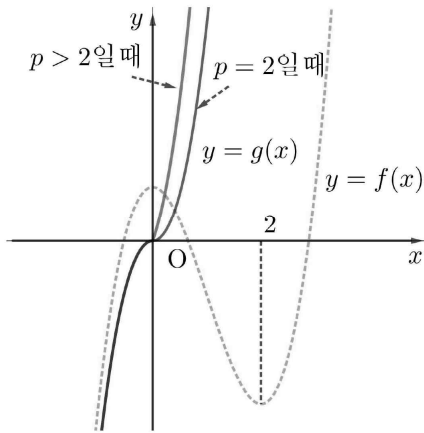
전체의 집합에서 미분가능하려면  $\lim_{x \rightarrow 0^+} g'(x) = 0$ 이어야

한다.

그런데  $f'(x) = 0$ 인 양수  $x$ 의 값은 2뿐이므로 양수  $p$ 의 값은 2뿐이다. 따라서 양수  $p$ 의 개수는 1이다.

(참)

ㄷ.  $p \geq 2$ 일 때 함수  $y = g(x)$ 의 그래프는 다음과 같다.



$p=2$ 일 때, 함수  $y = g(x)$ 의 그래프는 원점에 대하여

대칭이므로  $\int_{-1}^1 g(x) dx = 0$

$p > 2$ 일 때, 모든 실수  $x$ 에 대하여

$f(x+p) - f(p) \geq f(x+2) - f(2)$ 이므로

$$\int_{-1}^1 g(x) dx \geq 0$$

따라서  $p \geq 2$ 일 때,  $\int_{-1}^1 g(x) dx \geq 0$  (참)

따라서 옳은 것은 ㄱ, ㄴ, ㄷ이다.

29) [정답] ②

[해설]

$$f(x) = x^4 + bx^2 + 10$$

$$f'(x) = 4x^3 + 2bx, \quad f'(1) = 4 + 2b \text{ 이므로}$$

$$-6 < 4 + 2b < -2$$

$$-10 < 2b < -6$$

$$-5 < b < -3 \text{ 이므로 } b = -4$$

$$f(x) = x^4 - 4x^2 + 10$$

$$f'(x) = 4x^3 - 8x = 4x(x + \sqrt{2})(x - \sqrt{2})$$

$x$	...	$-\sqrt{2}$	...	0	...	$\sqrt{2}$	...
$f'(x)$	-	0	+	0	-	0	+
$f(x)$		↘	극소	↗	극대	↘	극소

극솟값은  $f(-\sqrt{2}) = f(\sqrt{2}) = 6$

30) [정답] ⑤

[해설]

$$\text{ㄱ. } f'(-x) = -f'(x) \text{ 이고 } f'(1) = 0$$

$$f'(-1) = -f'(1) = 0 \text{ (참)}$$

$$\text{ㄴ. } f'(-1) = f'(1) = 0, \quad f'(0) = 0$$

$$f'(x) = 4x(x-1)(x+1)$$

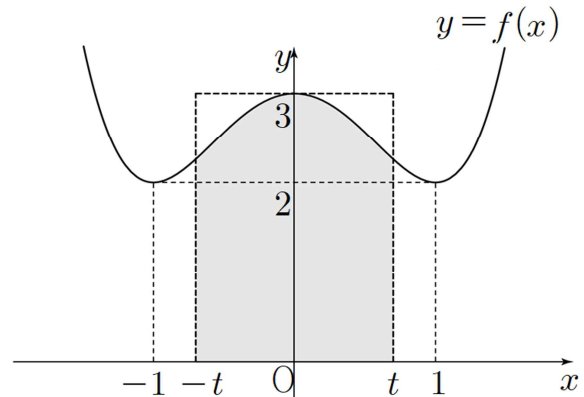
$$f(x) = x^4 - 2x^2 + C$$

$$f(1) = 2, \quad C = 3$$

$$f(x) = x^4 - 2x^2 + 3$$

$$f(-x) = f(x) \text{ 이므로}$$

$$\int_{-k}^0 f(x) dx = \int_0^k f(x) dx \text{ (참)}$$



ㄷ. 함수  $f(x) = x^4 - 2x^2 + 3$ 의 그래프는 그림과 같다.

$$x = -t, \quad x = t, \quad x \text{ 축}, \quad y = f(x) \text{ 로}$$

$$\text{둘러싸인 영역의 넓이 } \int_{-t}^t f(x) dx \text{ 는}$$

$$x = -t, \quad x = t, \quad x \text{ 축}, \quad y = 3 \text{ 으로}$$

둘러싸인 직사각형의 넓이  $6t$ 보다 작다. (참)

따라서 옳은 것은 ㄱ, ㄴ, ㄷ

31) [정답] 16

[해설]

$$f(x) = x(x-a)(x-6) \quad (0 < a < 6) \quad \dots \text{㉠}$$

$$-f(x-k) = -(x-k)(x-k-a)(x-k-6) \quad \dots \text{㉡}$$

위의 두 함수의 그래프는  $x=4$ 에 대하여 대칭이므로

㉠에서  $f(8-x) = (8-x)(8-x-a)(2-x)$

$= -(x-2)(x+a-8)(x-8) \dots$  ㉡

㉠과 ㉡이 일치하므로  $k=2, a=3$

$\therefore \int_0^2 f(x)dx = \int_0^2 x(x-3)(x-6)dx$

$= \left[ \frac{1}{4}x^4 - 3x^3 + 9x^2 \right]_0^2 = 16$

[다른 풀이]

조건 (나)에서  $k=0$ 일 때에도 성립하므로

$\int_\alpha^\gamma 2f(x)dx = 0, \int_\alpha^\gamma f(x)dx = 0$ 에서  $\alpha=0, \beta=3, \gamma=6$

( $\therefore$  변곡점이  $x$ 축 위에 있어야 한다.)

$\therefore f(x) = x(x-3)(x-6)$

또, 문제의 그림에서  $x=k$ 와  $x=6$ 의 중점이  $x=4$ 이므로

$\frac{k+6}{2} = 4 \quad \therefore k=2$

$\therefore \int_0^2 f(x)dx = \int_{-1}^1 (x+1)(x-2)(x-5)dx$

$= 2 \int_0^1 (-6x^2 + 10)dx = 2 \left[ -2x^3 + 10x \right]_0^1 = 16$

32) [정답] ⑤

[해설]

$f(-x) = -f(x), g(x) = -f(x)$ 이므로

ㄱ.  $\int_{-1}^1 f(x)dx = 0$  (참)

ㄴ.  $\int_{-1}^0 f(x)dx + \int_0^1 g(x)dx$

$= -\int_0^1 f(x)dx - \int_0^1 f(x)dx$

$= -2 \int_0^1 f(x)dx$

$= -2 \left[ \frac{1}{4}x^4 - 2x^2 \right]_0^1 = \frac{7}{2}$  (참)

ㄷ.  $h(x) = \int_0^x g(t)dt - \int_0^x f(t)dt - 3$ 이라 하자.

$h(x) = -2 \int_0^x f(t)dt - 3$ 은 연속함수이다.

$h(0) = -3 < 0$

$h(1) = -2 \int_0^1 f(t)dt - 3 = \frac{1}{2} > 0$

사이값 정리에 의하여  $h(c)=0$ 인 실수  $c$ 가 0과 1 사이에 적어도 하나 존재한다. (참)

따라서 <보기>에서 옳은 것은 ㄱ, ㄴ, ㄷ

33) [정답] 25

[해설]

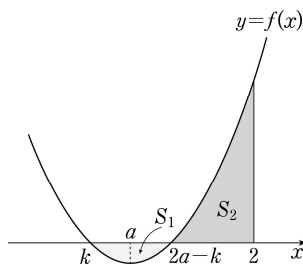
함수  $f(x)$ 는 이차함수이고 조건 (가)에서

$\int_0^t f(x)dx = \int_{2a-t}^{2a} f(x)dx$ 이므로 함수  $y=f(x)$ 의 그래프는

직선  $x = \frac{0+2a}{2} = a$ 에 대하여 대칭이다.

조건 (나)에서  $0 < \int_a^2 f(x)dx < \int_a^2 |f(x)|dx$ 이므로

$a < 2$ 이고, 함수  $y=f(x)$ 의 그래프는  $x$ 축과 두 점  $(k, 0), (2a-k, 0)$ 에서 만난다.



위의 그림에서 곡선  $y=f(x)$ 와  $x$ 축으로 둘러싸인 부분의 넓이를  $S_1$ , 곡선  $y=f(x)$ 와  $x$ 축 및 직선  $x=2$ 로 둘러싸인 부분의 넓이를  $S_2$ 라 하면

$\int_k^a f(x)dx = \int_a^{2a-k} f(x)dx = -\frac{S_1}{2}$ 이므로

$\int_a^2 f(x)dx = -\frac{S_1}{2} + S_2 = 2$

$\int_a^2 |f(x)|dx = \frac{S_1}{2} + S_2 = \frac{22}{9}$

따라서  $S_1 = \frac{4}{9}, S_2 = \frac{20}{9}$ 이다.

$\int_k^2 f(x)dx = -S_1 + S_2 = \frac{16}{9}$

$p=9, q=16$ 이므로  $p+q=25$

34) [정답] ①

[해설]

(가)로부터  $y = f(x)$ 는  $f(a) = 0$ 이고,

점  $(a, f(a))$ 에 대하여 대칭인 곡선이다.

(나)에서  $f(a) = f(0) = f(2a) = 0$ 이므로

$$f(x) = x(x-a)(x-2a) = (x-a)^3 - a^2(x-a)$$

$$(다)에서 \int_0^a f(x)dx = \left[ \frac{1}{4}(x-a)^4 - \frac{a^2}{2}(x-a)^2 \right]_0^a = \frac{a^4}{4} = 144$$

$$\therefore a = 2\sqrt{6}$$

35) [정답] ①

[해설]

곡선  $y = f(x)$ 는  $y$  축에 대하여 대칭이므로

$$\int_{-a}^a f(x)dx = 13 \text{에서}$$

$$2 \int_0^a f(x)dx = 13$$

$$\therefore \int_0^a f(x)dx = \frac{13}{2}$$

한편,

$$\int_0^3 f(x)dx = \frac{1}{2} \times (3+1) \times 1$$

$$= 2$$

이고,  $f(x+3) = f(x)$ 이므로

$$\int_0^3 f(x)dx = \int_3^6 f(x)dx = \int_6^9 f(x)dx = 2$$

$$\therefore \int_0^9 f(x)dx = 6$$

$$\text{따라서 } \int_0^9 f(x)dx + \int_9^a f(x)dx = \frac{13}{2} \text{에서}$$

$$\int_9^a f(x)dx = \frac{1}{2}$$

한편

$$\int_9^{10} f(x)dx = \int_0^1 f(x)dx = \frac{1}{2}$$

이므로

$$a = 10$$

36) [정답] 102

[해설]

$$\int_{-3}^3 x^2 f(x)dx = \int_{-3}^{-1} x^2 f(x)dx + \int_{-1}^1 x^2 f(x)dx + \int_1^3 x^2 f(x)dx$$

$$= 2 \int_1^3 x^2 f(x)dx + 2 = 2 \int_{-1}^1 (x+2)^2 f(x+2)dx + 2$$

$$= 2 \int_{-1}^1 (x+2)^2 f(x)dx + 2 = 102$$

37) [정답] ③

[해설]

함수  $y = f(x)$ 의 그래프 그리기

조건 (나)에서  $f(x+2) = f(x) + 2$ 이고

$f(x)$ 는 실수 전체의 집합에서 연속이므로 양변에  $x=0$ 을 대입하면

$$f(2) = f(0) + 2, 4a = 2$$

$$\therefore a = \frac{1}{2}$$

이 때  $f(x) = \frac{1}{2}x^2 (0 \leq x < 2)$ 이고 실수 전체의 집합에서

$$f(x+2) = f(x) + 2$$

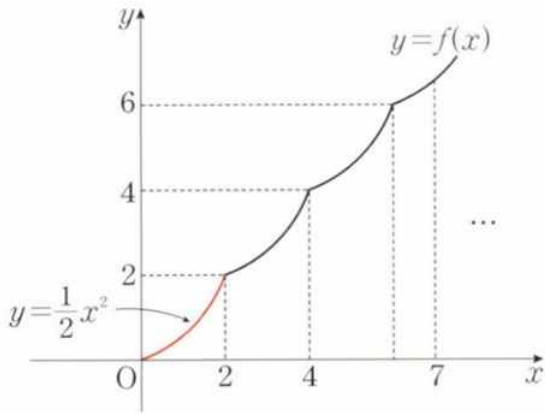
이 성립하므로 함수  $y = f(x)$ 의 그래프의 개형은 다음과 같다.

$x+2=t$ 로 놓으면  $x=t-2$ , 즉  $f(t) = f(t-2) + 2$ 을 만족하므로

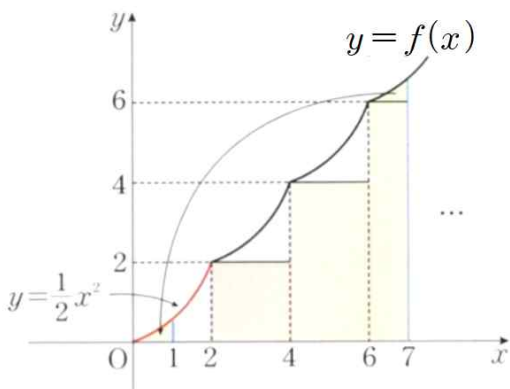
함수  $f(t) = \frac{1}{2}t^2 (0 \leq t < 2)$ 는 함수  $y = f(t)$ 을  $x$ 축으로

2만큼,

$y$ 축으로 2만큼 평행이동한 그래프와 일치하는 연속인 함수를 의미한다.



함수  $y=f(x)$ 의 그래프를 이용하여  $\int_1^7 f(x)dx$ 의 값 구하기



이 때  $\int_0^1 f(x)dx = \int_6^7 \{f(x)-6\}dx$ 이므로

$\int_1^7 f(x)dx$ 의 값은

$= \int_0^6 f(x)dx + (\text{가로의 길이가 1이고 세로의 길이가 6인}$

직사각형의 넓이)

$$= 3 \int_0^2 \frac{1}{2}x^2 dx + 2 \cdot 2 + 2 \cdot 4 + 1 \cdot 6$$

$$= 3 \left[ \frac{1}{6}x^3 \right]_0^2 + 4 + 8 + 6$$

$$= 4 + 18$$

$$= 22$$

38) [정답] ②

[해설]

함수  $y=-f(x+1)+1$ 의 그래프는

함수  $y=f(x)$ 의 그래프를  $x$ 축에 대하여 대칭이동시킨 후,  $x$ 축의 방향으로  $-1$ 만큼,  $y$ 축의 방향으로  $1$ 만큼 평행이동시킨 것이다.

$$f(0)=0, f(1)=1, \int_0^1 f(x)dx = \frac{1}{6} \text{이므로}$$

조건 (가)에서

$$\int_{-1}^0 g(x)dx = \int_{-1}^0 \{-f(x+1)+1\}dx = -\frac{1}{6}+1 = \frac{5}{6}$$

$$\int_0^1 g(x)dx = \int_0^1 f(x)dx = \frac{1}{6}$$

$$\int_{-1}^1 g(x)dx = \int_{-1}^0 g(x)dx + \int_0^1 g(x)dx = \frac{5}{6} + \frac{1}{6} = 1$$

조건 (나)에서

$g(x+2)=g(x)$ 이므로

$$\int_{-3}^2 g(x)dx = \int_{-3}^{-1} g(x)dx + \int_{-1}^1 g(x)dx + \int_1^2 g(x)dx$$

$$= 2 \int_{-1}^1 g(x)dx + \int_{-1}^0 g(x)dx$$

$$= 2 \times 1 + \frac{5}{6} = \frac{17}{6}$$

39) [정답] 50

[해설]

1) 조건 II.에서 양변을  $x$ 에 관하여 미분하면

$$f'(x) = \frac{1}{2}\{f(x+1)-f(x)\} - \frac{1}{2}\{f(x-1)-f(x)\}$$

$$= \frac{1}{2}\{f(x+1)-f(x-1)\}$$

$$\therefore f'(1) = \frac{1}{2}\{f(2)-f(0)\} \dots\dots\dots \textcircled{1}$$

2) 조건 I. 과 II.에서 임의의 실수  $x, y$ 에 대하여

$f(x+y)+f(x-y)=2\{f(x)+f(y)\}$ 가 성립하므로

i)  $x=1, y=0$ 을 대입하면

$$f(1)+f(1)=2\{f(1)+f(0)\} \therefore f(0)=0 \dots\dots \textcircled{2}$$

ii)  $x=1, y=1$ 을 대입하면

$$f(2)+f(0)=2\{f(1)+f(1)\}$$

$$\therefore f(2)=4f(1)=100 \dots\dots \textcircled{3}$$

①, ②, ③에서

$$\therefore f'(1)=50$$

40) [정답] ④

[해설]

$$xf(x) = 2x^3 + ax^2 + 3a + \int_1^x f(t)dt \dots\dots \textcircled{1}$$

①의 양변에  $x=1$ 을 대입하면

$$f(1) = 2 + a + 3a + 0 = 4a + 2 \dots\dots \textcircled{2}$$

㉠의 양변에  $x=0$ 을 대입하면

$$0 = 3a + \int_1^0 f(t)dt = 3a - \int_0^1 f(t)dt$$

$$\int_0^1 f(t)dt = 3a \dots \text{㉡}$$

$$f(1) = \int_0^1 f(t)dt \text{이므로 ㉠, ㉡에서}$$

$$4a + 2 = 3a$$

따라서  $a = -2$ 이고  $f(1) = -6$ 이다.

$$xf(x) = 2x^3 - 2x^2 - 6 + \int_1^x f(t)dt \text{의 양변을 } x \text{에 대하여}$$

미분하면

$$f(x) + xf'(x) = 6x^2 - 4x + f(x)$$

$$xf'(x) = 6x^2 - 4x$$

$$f'(x) = 6x - 4 \text{이므로}$$

$$f(x) = \int f'(x)dx$$

$$= \int (6x - 4)dx$$

$$= 3x^2 - 4x + C \text{(단, } C \text{는 적분상수)}$$

$$f(1) = 3 - 4 + C = -6 \text{에서 } C = -5$$

따라서  $f(x) = 3x^2 - 4x - 5$ 이므로

$$a + f(3) = -2 + 10 = 8$$

41) [정답] 57

[해설]

$$f(x) = (x-1)^4(x+1) \text{에서}$$

$$f'(x) = 4(x-1)^3(x+1) + (x-1)^4 = (x-1)^3(5x+3)$$

$$f''(x) = 3(x-1)^2(5x+3) + 5(x-1)^3 = (x-1)^2(20x+4)$$

이차함수  $g(x) = ax^2 + bx + c$ 라 하고

$$f(x) = g(x) + \int_0^x (x-t)^2 h(t)dt$$

$$= g(x) + x^2 \int_0^x h(t)dt - 2x \int_0^x th(t)dt + \int_0^x t^2 h(t)dt$$

$$x=0 \text{을 대입하면, } f(0) = g(0), \therefore c = 1$$

이제 양변을 미분하면

$$(x-1)^3(5x+3)$$

$$= 2ax + b + 2x \int_0^x h(t)dt + x^2 h(x) - 2$$

$$\int_0^x th(t)dt - 2x^2 h(x) + x^2 h(x)$$

$$= 2ax + b + 2x \int_0^x h(t)dt - 2 \int_0^x th(t)dt$$

$$x=0 \text{을 대입하면, } -3 = b$$

또 양변을 미분하면

$$(x-1)^2(20x+4)$$

$$= 2a + 2 \int_0^x h(t)dt + 2xh(x) - 2xh(x)$$

$$= 2a + 2 \int_0^x h(t)dt$$

$$x=0 \text{을 대입하면, } 4 = 2a, \therefore a = 2$$

또 양변을 미분하면

$$12(x-1)(5x-1) = 2h(x)$$

그러므로

$$g(x) = 2x^2 - 3x + 1, h(x) = 6(x-1)(5x-1)$$

$$\therefore g(2) + h(2) = 3 + 54 = 57$$

42) [정답] ④

[해설]

$$\int_0^x (x-t)^2 f'(t)dt$$

$$= x^2 \int_0^x f'(t)dt - 2x \int_0^x t f'(t)dt + \int_0^x t^2 f'(t)dt$$

$$= \frac{3}{4}x^4 - 2x^3$$

양변을  $x$ 에 대하여 미분하기를 거듭하면

$$2 \int_0^x f'(t)dt = 9x^2 - 12x, 2(f(x) - f(0)) = 9x^2 - 12x$$

$$f(x) = \frac{9}{2}x^2 - 6x + 1$$

$$\therefore \int_0^1 f(x)dx = \left[ \frac{3}{2}x^3 - 3x^2 + x \right]_0^1 = -\frac{1}{2}$$

43) [정답] ⑤

[해설]

$$f(x) = \int_1^x (x^2 - t)dt = x^2 \int_1^x dt - \int_1^x tdt$$

$$= x^2 [t]_1^x - \left[ \frac{1}{2}t^2 \right]_1^x = x^2(x-1) - \frac{1}{2}(x^2-1)$$

$$= x^3 - \frac{3}{2}x^2 + \frac{1}{2}$$

직선  $y = 6x - k$  와 곡선  $y = f(x)$  의 접점의 좌표를

$$P\left(t, t^3 - \frac{3}{2}t^2 + \frac{1}{2}\right) \text{라 놓으면 접선의 기울기가 } 6 \text{ 이므로}$$



$$f'(t) = 6; 3t^2 - 3t = 6; (t-2)(t+1) = 0$$

$$\therefore t = 2, -1 \quad \therefore P\left(2, \frac{5}{2}\right), P(-1, -2)$$

점 P는 직선 위의 점이므로  $P\left(2, \frac{5}{2}\right)$  일 때,  $k = \frac{19}{2}$

$P(-1, -2)$  일 때,  $k = -4$

$$\therefore k > 0 \text{ 이므로 } k = \frac{19}{2}$$

[별해]

$$f(x) = \int_1^x (x^2 - t) dt = \left[ x^2 t - \frac{1}{2} t^2 \right]_1^x = x^2(x-1) - \frac{1}{2}(x^2 - 1)$$

$$= x^3 - \frac{3}{2}x^2 + \frac{1}{2} \quad \therefore f'(x) = 3x^2 - 3x$$

$$f'(x) = 6 \text{에서 } x^2 - x - 2 = 0 \quad \therefore x = -1, 2$$

$$f(-1) = -1 - \frac{3}{2} + \frac{1}{2} = -2$$

$$f(2) = 8 - 6 + \frac{1}{2} = \frac{5}{2}$$

이므로 함수  $f(x)$ 에 접하는 기울기가 6인 직선의 방정식은

$$y = 6(x+1) - 2 = 6x + 4 \text{ 또는 } y = 6(x-2) + \frac{5}{2} = 6x - \frac{19}{2}$$

이다. 따라서 양수  $k$ 의 값은  $\frac{19}{2}$ 이다.

44) [정답] ③

[해설]

조건 (가)로부터

$$\begin{aligned} f(x) + x^2 + 2ax - 3 &= 2f(x) - 3x - \{2f(1) - 3\} \\ &= 2f(x) - 3x - 2f(1) + 3 \end{aligned}$$

$$\therefore f(x) = x^2 + (2a+3)x + 2f(1) - 6$$

위 식에서  $x = 1$ 을 대입하면

$$f(1) = 1 + 2a + 3 + 2f(1) - 6$$

$$\therefore f(1) = -2a - 2$$

$$\therefore f(x) = x^2 + (2a+3)x - 4a - 2$$

조건 (나)로부터

$$\lim_{h \rightarrow 0} \frac{f(3+h) - f(3-h)}{h}$$

$$= \lim_{h \rightarrow 0} \frac{f(3+h) - f(3) + f(3) - f(3-h)}{h}$$

$$= \lim_{h \rightarrow 0} \left[ \frac{f(3+h) - f(3)}{h} - \frac{f(3-h) - f(3)}{h} \right]$$

$$= \lim_{h \rightarrow 0} \left[ \frac{f(3+h) - f(3)}{h} + \frac{f(3-h) - f(3)}{-h} \right]$$

$$= f'(3) + f'(3) = 2f'(3)$$

$$2f'(3) = 6 \text{이므로 } f'(3) = 3$$

$$\therefore f'(x) = 2x + 2a + 3$$

$$\text{즉, } f'(3) = 2a + 9 = 3 \text{이므로 } a = -3$$

45) [정답] ②

[해설]

$$F'(x) = f(x) = x^3 - 3x + a$$

$$f'(x) = 3x^2 - 3 = 0 \text{에서 } x = -1 \text{ 또는 } x = 1 \text{이므로}$$

함수  $f(x)$ 는  $x = \pm 1$ 에서 극값을 갖고,

$$f(-1) = a + 2, f(1) = a - 2, f(0) = a$$

이때,  $F(x)$ 가 오직 하나의 극값을 가져야 하므로  $F(x)$ 의 도함수  $f(x)$ 의 부호가 한 번만 바뀌어야 한다.

즉, 삼차함수  $f(x)$ 의 그래프가  $x$ 축과 한 번만 만나거나 접해야 한다.

따라서 함수  $f(x)$ 의 극댓값과 극솟값의 부호가 같거나 극댓값 또는 극솟값이 0이어야 한다.

$$\text{즉, } f(-1) \cdot f(1) \geq 0, (2+a)(-2+a) \geq 0$$

$$a \leq -2 \text{ 또는 } a \geq 2$$

따라서 양수  $a$ 의 최솟값은 2이다.

46) [정답] ②

[해설]

함수  $f'(x) = (x-a)(x-b)$  이고 (가)에서  $f(x)$ 가

$$x = \frac{1}{2} \text{에서 극값을 가지므로 } a = \frac{1}{2} \text{ 또는 } b = \frac{1}{2}$$

$$f(a) - f(b) = \int_0^a (t-a)(t-b) dt - \int_0^b (t-a)(t-b) dt$$

$$= \int_0^a (t-a)(t-b) dt + \int_b^0 (t-a)(t-b) dt$$

$$= \int_b^a (t-a)(t-b) dt = -\frac{(a-b)^3}{6} = \frac{1}{6} \text{이므로 } b-a=1$$

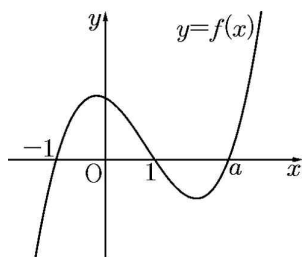
$$b = \frac{1}{2} \text{이면 } a = -\frac{1}{2} \text{이므로 모순}$$

따라서  $a = \frac{1}{2}$  이고  $b = \frac{3}{2}$  이므로  $a+b=2$

47) [정답] ④

[해설]

$f(x) = (x+1)(x-1)(x-a)$  의 그래프의 개형은 다음과 같다.



$g(x) = x^2 \int_0^x f(t)dt - \int_0^x t^2 f(t)dt$  의 양변을 미분하면

$$g'(x) = 2x \int_0^x f(t)dt - x^2 f(x) + x^2 f(x)$$

$$= 2x \int_0^x f(t)dt$$

(i)  $0 < x < 1$  일 때,

$$2x > 0, \int_0^x f(t)dt > 0 \text{ 이므로 } g'(x) > 0$$

(ii)  $-1 < x < 0$  일 때,

$$2x < 0, \int_0^x f(t)dt < 0 \text{ 이므로 } g'(x) > 0$$

따라서  $x=0$  에서  $g(x)$  는 극값을 갖지 않는다.

(iii)  $x < -1$  인 경우

$\int_0^x f(t)dt$  의 값이  $x < -1$  인 어떤 점에서  $g'(x)$  가 -에서 +으로 바뀌는 극솟값을 갖게 된다.

(i), (ii), (iii)에서  $g(x)$  가 극값을 1개 가지므로  $x > 1$  인 경우에 극값을 갖지 않아야 한다.

즉  $x > 1$  에서 항상  $\int_0^x f(t)dt \geq 0$  이 성립해야 하므로 최대가

되는  $a$  의 값은  $\int_0^1 f(x)dx = -\int_1^a f(x)dx$  일 때이다.

즉,  $\int_0^a f(x)dx = 0$  이 성립할 때  $a$  가 최대가 된다.

$$\int_0^a f(x)dx = \left[ \frac{1}{4}x^4 - \frac{1}{3}ax^3 - \frac{1}{2}x^2 + ax \right]_0^a$$

$$= \frac{1}{4}a^4 - \frac{1}{3}a^4 - \frac{1}{2}a^2 + a^2$$

$$= a^2(a^2 - 6) = 0$$

$$\therefore a = 0, -\sqrt{6}, \sqrt{6}$$

그런데  $a > 1$  이므로  $a = \sqrt{6}$

48) [정답] 8

[해설]

$$\begin{aligned} g(x) &= \int_a^x \{f(x) - f(t)\} \times \{f(t)\}^4 dt \\ &= f(x) \int_a^x \{f(t)\}^4 dt - \int_a^x \{f(t)\}^5 dt \end{aligned}$$

양변을 미분하면

$$\begin{aligned} g'(x) &= f'(x) \int_a^x \{f(t)\}^4 dt + f(x) \times \{f(x)\}^4 - \{f(x)\}^5 \\ &= f'(x) \int_a^x \{f(t)\}^4 dt \end{aligned}$$

$$= (3x^2 - 24x + 45) \int_a^x \{f(t)\}^4 dt$$

$$= 3(x-3)(x-5) \int_a^x \{f(t)\}^4 dt$$

$$g'(x) = 0 \text{ 에서 } x = 3 \text{ 또는 } x = 5 \text{ 또는 } \int_a^x \{f(t)\}^4 dt = 0$$

그런데 조건에서 극값이 오직 하나이므로  $g'(x) = 0$  의 근은 오직 하나이어야 한다.

즉,  $\int_a^x \{f(t)\}^4 dt = 0$  이  $x = 3$  또는  $x = 5$  를 반드시 근으로

가져야 한다. 즉,  $\int_a^3 \{f(t)\}^4 dt = 0$  또는  $\int_a^5 \{f(t)\}^4 dt = 0$  가

성립해야 한다.

따라서  $a = 3$  또는  $a = 5$

즉, 만족하는 모든  $a$  값의 합은 8이다.

49) [정답] 43

[해설]

$0 \leq a \leq 4$  에서

$$g(a) = \int_a^{a+4} f(x)dx \text{ 라 하자}$$

(i)  $a = 0$  일 때,

$$g(0) = \int_0^4 f(x)dx$$

$$= \int_0^4 \{-x(x-4)\} dx$$

$$= \int_0^4 (-x^2 + 4x) dx$$

$$= \left[ -\frac{1}{3}x^3 + 2x^2 \right]_0^4$$

$$= -\frac{64}{3} + 32 = \frac{32}{3}$$

(ii)  $0 < a < 4$  일 때,

$$g(a) = \int_a^4 f(x) dx + \int_4^{a+4} f(x) dx$$

$$= \int_a^4 \{-x(x-4)\} dx + \int_4^{a+4} (x-4) dx$$

$$= \left[ -\frac{1}{3}x^3 + 2x^2 \right]_a^4 + \left[ \frac{1}{2}x^2 - 4x \right]_4^{a+4}$$

$$= \frac{32}{3} + \frac{1}{3}a^3 - 2a^2 + \frac{1}{2}(a+4)^2 - 4(a+4) - (8-16)$$

$$= \frac{1}{3}a^3 - \frac{3}{2}a^2 + \frac{32}{3}$$

(iii)  $a = 4$  일 때,

$$g(a) = \int_4^8 f(x) dx$$

$$= \int_4^8 (x-4) dx$$

$$= \left[ \frac{1}{2}x^2 - 4x \right]_4^8$$

$$= 32 - 32 - (8 - 16) = 8$$

$0 < a < 4$  에서

$$g(a) = \frac{1}{3}a^3 - \frac{3}{2}a^2 + \frac{32}{3}$$

이므로

$$g'(a) = a^2 - 3a = a(a-3)$$

$$g'(a) = 0 \text{에서}$$

$0 < a < 4$  이므로  $a = 3$

함수  $g(a)$ 의 증가, 감소를 표로 나타내면 다음과 같다.

$a$	(0)	...	3	...	(4)
$g'(a)$		+	0	-	
$g(a)$	$\frac{32}{3}$	$\searrow$	극소	$\nearrow$	8

따라서  $g(a)$ 는  $a = 3$ 에서 최솟값

$$g(3) = \frac{1}{3} \times 3^3 - \frac{3}{2} \times 3^2 + \frac{32}{3}$$

$$= 9 - \frac{27}{2} + \frac{32}{3}$$

$$= \frac{54 - 81 + 64}{6}$$

$$= \frac{37}{6}$$

을 가지므로  $p = 6, q = 37$

$$p + q = 43$$

50) [정답] ②

[해설]

$$g(x) = \int_{-1}^x f(t) \{2x - f(t)\} dt$$

$$= 2x \int_{-1}^x f(t) dt - \int_{-1}^x \{f(t)\}^2 dt$$

양변을  $x$ 에 대하여 미분하면

$$g'(x) = 2 \int_{-1}^x f(t) dt + 2xf(x) - \{f(x)\}^2$$

(i)  $x < -1$  일 때,

$$g'(x) = 2 \int_{-1}^x 0 dt + 2x \cdot 0 - \{0\}^2 = 0$$

(ii)  $-1 \leq x < 0$  일 때,

$$g'(x) = 2 \int_{-1}^x (1+t) dt + 2x(1+x) - (1+x)^2$$

$$= \left[ (1+t)^2 \right]_{-1}^x + x^2 - 1$$

$$= (1+x)^2 + x^2 - 1$$

$$= 2x^2 + 2x$$

$$= 2x(x+1)$$

(iii)  $0 \leq x < 1$  일 때,

$$g'(x) = 2 \left\{ \int_{-1}^0 (1+t) dt + \int_0^x (1-t) dt \right\} + 2x(1-x) - (1-x)^2$$

$$= 1 - \left[ (1-t)^2 \right]_0^x - 3x^2 + 4x - 1$$

$$= -(1-x)^2 + 1 - 3x^2 + 4x$$

$$= -4x^2 + 6x$$

$$= -2x(2x+3)$$

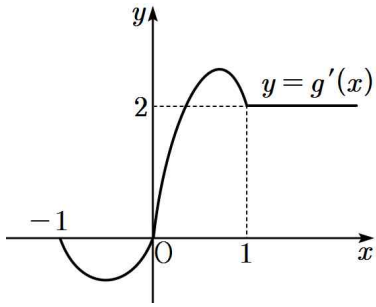
(iv)  $x \geq 1$  일 때,

$$g'(x) = 2 \left\{ \int_{-1}^0 (1+t) dt + \int_0^1 (1-t) dt + \int_1^x 0 dt \right\}$$

$$+ 2x \cdot 0 - (0)^2$$

$$= 2\left(\frac{1}{2} + \frac{1}{2}\right) = 2$$

따라서  $y = g'(x)$ 의 그래프를 그리면 다음과 같다.



따라서  $x=0$ 일 때, 극소이면서 최소가 되므로 최솟값은  $g(0)$ 이다.

$$\begin{aligned} \therefore g(0) &= 2 \cdot 0 \cdot \int_{-1}^0 (1+t)dt - \int_{-1}^0 (1+t)^2 dt \\ &= 0 - \left[ \frac{1}{3}(1+t)^3 \right]_{-1}^0 \\ &= -\frac{1}{3} \end{aligned}$$

51) [정답] ②

[해설]

함수  $f(x)$ 가 실수 전체의 집합에서 연속이므로  $n-1 \leq x \leq n$ 일 때,

$$\begin{aligned} f(x) &= 6(x-n+1)(x-n) \text{ 또는} \\ f(x) &= -6(x-n+1)(x-n) \end{aligned}$$

열린구간  $(0, 4)$ 에서 함수  $g(x)$ 는 미분가능하고, 함수  $g(x)$ 가  $x=2$ 에서 최솟값 0를 가지므로

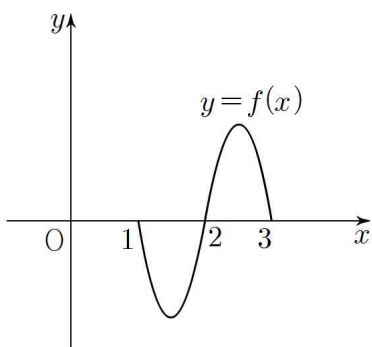
$$g(2)=0, g'(2)=0$$

$$g(x) = \int_0^x f(t)dt - \int_x^4 f(t)dt \text{에서}$$

$$g'(x) = 2f(x)$$

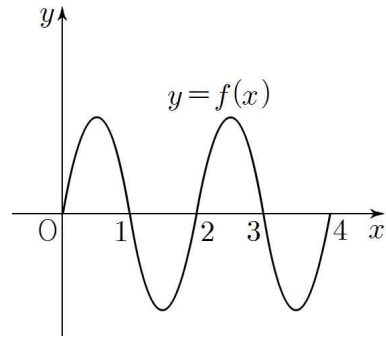
함수  $g(x)$ 가  $x=2$ 에서 최솟값을 가지므로  $x=2$ 에서 극솟값을 가져야 한다.

따라서  $1 \leq x < 3$ 에서 함수  $f(x)$ 의 그래프의 개형은 다음과 같다.



$$\begin{aligned} g(2) &= \int_0^2 f(t)dt - \int_2^4 f(t)dt = 0 \text{에서} \\ \int_0^2 f(t)dt &= \int_2^4 f(t)dt \end{aligned}$$

따라서 닫힌구간  $[0, 4]$ 에서 함수  $y = f(x)$ 의 그래프는 다음과 같다.



$$\begin{aligned} \therefore \int_{\frac{1}{2}}^4 f(x)dx &= \int_{\frac{1}{2}}^1 f(x)dx + \int_1^2 f(x)dx + \int_2^3 f(x)dx \\ &\quad + \int_3^4 f(x)dx \\ &= \int_{\frac{1}{2}}^1 f(x)dx - \int_0^1 f(x)dx + \int_0^1 f(x)dx \\ &\quad - \int_0^1 f(x)dx \\ &= -\int_0^{\frac{1}{2}} f(x)dx \\ &= -\int_0^{\frac{1}{2}} \{-6x(x-1)\}dx \\ &= \int_0^{\frac{1}{2}} (6x^2 - 6x)dx \\ &= \left[ 2x^3 - 3x^2 \right]_0^{\frac{1}{2}} \\ &= -\frac{1}{2} \end{aligned}$$

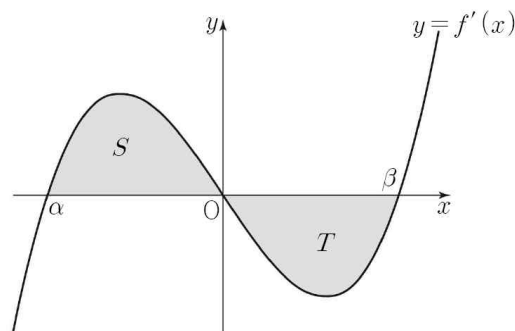
52) [정답] ⑤

[해설]

ㄱ.  $f'(x)$ 의 최고차항의 계수가 양수이므로 함수  $y = f'(x)$ 의 그래프는 그림과 같다.

$f'(0) = 0$ 이고  $x=0$ 의 좌우에서  $f'(x)$ 의 부호가 양에서 음으로 바뀌므로 함수  $f(x)$ 는  $x=0$ 에서 극댓값을 갖는다.

(참)



ㄴ.  $\alpha = -\beta$ 에 의하여

$$f'(x) = k(x-\beta)x(x+\beta) = kx^3 - k\beta^2x \quad (k > 0)$$

$$f(x) = \frac{k}{4}x^4 - \frac{k\beta^2}{2}x^2 + C \quad (\text{단, } C \text{는 적분상수})$$

따라서  $f(x)$ 는  $y$ 축에 대하여 대칭인 함수이므로

$$f(-\beta) = f(\beta)$$

$$S = \int_{\alpha}^0 |f'(x)| dx = \int_{-\beta}^0 f'(x) dx = f(0) - f(-\beta)$$

$$T = \int_0^{\beta} |f'(x)| dx = \int_0^{\beta} \{-f'(x)\} dx$$

$$= -f(\beta) + f(0)$$

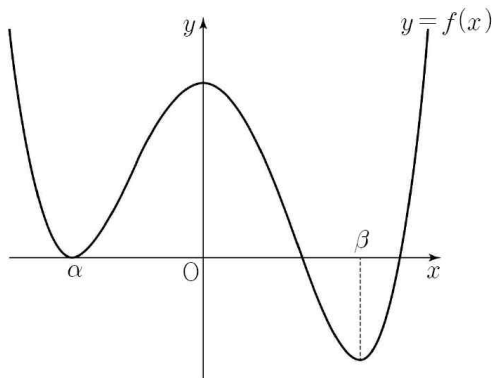
따라서  $S = T$  (참)

ㄷ.  $S < T, f(\alpha) = 0$ 이므로

$$f(0) - f(\alpha) < -f(\beta) + f(0) \text{ 에서 } f(\beta) < 0$$

함수  $f(x)$ 는  $x = \alpha, x = \beta$ 에서 극솟값,  $x = 0$ 에서 극댓값을 갖는다.

$y = f(x)$ 의 그래프의 개형은 그림과 같다.



방정식  $f(x) = 0$ 의 양의 실근의 개수는 2 (참)

따라서 옳은 것은 ㄱ, ㄴ, ㄷ

53) [정답] 27

[해설]

$$(가) \text{에서 } f(x)g(x) = (x-1)(x+1)(x+3)$$

$$(다) \text{에서 } g'(x) = 2f(x), g(1) = 0 \text{이므로}$$

$$f(x) = x+1, g(x) = (x-1)(x+3) \quad (\because f'(x) = 1)$$

$$\therefore \int_0^3 3g(x)dx = \int_0^3 3(x^2 + 2x - 3)dx = 27$$

54) [정답] ⑤

[해설]

ㄱ. 조건 (가)에서  $f'(x) = ax(x-k) (a > 0)$ 이라 하면

$$\text{단한구간 } [0, k] \text{에서 } f'(x) \leq 0 \text{이므로 } \int_0^k f'(x)dx < 0 \text{(참)}$$

ㄴ. 조건 (나)에서  $\int_0^t |f'(x)|dx = f(t) + f(0)$ 의 양변을  $t$ 에

대하여 미분하면  $|f'(t)| = f'(t)t > 1$ 인 모든 실수  $t$ 에

대하여  $|f'(t)| = f'(t)$ 가 성립하므로  $f'(t) \geq 0 (t > 1)$

조건 (가)에서 함수  $f(x)$ 는  $x = 0$ 에서 극댓값,  $x = k$ 에서

극솟값을 가지므로,  $0 < k \leq 1$  (참)

ㄷ. ㄴ에서  $0 < k \leq 1$ 이고 조건 (나)에서  $t > 1$ 일 때,

$$\int_0^t |f'(x)|dx = -\int_0^k f'(x)dx + \int_k^t f'(x)dx$$

$$= -[f(x)]_0^k + [f(x)]_k^t$$

$$= -\{f(k) - f(0)\} + \{f(t) - f(k)\}$$

$$= -2f(k) + f(0) + f(t) = f(t) + f(0)$$

따라서  $f(k) = 0$ 이므로 함수  $f(x)$ 의

극솟값은 0이다. (참)

이상에서 옳은 것은 ㄱ, ㄴ, ㄷ 이다.

55) [정답] ⑤

[해설]

$$\text{함수 } g(x) = \int_2^x (t-2)f'(t)dt \text{ 이므로}$$

$$g'(x) = (x-2)f'(x)$$

함수  $g(x)$ 가  $x = 0$ 에서만 극값을 가지므로 상수  $a$ 에 대하여

$$g'(x) = (x-2) \times ax(x-2)$$

$$f'(x) = ax(x-2) \text{ 이고}$$

함수  $f(x)$ 의 최고차항이  $x^3$ 이므로  $a = 3$

$$f'(x) = 3x(x-2)$$

$$\text{따라서 } g(0) = \int_2^0 3t(t-2)^2 dt = \left[ \frac{3}{4}t^4 - 4t^3 + 6t^2 \right]_2^0 = -4$$

56) [정답] ①

[해설]

$$P_2(x) = x^2 + ax + b \text{라 하면}$$

$$\int_{-1}^1 P_0(x)P_2(x)dx = \int_{-1}^1 (x^2 + ax + b)dx = \frac{2}{3} + 2b = 0$$

$$\int_{-1}^1 P_1(x)P_2(x)dx = \int_{-1}^1 (x^3 + ax^2 + bx)dx = \frac{2}{3}a = 0$$

$$\therefore a = 0, b = -\frac{1}{3}, P_2(x) = x^2 - \frac{1}{3}$$

$$P_3(x) = x^3 + cx^2 + dx + e \text{라 하면}$$

$$\int_{-1}^1 (x^3 + cx^2 + dx + e)dx = \frac{2}{3}c + 2e = 0, \quad \frac{1}{3}c + e = 0$$

$$\int_{-1}^1 (x^4 + cx^3 + dx^2 + ex)dx = \frac{2}{5} + \frac{2}{3}d = 0, \quad d = -\frac{3}{5}$$

$$\begin{aligned} & \int_{-1}^1 \left(x^2 - \frac{1}{3}\right)(x^3 + cx^2 + dx + e)dx \\ &= \int_{-1}^1 (x^5 + cx^4 + dx^3 + ex^2)dx - \frac{1}{3} \int_{-1}^1 (x^3 + cx^2 + dx + e)dx \\ &= \frac{2}{5}c + \frac{2}{3}e = 0 \end{aligned}$$

$$\begin{aligned} \int_0^1 P_3(x)dx &= \int_0^1 (x^3 + cx^2 + dx + e)dx = \frac{1}{4} + \frac{1}{3}c + \frac{1}{2}d + e \\ &= \frac{1}{4} + \frac{1}{2}d = \frac{1}{4} - \frac{3}{10} = -\frac{1}{20} \end{aligned}$$

57) [정답] ②

[해설]

$$g'(x) = f(x) - \{f(x) + xf'(x)\} = -xf'(x)$$

삼차함수  $f(x)$ 의 최고차항의 계수가 4이므로  $f'(x)$ 는 이차항의 계수가 12인 이차함수이다.

그러므로  $g'(x) = -xf'(x)$ 에서  $g'(x)$ 는 최고차항의 계수가 -12인 삼차함수이다.

또, 모든 실수  $x$ 에 대하여  $g(x) \leq g(3)$ 이므로 함수  $g(x)$ 는  $x=3$ 에서 최댓값을 가지고 함수  $g(x)$ 는  $x=3$ 에서 극값을 가진다.

$$\text{즉, } g'(3) = 0$$

$$\text{그러므로 } f'(3) = 0 \text{에서 } g'(x) = -12x(x-3)(x-a)$$

사차함수  $g(x)$ 가 오직 1개의 극값을 가지므로 함수  $g(x)$ 는  $x=0$ 에서 극값을 가질 수 없다.

$$\text{즉, } a = 0$$

$$g'(x) = -12x^2(x-3) = -12x^3 + 36x^2$$

$$\text{따라서 } \int_0^1 g'(x)dx = \left[-3x^4 + 12x^3\right]_0^1 = 9$$

58) [정답] ②

[해설]

$$g(x) = \int_0^x f(t)dt + f(x) \text{에서}$$

$$g'(x) = f(x) + f'(x)$$

$$g(0) = \int_0^0 f(t)dt + f(0) = 0 + f(0)$$

$$g'(0) = f(0) + f'(0)$$

조건 (가)에 의해

$$g(0) = f(0) = 0$$

$$g'(0) = f(0) + f'(0) = 0 + f'(0) = 0 \text{이므로 } f'(0) = 0$$

그러므로  $x^2$ 은  $f(x)$ 의 인수이다.

$f(x) = x^2(x-k)$ (단,  $k$ 는 상수)라 하면

$$g'(x) = x^3 - kx^2 + 3x^2 - 2kx$$

$$= x^3 + (3-k)x^2 - 2kx$$

조건 (나)에 의해 모든 실수  $x$ 에 대하여

$$g'(-x) = -g'(x) \text{가 성립한다.}$$

$$\text{즉, } -x^3 + (3-k)x^2 + 2kx = -x^3 - (3-k)x^2 + 2kx,$$

$$2(3-k)x^2 = 0 \text{에서 } k = 3$$

$$\text{그러므로 } f(x) = x^2(x-3)$$

$$\text{따라서 } f(2) = -4$$

[다른 풀이]

$$f(x) = x^3 + ax^2 + bx + c \text{라고 놓으면}$$

$$f'(x) = 3x^2 + 2ax + b$$

$$\text{조건 (가)에 의해 } f(0) = 0 \text{이므로 } c = 0,$$

$$f'(0) = 0 \text{이므로 } b = 0$$

$$\text{즉, } f(x) = x^3 + ax^2$$

$$g'(x) = f(x) + f'(x)$$

$$= x^3 + ax^2 + 3x^2 + 2ax$$

$$= x^3 + (a+3)x^2 + 2ax$$

조건 (나)에 의해 함수  $y = g'(x)$ 의 그래프는 원점에 대하여 대칭이므로  $x^2$ 의 계수는 0이다. 즉,  $a = -3$

$$\text{따라서 } f(x) = x^3 - 3x^2 \text{에서 } f(2) = 8 - 12 = -4$$

59) [정답] 110

[해설]

$$f(x+1) - xf(x) = ax + b \text{에 } x=0 \text{을 대입하면}$$

$$f(1) = b$$

$$\text{달힌구간 } [0, 1] \text{에서 } f(x) = x \text{이므로}$$

$$b = 1$$

$$\text{또, } f(x+1) - xf(x) = ax + 1 \text{이므로 } 0 \leq x \leq 1 \text{에서}$$

$$f(x+1) = xf(x) + ax + 1 = x^2 + ax + 1$$

$$x+1 = t \text{로 치환하면}$$

$$f(t) = (t-1)^2 + a(t-1) + 1$$

$$= t^2 + (a-2)t + 2 - a \quad \dots\dots \textcircled{1}$$

$$f'(t) = 2t + (a-2) \text{이고,}$$

달힌구간  $[0, 1]$ 에서  $f(x) = x$ 이고, 함수  $f(x)$ 가 실수

전체의 집합에서 미분가능한 함수이므로  $f'(1) = 1$ 이므로

$$a = 1$$

따라서  $\textcircled{1}$ 에서  $1 \leq x \leq 2$ 일 때  $f(x) = x^2 - x + 1$ 이다.

$$\begin{aligned} \int_1^2 f(x)dx &= \int_1^2 (x^2 - x + 1)dx \\ &= \left[ \frac{1}{3}x^3 - \frac{1}{2}x^2 + x \right]_1^2 \\ &= \frac{8}{3} - \frac{5}{6} = \frac{11}{6} \end{aligned}$$

즉,  $60 \times \int_1^2 f(x)dx = 60 \times \frac{11}{6} = 110$

60) [정답] ⑤

[해설]

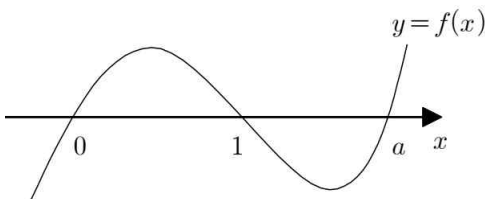
최고차항의 계수가 1이고  $f(0) = 0, f(1) = 0$ 인 삼차함수  $f(x)$ 를  $f(x) = x(x-1)(x-a)$  ( $a$ 는 상수)라 하자.

ㄱ.  $g(0) = \int_0^1 f(x)dx - \int_0^1 |f(x)|dx = 0$

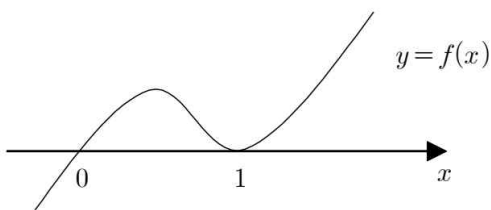
$$\int_0^1 f(x)dx = \int_0^1 |f(x)|dx$$

따라서  $0 \leq x \leq 1$ 일 때  $f(x) \geq 0$ 이므로 함수  $y = f(x)$ 의 그래프의 개형은 그림과 같다.

(i)  $a > 1$ 일 때



(ii)  $a = 1$ 일 때



(i), (ii)에 의하여

$$\int_{-1}^0 f(x)dx < 0$$

이므로

$$g(-1) = \int_{-1}^0 f(x)dx - \int_0^1 |f(x)|dx < 0$$

이다. (참)

ㄴ.  $g(-1) > 0$ 이면  $0 \leq x \leq 1$ 일 때,  $f(x) \leq 0$ 이므로

$$\begin{aligned} g(-1) &= \int_{-1}^0 f(x)dx - \int_0^1 |f(x)|dx \\ &= \int_{-1}^0 f(x)dx + \int_0^1 f(x)dx \\ &= \int_{-1}^1 f(x)dx \\ &= \int_{-1}^1 x(x-1)(x-a)dx \\ &= \int_{-1}^1 \{x^3 - (a+1)x^2 + ax\}dx \\ &= 2 \int_0^1 \{-(a+1)x^2\}dx \\ &= 2 \left[ -\frac{a+1}{3}x^3 \right]_0^1 \\ &= -\frac{2(a+1)}{3} > 0 \end{aligned}$$

즉,  $a < -1$ 이므로  $f(k) = 0$ 을 만족시키는  $k < -1$ 인 실수  $k$ 가 존재한다. (참)

ㄷ.  $g(-1) = -\frac{2(a+1)}{3} > 1$ 에서  $a < -\frac{5}{2}$

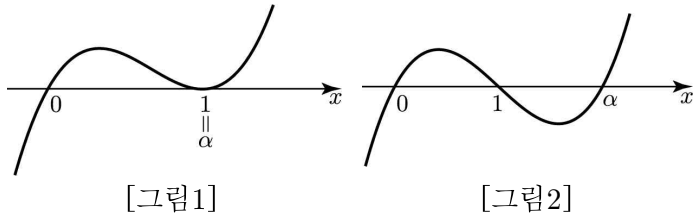
$0 \leq x \leq 1$ 일 때  $f(x) \leq 0$ 이므로

$$\begin{aligned} g(0) &= \int_0^1 f(x)dx - \int_0^1 |f(x)|dx \\ &= \int_0^1 f(x)dx + \int_0^1 f(x)dx \\ &= 2 \int_0^1 f(x)dx \\ &= 2 \int_0^1 \{x^3 - (a+1)x^2 + ax\}dx \\ &= 2 \left[ \frac{1}{4}x^4 - \frac{a+1}{3}x^3 + \frac{a}{2}x^2 \right]_0^1 \\ &= 2 \left( \frac{1}{4} - \frac{a+1}{3} + \frac{a}{2} \right) \\ &= \frac{1}{3}a - \frac{1}{6} < -1 \end{aligned}$$

이상에서 옳은 것은 ㄱ, ㄴ, ㄷ이다.

[다른 풀이]

ㄱ.  $g(0) = \int_0^1 f(x)dx - \int_0^1 |f(x)|dx = 0$ 이므로  $f(x) \geq 0$ 이고 만족하는 경우는 [그림1]과 [그림2]와 같다.



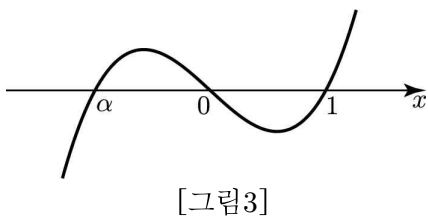
따라서  $1 \leq \alpha$ 이므로  $\int_{-1}^0 f(x)dx < 0$ 이고,

$\int_0^1 f(x)dx > 0$ 이다.

$$g(-1) = \int_{-1}^0 f(x)dx - \int_0^1 |f(x)|dx = \int_{-1}^0 f(x)dx - \int_0^1 f(x)dx < 0$$

이다. (참)

ㄴ.  $g(-1) = \int_{-1}^0 f(x)dx - \int_0^1 |f(x)|dx > 0$ 이면  $\int_{-1}^0 f(x)dx > 0$ 이어야 하므로 만족하는 경우는 [그림3]과 같다.



$\int_{-1}^0 f(x)dx > \int_0^1 |f(x)|dx$ 이므로  $\alpha < -1$ 이다.

따라서  $f(k)=0$ 인  $k=\alpha < -1$ 을 만족한다. (참)

ㄷ.  $g(-1) = \int_{-1}^0 f(x)dx - \int_0^1 |f(x)|dx > 1$ 이므로

$f(x) = x(x-1)(x-k) = x^3 - (k+1)x^2 + kx$ 라 두면

$$\int_{-1}^0 f(x)dx = \left[ \frac{1}{4}x^4 - \frac{k+1}{3}x^3 + \frac{k}{2}x^2 \right]_{-1}^0 = -\frac{1}{4} - \frac{k+1}{3} + \frac{k}{2}$$

$$\int_0^1 |f(x)|dx = \int_0^1 \{-f(x)\}dx = \left[ -\frac{1}{4}x^4 + \frac{k+1}{3}x^3 - \frac{k}{2}x^2 \right]_0^1$$

$$= -\frac{1}{4} + \frac{k+1}{3} - \frac{k}{2}$$

이므로

$$g(-1) = \int_{-1}^0 f(x)dx - \int_0^1 |f(x)|dx = -\frac{2k+2}{3} > 1$$

즉,  $2k+2 < -3$ 이므로  $2k < -5, k < -\frac{5}{2}$

$$g(0) = \int_0^1 f(x)dx - \int_0^1 |f(x)|dx = 2 \int_0^1 f(x)dx = 2 \left( \frac{1}{4} - \frac{k+1}{3} + \frac{k}{2} \right) = -\frac{1}{6} + \frac{k}{3} < -\frac{1}{6} - \frac{5}{6} = -1$$

이다. (참)

이상에서 옳은 것은 ㄱ, ㄴ, ㄷ이다.

61) [정답] 8

[해설]

$$g'(x) = 2x \int_0^x f(t)dt + x^2 f(x) - x^2 f(x) = 2x \int_0^x f(t)dt$$

$$h(x) = \int_0^x f(t)dt \text{라 하면 } h(0) = 0$$

조건 (나)에 의하여

방정식  $h(x)=0$ 의 실근은 0과 3이므로

(i)  $h(x) = ax^2(x-3)$ ( $a$ 는 상수)라 하면

$g'(x) = 2ax^3(x-3)$ 이고 함수  $g(x)$ 는  $x=0, x=3$ 에서 극값을 가지므로 모순

(ii)  $h(x) = ax(x-3)^2$ ( $a$ 는 상수)라 하면

$g'(x) = 2ax^2(x-3)^2$ 이므로 함수  $g(x)$ 는 극값을 갖지 않는다.

$$g'(x) = f(x)$$

$$= a(3x^2 - 12x + 9) = 3a(x-1)(x-3)$$

$f(x)$ 의 최고차항의 계수가 3이므로  $a=1$

$$f(x) = 3(x-1)(x-3)$$

따라서

$$\int_0^3 |f(x)|dx = 3 \int_0^3 |(x-1)(x-3)|dx = 3 \int_0^1 (x-1)(x-3)dx - 3 \int_1^3 (x-1)(x-3)dx$$



$$= 3 \left[ \frac{1}{3}x^3 - 2x^2 + 3x \right]_0^1 - 3 \left[ \frac{1}{3}x^3 - 2x^2 + 3x \right]_1^3$$

$$= 3 \left( \frac{1}{3} - 2 + 3 \right) - 3 \left( 9 - 18 + 9 - \frac{1}{3} + 2 - 3 \right) = 8$$

62) [정답] ⑤

[해설]

$$\neg. f'(x) = x^2 - 4tx + 3t^2 = (x-t)(x-3t) \quad (\text{참})$$

$$\sqcup. f(x) = \int_{3t}^x (s^2 - 4ts + 3t^2) ds$$

$$= \left[ \frac{1}{3}s^3 - 2ts^2 + 3t^2s \right]_{3t}^x = \frac{1}{3}x^3 - 2tx^2 + 3t^2x$$

$$= \frac{1}{3}x(x-3t)^2$$

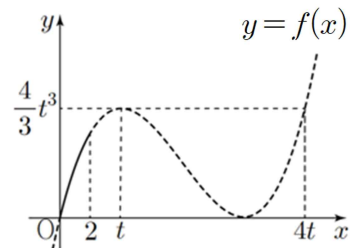
$$f'(t) = 0, f(t) = \frac{4}{3}t^3 \text{ 이므로}$$

$$f(x) - \frac{4}{3}t^3 = \frac{1}{3}x(x^2 - 6tx + 9t^2) - \frac{4}{3}t^3$$

$$= \frac{1}{3}(x-t)^2(x-4t)$$

$$f(t) = f(4t) = \frac{4}{3}t^3$$

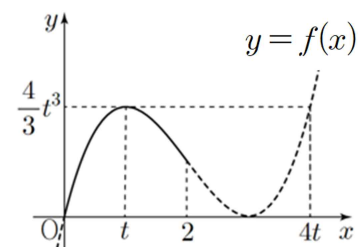
i)  $t > 2$  일 때



함수  $f(x)$  는  $x=2$  에서 최댓값을 가지므로

$$g(t) = f(2) = \frac{2}{3}(3t-2)^2$$

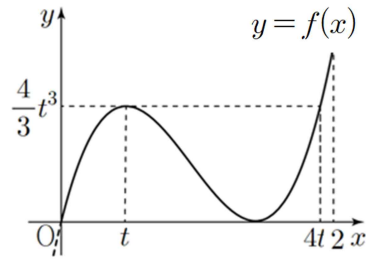
ii)  $t \leq 2 < 4t$  즉,  $\frac{1}{2} < t \leq 2$  일 때



함수  $f(x)$  는  $x=t$  에서 최댓값을 가지므로

$$g(t) = f(t) = \frac{4}{3}t^3$$

iii)  $4t \leq 2$  즉,  $0 < t \leq \frac{1}{2}$  일 때



함수  $f(x)$  는  $x=2$  에서 최댓값을 가지므로

$$g(t) = f(2) = \frac{2}{3}(3t-2)^2$$

i), ii), iii)에 의하여

$$t > 2 \text{ 일 때, } g(t) = \frac{2}{3}(3t-2)^2 \quad (\text{참})$$

ㄷ. 함수

$$g(t) = \begin{cases} \frac{2}{3}(3t-2)^2 & (0 < t \leq \frac{1}{2}) \\ \frac{4}{3}t^3 & (\frac{1}{2} < t \leq 2) \\ \frac{2}{3}(3t-2)^2 & (t > 2) \end{cases}$$

의 미분가능성을 조사하면

i)  $t = \frac{1}{2}$  일 때,

$$\lim_{t \rightarrow \frac{1}{2}^-} \frac{g(t) - g(\frac{1}{2})}{t - \frac{1}{2}} = \lim_{t \rightarrow \frac{1}{2}^-} \frac{\frac{2}{3}(3t-2)^2 - \frac{1}{6}}{t - \frac{1}{2}}$$

$$= \lim_{t \rightarrow \frac{1}{2}^-} \frac{(2t-1)(6t-5)}{2t-1} = -2$$

$$\lim_{t \rightarrow \frac{1}{2}^+} \frac{g(t) - g(\frac{1}{2})}{t - \frac{1}{2}} = \lim_{t \rightarrow \frac{1}{2}^+} \frac{\frac{4}{3}t^3 - \frac{1}{6}}{t - \frac{1}{2}}$$

$$= \lim_{t \rightarrow \frac{1}{2}^+} \frac{(2t-1)(4t^2+2t+1)}{3(2t-1)} = 1$$

따라서  $t = \frac{1}{2}$  에서 미분가능하지 않다.

ii)  $t = 2$  일 때,

$$\lim_{t \rightarrow 2^-} \frac{g(t) - g(2)}{t - 2} = \lim_{t \rightarrow 2^-} \frac{\frac{4}{3}t^3 - \frac{32}{3}}{t - 2}$$

$$= \lim_{t \rightarrow 2^-} \frac{\frac{4}{3}(t^3 - 8)}{t - 2} = \lim_{t \rightarrow 2^-} \frac{4(t^2 + 2t + 4)}{3} = 16$$

$$\lim_{t \rightarrow 2^+} \frac{g(t) - g(2)}{t - 2} = \lim_{t \rightarrow 2^+} \frac{\frac{2}{3}(3t-2)^2 - \frac{32}{3}}{t-2}$$

$$= \lim_{t \rightarrow 2^+} \frac{2(t-2)(3t+2)}{t-2} = 16$$

따라서  $t=2$ 에서 미분가능하다.

i), ii)에 의하여  $t > 0$ 에서 함수  $g(t)$ 는  $t = \frac{1}{2}$ 에서만 미분가능하지 않다. (참)

따라서 옳은 것은 ㄱ, ㄴ, ㄷ

63) [정답] ⑤

[해설]

$$f'(x) = 6x^2 - 2(t+3)x + 2t \text{이므로}$$

$$f'(a) = 6a^2 - 2(t+3)a + 2t = 0$$

$$(6a-2t)(a-1) = 0 \text{에서 } a = \frac{t}{3}, a = 1$$

$$g(t) = \frac{a}{2} f(a)$$

$$= a^4 - \frac{3}{2}(a+1)a^3 + 3a^3$$

$$= -\frac{1}{2}a^4 + \frac{3}{2}a^3$$

그런데,  $t = 3a$ 이므로  $t \rightarrow 0$ 일 때  $a \rightarrow 0$ 이므로

$$\int_0^a f(x) dx = \left[ \frac{1}{2}x^4 - \frac{1}{3}(t+3)x^3 + tx^2 \right]_0^a$$

$$= \frac{1}{2}a^4 - (a+1)a^3 + 3a^3$$

$$= -\frac{1}{2}a^4 + 2a^3$$

$$\therefore \lim_{t \rightarrow 0} \frac{1}{g(t)} \int_0^a f(x) dx = \lim_{a \rightarrow 0} \frac{-a^4 + 4a^3}{-a^4 + 3a^3} = \frac{4}{3}$$

64) [정답] ②

[해설]

함수  $f(x)$ 의 한 부정적분을  $F(x)$ 라 하면 주어진 방정식은

$$\int_t^x f(s) ds = F(x) - F(t) = 0 \text{이므로 } F(x) = F(t) \text{이다.}$$

따라서  $g(t)$ 는 곡선  $y = F(x)$ 와 직선  $y = F(t)$ 의 서로 다른 교점의 개수와 같다.

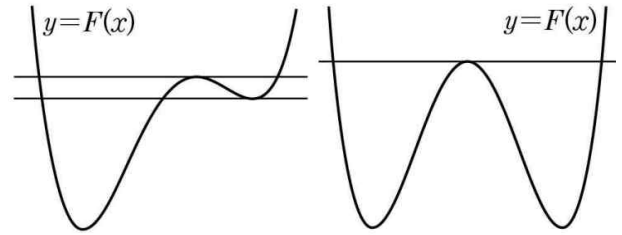
ㄱ.  $F'(x) = f(x) = x^2(x-1)$ 이다.

함수  $F(x)$ 는  $x < 1$ 에서 감소,  $x > 1$ 에서 증가하므로  $x = 1$ 에서 극소이면서 최소이다.

따라서 곡선  $y = F(x)$ 와 직선  $y = F(1)$ 은

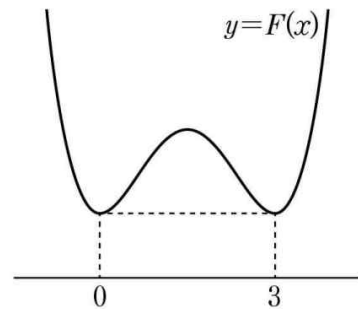
오직 한 점에서 만나므로  $g(1) = 1$ 이다. (참)

ㄴ. 방정식  $f(x) = 0$ 의 서로 다른 실근의 개수가 3일 때, 함수  $F(x)$ 의 두 극솟값이 같은 경우와 두 극솟값이 다른 경우가 있다. 각 경우 곡선  $y = F(x)$ 와 직선  $y = F(a)$ 가 서로 다른 세 점에서 만나는 실수  $a$ 가 존재한다.



따라서  $g(a) = 3$ 인 실수  $a$ 가 존재한다. (참)

ㄷ. 함수  $F(x)$ 가 극댓값을 갖지 않거나, 극댓값을 갖지만 두 극솟값의 크기가 다른 경우에는  $\lim_{t \rightarrow b} g(t) + g(b) = 6$ 인 실수  $b$ 가 존재하지 않는다. 따라서 곡선  $y = F(x)$ 의 개형은 다음과 같고,  $F(0) = F(3)$ 이다.



$f(0) = F'(0) = 0$ 이고  $f(3) = F'(3) = 0$ 이므로

$$F(x) - F(0) = \frac{x^2(x-3)^2}{4} = \frac{x^4 - 6x^3 + 9x^2}{4}$$

양변을  $x$ 에 대하여 미분하면

$$f(x) = x^3 - \frac{9}{2}x^2 + \frac{9}{2}x$$

이므로  $f(4) = 64 - 72 + 18 = 10$  (거짓)

이상에서 옳은 것은 ㄱ, ㄴ이다.

65) [정답] 10

[해설]

구간  $0 \leq x \leq 2$ 에서  $0 \leq \sin x \leq 1$  이므로

$$\int_0^2 \sqrt{27} dx < \int_0^2 \sqrt{27 + 2\sin x} dx < \int_0^2 \sqrt{29} dx$$

$$\sqrt{27}x \Big|_0^2 < \int_0^2 \sqrt{27 + 2\sin x} dx < \sqrt{29}x \Big|_0^2$$

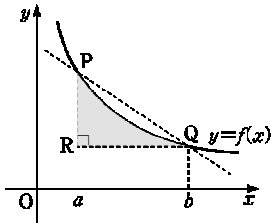
$$\sqrt{108} < \int_0^2 \sqrt{27 + 2\sin x} dx < \sqrt{116}$$

$$10 < \sqrt{108} < \int_0^2 \sqrt{27 + 2\sin x} dx < \sqrt{116} < 11$$

∴  $n=10$

66) [정답] ③

[해설]



ㄱ.  $F'(x) = f(x) > 0$ 이므로 구간  $[a, b]$ 에서  $y = F(x)$ 는 증가한다. ∴ 참

ㄴ. 직선 PQ의 기울기는  $\frac{f(b)-f(a)}{b-a} = \frac{F'(b)-F'(a)}{b-a}$

∴ 거짓

ㄷ.  $\int_a^b \{f(x) - f(b)\} dx = (\text{그림의 어두운 부분의 넓이})$

$\frac{(b-a)\{f(a) - f(b)\}}{2} = (\Delta PRQ \text{의 넓이})$  ∴ 참

67) [정답] ③

[해설]

(i)  $x < 1$ 일 때,

$$\begin{aligned} g(x) &= \int_{-1}^x (t-1)f(t)dt = \int_{-1}^x (t-1)(-1)dt \\ &= \left[ -\frac{t^2}{2} + t \right]_{-1}^x = -\frac{x^2}{2} + x + \frac{3}{2} \end{aligned}$$

(ii)  $x \geq 1$ 일 때,

$$\begin{aligned} g(x) &= \int_{-1}^x (t-1)f(t)dt \\ &= \int_{-1}^1 (t-1)(-1)dt + \int_1^x (t-1)(-t+2)dt \\ &= \left[ -\frac{t^2}{2} + t \right]_{-1}^1 + \left[ -\frac{t^3}{3} + \frac{3}{2}t^2 - 2t \right]_1^x \\ &= -\frac{x^3}{3} + \frac{3}{2}x^2 - 2x + \frac{17}{6} \end{aligned}$$

ㄱ. 구간 (1, 2)에서

$$\begin{aligned} g'(x) &= -x^2 + 3x - 2 = -(x-1)(x-2) \text{에서} \\ g'(x) &> 0 \text{이므로 } g(x) \text{는 증가한다. } <\text{참}> \end{aligned}$$

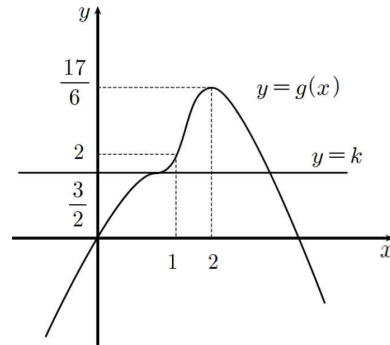
$$\lim_{x \rightarrow 1+0} \frac{g(x)-g(1)}{x-1} = 0, \lim_{x \rightarrow 1-0} \frac{g(x)-g(1)}{x-1} = 0$$

이므로  $x=1$ 에서 미분가능하다. <참>

ㄷ.  $x < 1$ 일 때,  $g'(x) = -x + 1$

$x > 1$ 일 때,  $g'(x) = -(x-1)(x-2)$

이므로  $y=g(x)$ 의 그래프는 아래 그림과 같다.



따라서 방정식  $g(x) = k$ 이 서로 다른 세 실근을 갖도록 하는  $k$ 가 존재하지 않는다. <거짓>

68) [정답] ④

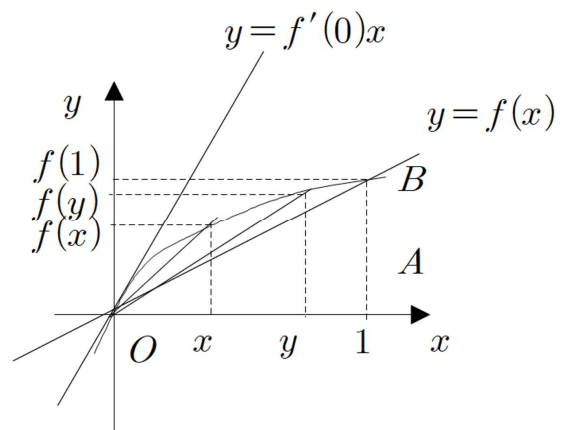
[해설]

조건(나)에서  $0 < x < y < 1$ 인 모든  $x, y$ 에 대하여

$$0 < xf(y) < yf(x)$$

이므로  $0 < \frac{f(y)}{y} < \frac{f(x)}{x}$  이고

$f(0) = 0$ 을 동시에 만족하는 다항함수  $f(x)$ 의 그래프의 개형은 다음과 같다.



주어진 그림에서 삼각형  $OAB$ 의 넓이는  $\frac{1}{2}f(1)$ 이므로

$$y = k \frac{1}{2}f(1) < \int_0^1 f(x)dx$$

$$\therefore f(1) < 2 \int_0^1 f(x)dx \quad \text{즉, } B < C$$

한편, 원점  $O$ 을 지나는 접선의 방정식은  $y = f'(0)x$

직선  $y=f'(0)x$ 와 직선  $x=1$  및  $x$ 축으로 둘러싸인 도형의 넓이는  $\frac{1}{2}f'(0)$ 이고 주어진 그림에서  $\frac{1}{2}f'(0) > \int_0^1 f(x)dx$

$\therefore f'(0) > 2 \int_0^1 f(x)dx$  즉,  $A > C \therefore B < C < A$

69) [정답] ④

[해설]

ㄱ.  $g(-1) = \int_{-1}^1 f(t)dt = 0$  (참)

ㄴ. 함수  $g(x)$ 는 개구간  $(1, 2)$ 에서 증가한다. (거짓)

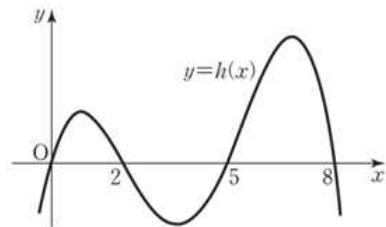
ㄷ. 방정식  $g(x)=2$ 의 실근은  $-4, -2, 4, 6$ 이므로  $-4-2+4+6=4$ 이다. (참)

70) [정답] ⑤

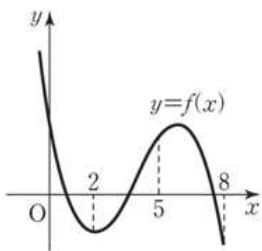
[해설]

함수  $g(x)$ 에 대하여 함수  $h(x) = \int_0^x f(t)dt$ 라 하면

$h(x)$ 는 사차함수이고  $h'(x)=f(x)$ 에서  $f(0)>0$ 이므로  $h'(0)>0$ 이다. 그러므로 함수  $h(x)$ 의 그래프의 개형은 다음과 같다.



그러므로 피적분함수  $f(x)$ 의 그래프의 개형은 다음과 같다.



ㄱ.(참) 함수  $f(x)$ 는  $x$ 축과 서로 다른 3점에서 만나므로 방정식  $f(x)=0$ 은 서로 다른 3개의 실근을 갖는다.

ㄴ.(참) 함수  $f(x)$ 의 그래프가  $x=0$ 에서 감소하므로  $f'(0)<0$ 이다.

ㄷ.(참) 함수  $f(x)$ 의 그래프에서  $m=3$  또는  $m=4$  또는

$m=5$ 인 경우  $\int_m^{m+2} f(x)dx > 0$ 이다.

따라서 옳은 것은 ㄱ, ㄴ, ㄷ이다.

71) [정답] ②

[해설]

$g'(x) = |f(x)-2x|$ 이며 이 때 실수 전체에서 미분가능하기 위해서는

모든  $x$ 에서  $f(x)-2x \geq 0$  이어야 한다.

$x=1$  대입하면  $f(1)-2 \geq 0$

$f(1) \geq 2$

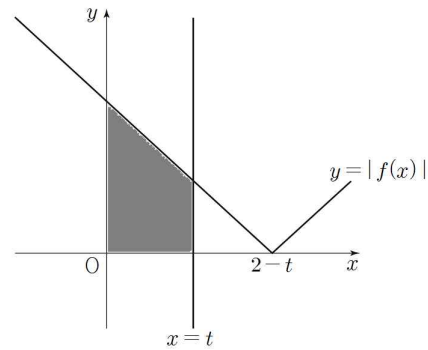
72) [정답] ⑤

[해설]

함수  $|f(x)|$ 의 그래프와  $x$ 축이 만나는 점의  $x$ 좌표는  $2-t$

(i)  $0 < t < 1$ 일 때,

함수  $y = |f(x)|$ 의 그래프와 직선  $x=t$ 는 그림과 같다.



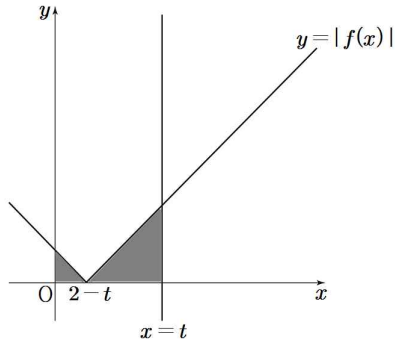
$g(t) = \int_0^t (-x+2-t)dx$

$= \left[ -\frac{1}{2}x^2 + 2x - tx \right]_0^t$

$= -\frac{3}{2}t^2 + 2t$

(ii)  $1 \leq t < 2$ 일 때,

함수  $y = |f(x)|$ 의 그래프와 직선  $x=t$ 는 그림과 같다.



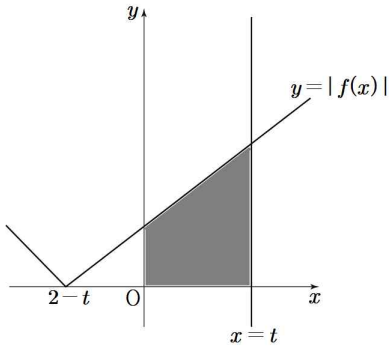
$$g(t) = \int_0^{2-t} (-x+2-t)dx + \int_{2-t}^t (x-2+t)dx$$

$$= \left[ -\frac{1}{2}x^2 + 2x - tx \right]_0^{2-t} + \left[ \frac{1}{2}x^2 - 2x + tx \right]_{2-t}^t$$

$$= \frac{5}{2}t^2 - 6t + 4$$

(iii)  $t \geq 2$  일 때,

함수  $y = |f(x)|$  의 그래프와 직선  $x=t$  는 그림과 같다.



$$g(t) = \int_0^t (x-2+t)dx$$

$$= \left[ \frac{1}{2}x^2 - 2x + tx \right]_0^t$$

$$= \frac{3}{2}t^2 - 2t$$

(i), (ii), (iii)에 의해

$$\text{함수 } g(t) = \begin{cases} -\frac{3}{2}t^2 + 2t & (0 < t < 1) \\ \frac{5}{2}t^2 - 6t + 4 & (1 \leq t < 2) \\ \frac{3}{2}t^2 - 2t & (t \geq 2) \end{cases}$$

$$\neg. g(1) = \int_0^1 |-x+1|dx = \frac{1}{2} \quad (\text{참})$$

ㄴ. (i)  $t=2$ 에서 연속

$$\lim_{t \rightarrow 2^-} \left( \frac{5}{2}t^2 - 6t + 4 \right) = \lim_{t \rightarrow 2^+} \left( \frac{3}{2}t^2 - 2t \right) = 2$$

$$g(2) = 2$$

(ii)  $t=2$ 에서 미분가능

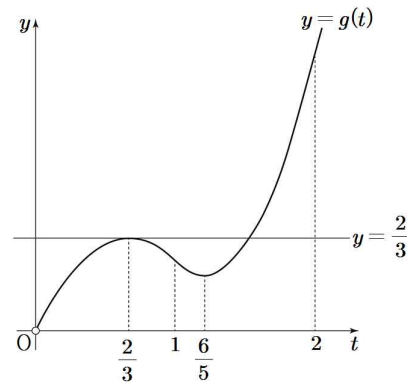
$$\lim_{t \rightarrow 2^-} \frac{g(t) - g(2)}{t - 2} = \lim_{t \rightarrow 2^-} \left( \frac{5}{2}t - 1 \right) = 4$$

$$\lim_{t \rightarrow 2^+} \frac{g(t) - g(2)}{t - 2} = \lim_{t \rightarrow 2^+} \left( \frac{3}{2}t + 1 \right) = 4$$

$\therefore$  함수  $g(t)$ 는  $t=2$ 에서 미분가능 (참)

ㄷ. 함수  $g(t)$ 의 증가와 감소를 표로 나타내면 다음과 같다.

$t$	(0)	...	$\frac{2}{3}$	...	1	...	$\frac{6}{5}$	...	2	...
$g'(t)$		+	0	-	-	-	0	+	+	+
$g(t)$		↗	$\frac{2}{3}$	↘		↘	극소	↗		↗



함수  $g(t)$ 는  $t = \frac{2}{3}$ 에서 극댓값  $\frac{2}{3}$ 를 가지므로 방정식

$g(t) = \frac{2}{3}$ 는 서로 다른 두 실근을 갖는다. (참)

따라서 옳은 것은 ㄱ, ㄴ, ㄷ이다.

73) [정답] ⑤

[해설]

ㄱ.  $g'(x) = xf(x)$ 이므로  $g'(0) = 0$  (참)

ㄴ. 함수  $g(x)$ 가 닫힌 구간  $[0, \alpha]$ 에서 연속, 열린 구간  $(0, \alpha)$ 에서 미분가능,  $g(0) = g(\alpha) = 0$ 이므로 롤의 정리에 의하여  $g'(c) = cf(c) = 0$ 인  $c$ 가 열린 구간  $(0, \alpha)$ 에 적어도 하나 존재한다.

$c \neq 0$ 이므로  $f(c) = 0$

따라서 방정식  $f(x) = 0$ 은 열린 구간  $(0, \alpha)$ 에서 적어도 하나의 실근을 갖는다. (참)

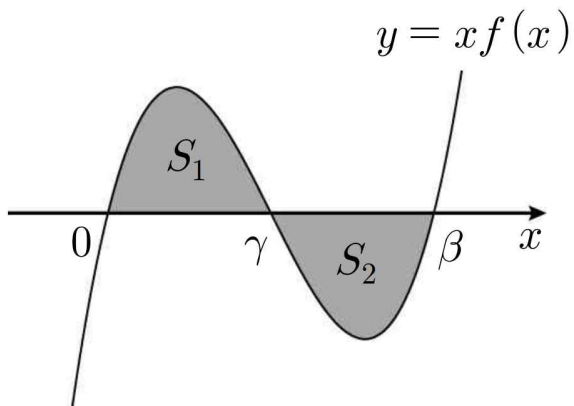
ㄷ.  $\beta > 0$ 이고  $g(\beta) = 0$ 이므로 ㄴ에 의하여  $f(\gamma) = 0$ 인

$\gamma (0 < \gamma < \beta)$ 가 존재한다.

$f(x) = a(x-\gamma)(x-\beta) (a > 0)$ 이고

$S_1 = \int_0^\gamma |xf(x)|dx, S_2 = \int_\gamma^\beta |xf(x)|dx$ 라 하면

$y = xf(x)$ 의 그래프는 다음과 같다.



$g(\beta) = \int_0^\beta tf(t)dt = S_1 - S_2 = 0$  이므로

$S_1 = S_2$  이다.

$\int_\beta^x tf(t)dt = g(x) - g(\beta) = g(x) = \int_0^x tf(t)dt \geq 0$

이므로, 모든 실수  $x$ 에 대하여  $\int_\beta^x tf(t)dt \geq 0$  (참)

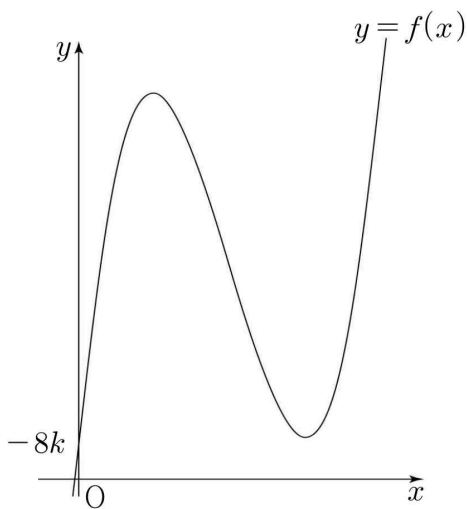
따라서 옳은 것은 ㄱ, ㄴ, ㄷ

74) [정답] ②

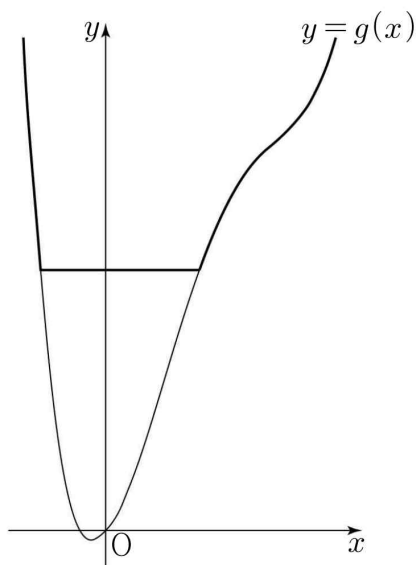
[해설]

함수  $f(x)$ 는  $x=1$ 에서 극댓값,  $x=3$ 에서 극솟값을 갖고,  $k$ 의 값에 따른 함수  $y=f(x)$ 와  $y=g(x)$ 의 그래프는 그림과 같다.

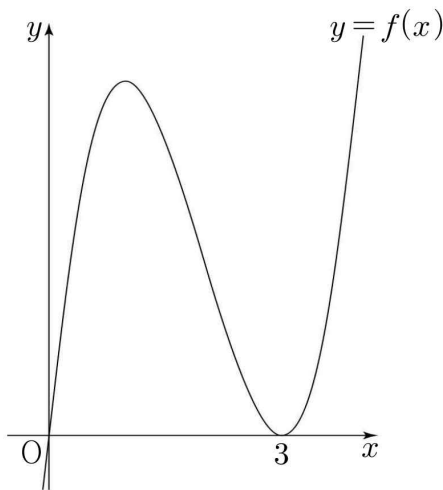
(i)  $k < 0$ 일 때



그림과 같이 한 점에서만 미분가능하지 않도록 하는  $a, b$ 가 존재하지 않는다.



(ii)  $k=0$ 일 때



그림과 같이  $b=3$ 일 때  $g'(3)=0$ 이므로

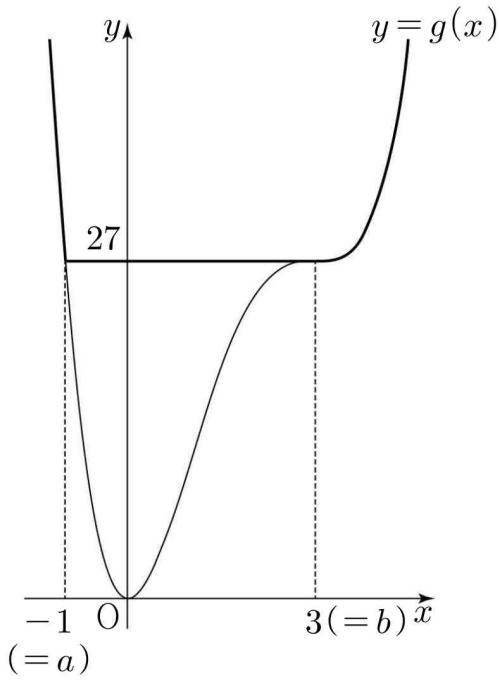
$g(3) = \int_0^3 f(x)dx = [x^4 - 8x^3 + 18x^2]_0^3 = 27 = c$

$g(a)=27$ 에서

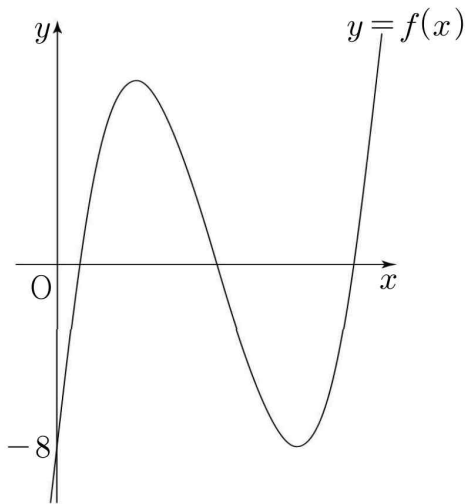
$a^4 - 8a^3 + 18a^2 = 27, (a+1)(a-3)^3 = 0$

$a = -1$

따라서  $a = -1, b = 3, c = 27$



(iii)  $k=1$ 일 때



함수

$$f(x) = 4x^3 - 24x^2 + 36x - 8 \text{에서}$$

$$f(2 - \sqrt{3}) = f(2) = f(2 + \sqrt{3}) = 0 \text{이므로 그림과 같이 함수}$$

$g(x)$ 는

$$x = 2 - \sqrt{3}, x = 2 + \sqrt{3} \text{에서 극솟값 } -1,$$

$$x = 2 \text{에서 극댓값을 갖는다.}$$

$$g(2) = \int_0^2 f(x) dx = [x^4 - 8x^3 + 18x^2 - 8x]_0^2 = 8 = c$$

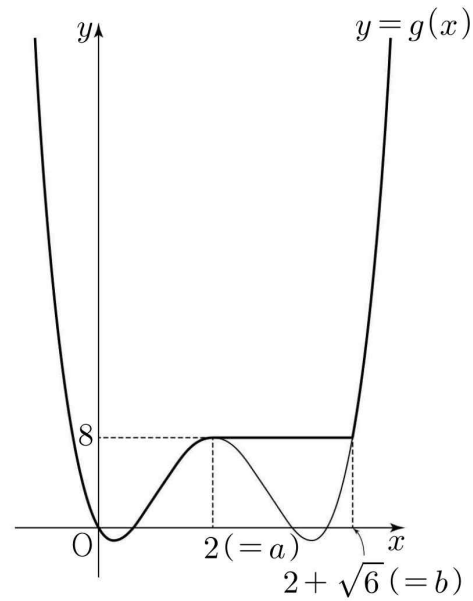
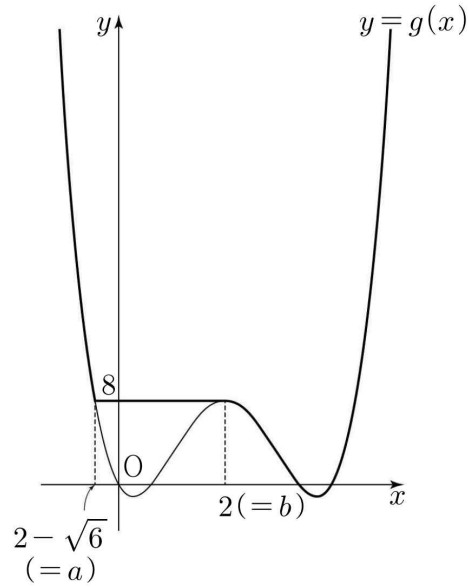
$g(x) = 8$ 에서

$$x^4 - 8x^3 + 18x^2 - 8x = 8$$

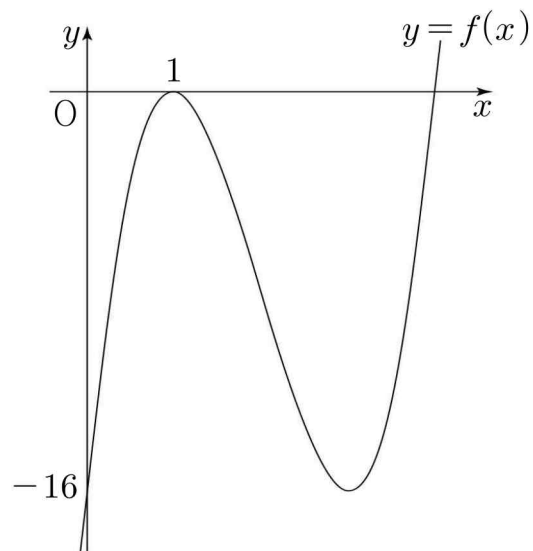
$$(x-2)^2(x-2+\sqrt{6})(x-2-\sqrt{6}) = 0$$

따라서  $a = 2 - \sqrt{6}, b = 2, c = 8$

또는  $a = 2, b = 2 + \sqrt{6}, c = 8$



(iv)  $k=2$ 일 때



그림과 같이  $a=1$ 일 때,  $g'(1) = 0$ 이므로

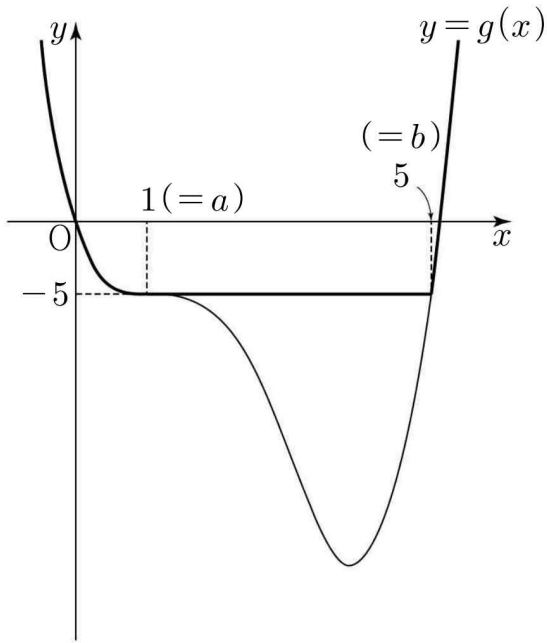
$$g(1) = \int_0^1 f(x) dx = [x^4 - 8x^3 + 18x^2 - 16x]_0^1 = -5 = c$$

$g(b) = -5$ 에서

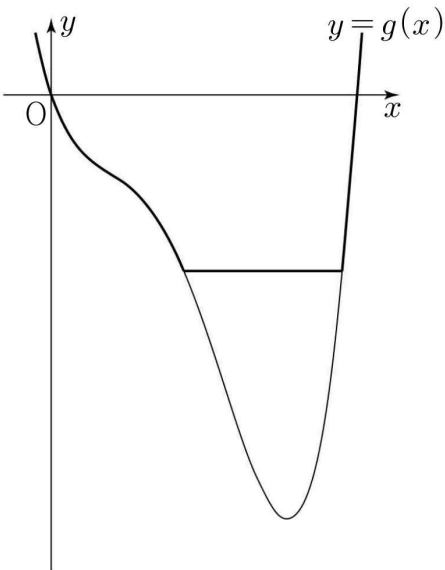
$$b^4 - 8b^3 + 18b^2 - 16b = -5, (b-1)^3(b-5) = 0$$

$b=5$

따라서  $a=1, b=5, c=-5$



(v)  $k \geq 3$  일 때



(i)의 경우와 마찬가지로 조건을 만족하는  $a, b, c$ 는 존재하지 않는다.

(i)~(v)에 의하여 조건을 만족하는  $k, a, b, c$ 의 합  $k+a+b+c$ 의 값은 각각  $29, 13-\sqrt{6}, 13+\sqrt{6}, 3$

따라서  $k+a+b+c$ 의 최솟값은 3

75) [정답] ⑤

[해설]

ㄱ.  $h(x)=(x-1)f(x)$ 이므로  $h'(x)$ 는 곱의 미분에 의해  $f(x)+(x-1)f'(x)$ 이다. (참)

ㄴ.  $x=-1$ 에서 극값 0을 가지므로

$f(-1)=0, f'(-1)=0$ 이다. 따라서  $f(x)$ 에 대입하여 연립하면  $a=-1, b=-1$ 이므로

$f(x)=x^3+x^2-x-1$

$\int_0^1 g(x)dx = [h(x)]_0^1 = [(x-1)(x^3+x^2-x-1)]_0^1 = -1$ 이다. (참)

ㄷ.  $\int_0^1 g(x)dx = [(x-1)f(x)]_0^1 = -f(0)$ 이다. 그런데

$f(0)=0$ 이므로  $g(x)$ 를 0부터 1까지 적분한 값이 0이 된다. 따라서 어떤 경우에서도  $g(x)=0$ 이 되는 지점이 열린구간  $(0, 1)$ 에서 적어도 하나 존재한다. (참)

76) [정답] ⑤

[해설]

ㄱ.  $f'(0)=g'(0)=0$

$x < 0$ 에서  $f'(x) > 0, g'(x) > 0$

$0 < x < 4$ 에서  $f'(x) < 0, g'(x) < 0$

이므로 두 함수  $f(x)$ 와  $g(x)$ 는 모두  $x=0$ 에서 극대이다. (참)

ㄴ.  $f(x) = \frac{1}{3}x^3 - 2x^2 + C_1, g(x) = -x^2 + C_2$

(단,  $C_1, C_2$ 는 적분상수)

$h(x) = f(x) - g(x)$ 라 하면

$h'(x) = f'(x) - g'(x) = x(x-2)$

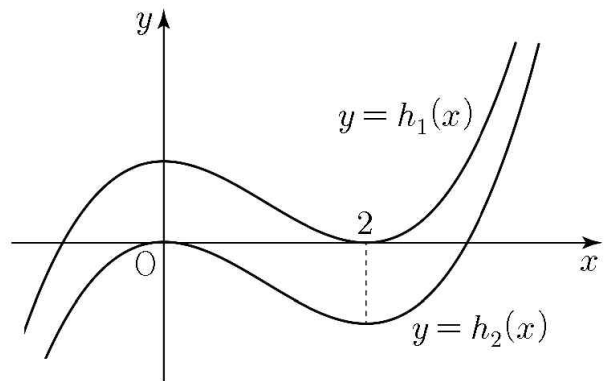
두 함수  $f(x), g(x)$ 의 그래프가 서로 다른

두 점에서만 만나는 경우는 삼차함수  $h(x)$ 의

그래프가  $x$ 축과 서로 다른 두 점에서만 만나는

경우이므로 삼차함수  $h(x)$ 의 그래프의 개형은

다음  $y=h_1(x)$ 와  $y=h_2(x)$ 의 두 가지이다.



$h(x) = h_1(x)$ 일 때,  $h_1(2) = 0$ 이므로

$h_1(0) \times h_1(2) = 0$

$h(x) = h_2(x)$ 일 때,  $h_2(0) = 0$ 이므로

$h_2(0) \times h_2(2) = 0$

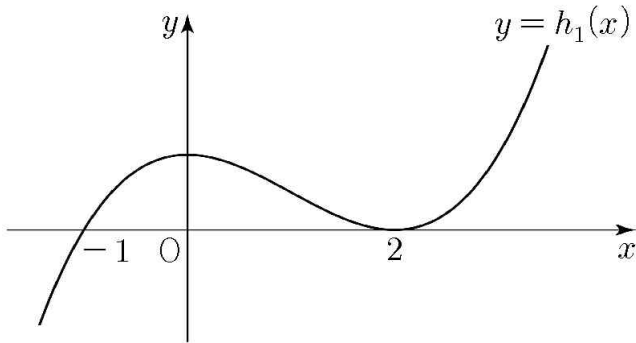
$\{f(0) - g(0)\} \times \{f(2) - g(2)\} = 0$  (참)



ㄷ.  $\int_{-1}^0 h_2(t)dt < 0$ 이므로 함수  $h_2(x)$ 는 모든 실수  $x$ 에 대하여  $\int_{-1}^x \{f(t)-g(t)\}dt \geq 0$ 을 만족시키는 함수  $h(x)$ 가 아니다.

$$h_1(2) = -\frac{4}{3} + C_1 - C_2 = 0, \quad C_1 - C_2 = \frac{4}{3}$$

$$h_1(x) = \frac{1}{3}x^3 - x^2 + \frac{4}{3} = \frac{1}{3}(x+1)(x-2)^2$$



$x < -1$ 일 때,  $h_1(x) < 0$ 이므로  $\int_{-1}^x h_1(t)dt > 0$

$x \geq -1$ 일 때,  $h_1(x) \geq 0$ 이므로  $\int_{-1}^x h_1(t)dt \geq 0$

그러므로 모든 실수  $x$ 에 대하여

$\int_{-1}^x \{f(t)-g(t)\}dt \geq 0$ 을 만족시키는 함수  $h(x)$ 는

함수  $h_1(x)$ 이다.

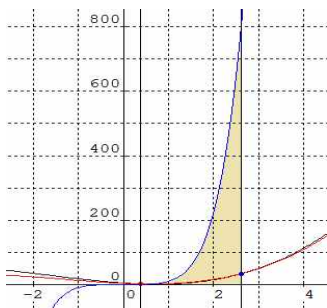
$$\int_{-1}^1 \{f(x)-g(x)\}dx = \int_{-1}^1 \left(\frac{1}{3}x^3 - x^2 + \frac{4}{3}\right)dx$$

$$= 2 \text{ (참)}$$

따라서 옳은 것은 ㄱ, ㄴ, ㄷ

77) [정답] ④

[해설]



교점을 확인하면

$$x^3 + 4x^2 - 6x + 5 = x^3 + 5x^2 - 9x + 6$$

$$x^2 - 3x + 1 = 0$$

$$(\beta - \alpha)^2 = (\beta + \alpha)^2 - 4\alpha\beta = 9 - 4 = 5$$

$$\therefore \beta - \alpha = \sqrt{5}$$

$$x^2 = 3x - 1,$$

$$x^4 = (3x - 1)^2 = 9x^2 - 6x + 1$$

$$= 9(3x - 1) - 6x + 1 = 21x - 8$$

$$x^6 = x^2 x^4 = (3x - 1)(21x - 8) = 63x^2 - 45x + 8$$

$$= 63(3x - 1) - 45x + 8 = 144x - 55$$

이므로  $\alpha^2 = 3\alpha - 1, \alpha^4 = 21\alpha - 8, \alpha^6 = 144\alpha - 55$ 이다.

$\beta$ 의 경우도 마찬가지이다.

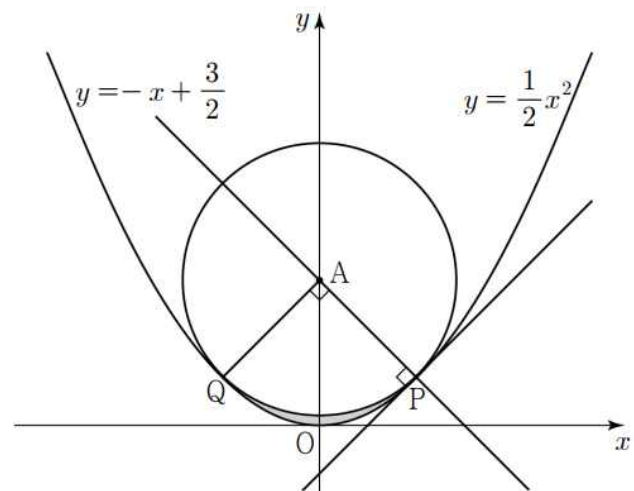
$$S = \int_{\alpha}^{\beta} (6x^5 + 4x^3 + 1)dx = [x^6 + x^4 + x]_{\alpha}^{\beta}$$

$$= (\beta^6 - \alpha^6) + (\beta^4 - \alpha^4) + (\beta - \alpha) = 166(\beta - \alpha) = 166\sqrt{5}$$

$$\therefore a = 166$$

78) [정답] 140

[해설]



두 곡선의 교점의 좌표를 각각

$$P\left(\alpha, \frac{1}{2}\alpha^2\right), Q\left(-\alpha, \frac{1}{2}\alpha^2\right) \text{이라 하자. } (\alpha > 0)$$

함수  $y = \frac{1}{2}x^2$ 의 그래프의 접점 P에서 접선의 기울기는

$\alpha$ 이고 이 접선은 직선 AP와 수직이다.

즉,

$$\frac{\frac{1}{2}\alpha^2 - \frac{3}{2}}{\alpha - 0} = -\frac{1}{\alpha}$$

$\alpha^2 = 1$ 이므로

$$P\left(1, \frac{1}{2}\right), Q\left(-1, \frac{1}{2}\right)$$

직선 AP는  $y = -x + \frac{3}{2}$

$\angle PAQ = 90^\circ$ , 원의 반지름은  $\sqrt{2}$

구하는 넓이를  $S$ 라 하면

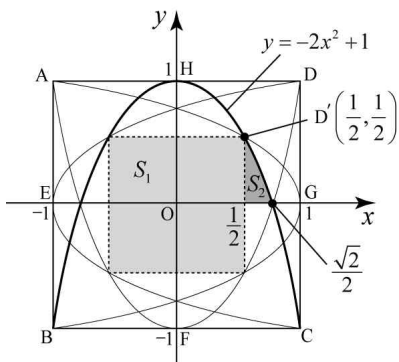
$$\begin{aligned} S &= 2 \left\{ \int_0^1 \left( -x + \frac{3}{2} - \frac{1}{2}x^2 \right) dx - \frac{\pi}{4} \right\} \\ &= 2 \left\{ \left[ -\frac{1}{6}x^3 - \frac{1}{2}x^2 + \frac{3}{2}x \right]_0^1 - \frac{\pi}{4} \right\} \\ &= \frac{5}{3} - \frac{\pi}{2} \end{aligned}$$

$a = \frac{5}{3}$ ,  $b = -\frac{\pi}{2}$  이므로

$$120(a + b) = 140$$

79) [정답] 15

[해설]



점 E, G를 지나는 직선을  $x$ 축, 점 H, F를 지나는 직선을  $y$ 축으로 할 때, 세 점 B, H, C를 지나는 이차함수는

$$y = -2x^2 + 1$$

교점  $D'$ 의 좌표는  $(\frac{1}{2}, \frac{1}{2})$ 이므로

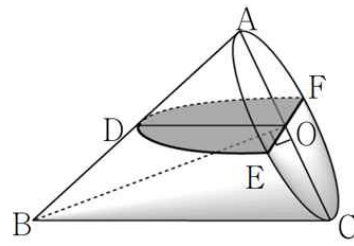
어두운 부분의 넓이는

$$S_1 + 8S_2 = 1 + 8 \int_{\frac{1}{2}}^{\frac{\sqrt{2}}{2}} (-2x^2 + 1) dx = \frac{8\sqrt{2} - 7}{3}$$

$p = 8$ ,  $q = -7$ , 따라서  $p - q = 15$

80) [정답] ④

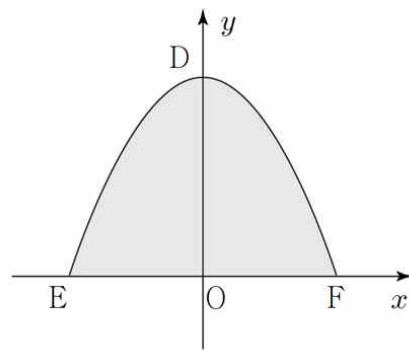
[해설]



삼각형 ABC에 대하여  $\overline{BC} = 3$ 이고  $\overline{BC} \parallel \overline{DO}$ ,  
 $\overline{OA} = \overline{OC}$ 이므로 삼각형의 중점연결정리에 의하여

$$\overline{DO} = \frac{1}{2} \overline{BC} = \frac{3}{2}$$

좌표평면에 포물선을 나타내면



이 포물선은  $(0, \frac{3}{2})$ 을 꼭짓점으로 하고  $(1, 0)$ 을 지나므로,

포물선의 방정식은  $y = -\frac{3}{2}x^2 + \frac{3}{2}$  따라서 구하고자 하는

단면의 넓이는  $S = \int_{-1}^1 \left( -\frac{3}{2}x^2 + \frac{3}{2} \right) dx = 2$

81) [정답] ⑤

[해설]

$g(x) = ax^2 + bx + c$ 라 하자.

이 때, (가) (나)에 의하여

$$f(x) - g(x) = (x - \alpha)^2(x - \alpha - 1)^2$$

따라서  $S_1 = \frac{1}{30}$ 이다. 또한

$$f(x) - g(x) = x^4 - 6x^3 + (12 - a)x^2 + (-8 - b)x + 1 - c$$

$$= (x - \alpha)^2(x - \alpha - 1)^2$$

이므로  $\alpha = 1$ 이다.

따라서  $a = -1$ ,  $b = 4$ ,  $c = -3$ 이면,  $S_2 = \frac{4}{3}$ 이다.

따라서  $\frac{S_2}{S_1} = 40$ 이다.

82) [정답] 35

[해설]

$$f(x) = \begin{cases} (x \leq 0) -x^2 - 2x \\ (x \geq 0) x^2 - 2x \end{cases}$$

$$f(x+1) = \begin{cases} (x \leq -1) -x^2 - 4x - 3 \\ (x \geq -1) x^2 - 1 \end{cases}$$

$$g(x) = \begin{cases} (x \leq -\frac{3}{2}) & f(x) \\ (-\frac{3}{2} \leq x \leq 0) & f(x+1) \\ (0 \leq x \leq 1) & f(1) \\ (1 \leq x) & f(x) \end{cases}$$

두 곡선  $y=f(x)$ 와  $y=g(x)$ 로 둘러싸인 넓이를  $S$ 라 하면

$$S = \int_{-\frac{3}{2}}^0 \{f(x) - f(x+1)\} dx + \int_0^1 \{f(x) - f(1)\} dx$$

$$= \int_{-\frac{3}{2}}^{-1} \{(-x^2 - 2x) - (-x^2 - 4x - 3)\} dx$$

$$+ \int_{-1}^0 \{(-x^2 - 2x) - (x^2 - 1)\} dx$$

$$+ \int_0^1 \{(x^2 - 2x) - (-1)\} dx$$

$$= \frac{1}{4} + \frac{4}{3} + \frac{1}{3} = \frac{23}{12}$$

$$\therefore p+q=35$$

83) [정답] ④

[해설]

조건 (가)에 의하여 함수  $y=f(x)$ 의 그래프를  $x$ 축의 방향으로 3만큼,  $y$ 축의 방향으로 4만큼 평행이동한 그래프는 함수  $y=f(x)$ 의 그래프와 일치한다.

조건 (나)에서

$$\begin{aligned} \int_0^6 f(x) dx &= \int_0^3 f(x) dx + \int_3^6 f(x) dx \\ &= \int_0^3 f(x) dx + \int_3^6 \{f(x-3) + 4\} dx \\ &= \int_0^3 f(x) dx + \int_0^3 \{f(x) + 4\} dx \\ &= 2 \int_0^3 f(x) dx + 12 \end{aligned}$$

$$\int_0^3 f(x) dx = -6$$

또한  $\int_0^3 f(x) dx + \int_3^6 f(x) dx = 0$ 에서

$$\int_3^6 f(x) dx = 6$$

이고 함수  $f(x)$ 는 증가함수이므로  $x \geq 6$ 일 때  $f(x) > 0$ 이다. 따라서 구하는 넓이를  $S$ 라 하면

$$S = \int_6^9 |f(x)| dx = \int_6^9 f(x) dx$$

$$= \int_6^9 \{f(x-3) + 4\} dx$$

$$= \int_3^6 f(x) dx + 12$$

$$= 6 + 12$$

$$= 18$$

84) [정답] 2

[해설]

$f(1-x) = -f(1+x)$ 에  $x=0, x=1$ 을 각각 대입하면

$$f(1) = -f(1) \text{에서 } f(1) = 0, f(0) = -f(2) \text{에서 } f(2) = 0$$

삼차함수  $f(x)$ 는  $f(0) = f(1) = f(2) = 0$ 이고 최고차항의 계수가 1이므로  $f(x) = x(x-1)(x-2)$

방정식  $f(x) = -6x^2$ 에서  $x^3 + 3x^2 + 2x = 0$ 이므로

$$x(x+1)(x+2) = 0, x=0 \text{ 또는 } x=-1 \text{ 또는 } x=-2$$

$-2 \leq x \leq -1$ 에서  $x^3 + 3x^2 + 2x \geq 0$ 이고

$-1 \leq x \leq 0$ 에서  $x^3 + 3x^2 + 2x \leq 0$ 이므로

$$S = \int_{-2}^0 |x^3 + 3x^2 + 2x| dx$$

$$= \int_{-2}^{-1} (x^3 + 3x^2 + 2x) dx + \int_{-1}^0 \{-(x^3 + 3x^2 + 2x)\} dx$$

$$= \left[ \frac{1}{4}x^4 + x^3 + x^2 \right]_{-2}^{-1} + \left[ -\frac{1}{4}x^4 - x^3 - x^2 \right]_{-1}^0 = \frac{1}{2}$$

따라서  $4S = 2$

85) [정답] ①

[해설]

포물선  $C_1$ 의 방정식을  $y = ax^2 + b$ 로 놓으면 곡선

$y = ax^2 + b$ 가 점  $(1, \sqrt{3})$ 을 지나고 이 점에서 접선의

기울기가  $\sqrt{3}$ 이므로  $\sqrt{3} = a + b$ 이고  $\sqrt{3} = 2a$ 이다.

$$\therefore a = b = \frac{\sqrt{3}}{2} \text{ 이므로 } y = \frac{\sqrt{3}}{2}x^2 + \frac{\sqrt{3}}{2}$$

$$\therefore S = 12 \int_0^1 \left( \frac{\sqrt{3}}{2}x^2 + \frac{\sqrt{3}}{2} - \sqrt{3}x \right) dx = 2\sqrt{3}$$

86) [정답] ④

[해설]

접점을  $(t, t^2)$ 이라 하면  $y = x^2$ 에서  $y' = 2x$ 이므로 접선의 방정식은  $y = 2t(x - t) + t^2$  .....㉠

㉠이 점  $(\frac{1}{2}, -2)$ 를 지나므로

$$-2 = 2t\left(\frac{1}{2} - t\right) + t^2$$

$$t^2 - t - 2 = 0$$

$$\therefore t = -1 \text{ 또는 } t = 2$$

따라서 접점의 좌표는  $(-1, 1), (2, 4)$ 이다.

$A(-1, 1), B(2, 4)$ 라 할 때, 직선 AB의 방정식은  $y = x + 2$

점  $(\frac{1}{2}, -2)$ 에서 직선 AB에 이르는 거리는

$$\frac{\left|\frac{1}{2} + 2 + 2\right|}{\sqrt{1^2 + (-1)^2}} = \frac{9\sqrt{2}}{4} \text{ 이고}$$

$$\overline{AB} = \sqrt{3^2 + 3^2} = 3\sqrt{2} \text{ 이다.}$$

$$\therefore (\Delta PAB \text{의 넓이}) = \frac{1}{2} \times 3\sqrt{2} \times \frac{9\sqrt{2}}{4} = \frac{27}{4}$$

직선 AB와 곡선  $y = x^2$ 로 둘러싸인 부분의 넓이는

$$\frac{1}{6}(2 - (-1))^3 = \frac{9}{2}$$

따라서 구하는 넓이는

$$\frac{27}{4} - \frac{9}{2} = \frac{9}{4}$$

87) [정답] 32

[해설]

직선  $l$ 의 방정식을  $y = g(x)$ 라 하자.

(단,  $g(x)$ 는 일차 이하의 다항함수)

직선  $l$ 과 곡선  $y = f(x)$ 가 서로 다른 두 점에서 접하므로

이 두 점의  $x$ 좌표를  $\alpha, \beta (\alpha < \beta)$ 라 하면

$$f(x) - g(x) = (x - \alpha)^2(x - \beta)^2 \text{ 이 성립한다.}$$

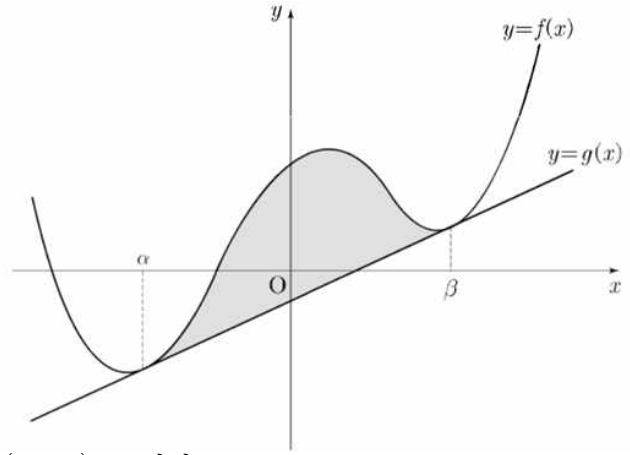
그런데  $g(x)$ 는 1차 이하의 다항함수이므로

다항식  $f(x) - g(x)$ 의  $x^3$ 과  $x^2$ 항의 계수는  $f(x)$ 와 같다.

$f(x) - g(x)$ 의  $x^3$ 의 계수는 0이므로

근과 계수와의 관계에서

방정식  $f(x) - g(x) = 0$ 의 중근을 포함한 모든 근의 합



$2(\alpha + \beta) = 0$ 이다.

$$\therefore \beta = -\alpha$$

$$f(x) - g(x) = (x - \alpha)^2(x + \alpha)^2 \\ = (x^2 - \alpha^2)^2 = x^4 - 2\alpha^2x^2 + \alpha^4$$

$f(x) - g(x)$ 의  $x^2$ 의 계수는  $-2\alpha^2$ 이므로

$$-2\alpha^2 = -2$$

$$\therefore \alpha = -1, \beta = 1 (\because \alpha < \beta)$$

$$\therefore f(x) - g(x) = x^4 - 2x^2 + 1$$

$$\therefore A = \int_{-1}^1 \{f(x) - g(x)\} dx$$

$$= \int_{-1}^1 (x^4 - 2x^2 + 1) dx$$

$$= 2 \left[ \frac{x^5}{5} - \frac{2}{3}x^3 + x \right]_0^1$$

$$= \frac{16}{15}$$

$$\therefore 30A = 32$$

88) [정답] ①

[해설]

$$S_1 + S_2 + S_3 = 1, 2S_2 = S_1 + S_3 \dots \text{㉠}$$

$$S_1 = \int_0^1 \frac{1}{2}x^2 dx = \frac{1}{6} \dots \text{㉡}$$

$$\text{㉠, ㉡에서 } S_2 = \frac{1}{3}, S_3 = \frac{1}{2}$$

$ax^2 = 1$ 에서  $x = \frac{1}{\sqrt{a}}$  ( $\because x > 0$ )이므로

$$S_3 = \frac{1}{\sqrt{a}} - \int_0^{\frac{1}{\sqrt{a}}} ax^2 dx = \frac{1}{2} \text{에서 } a = \frac{16}{9}$$

89) [정답] 290

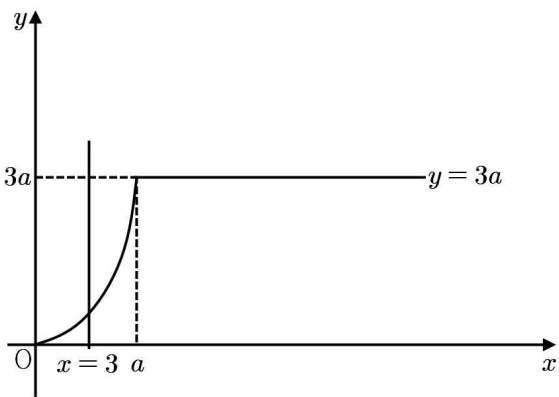
[해설]

$$f(x) = \begin{cases} \frac{3}{a}x^2 & (-a \leq x \leq a) \\ 3a & (x < -a \text{ 또는 } x > a) \end{cases}$$

의 그래프는  $y$ 축 대칭함수이므로  $y=f(x)$ 의 그래프와  $x$ 축 및 두 직선  $x=-3, x=3$ 으로 둘러싸인 넓이가 8이면  $y=f(x)$ 의 그래프와  $x$ 축 및 두 직선  $x=0, x=3$ 으로 둘러싸인 넓이가 4이다.

$x \geq 0$ 일 때  $y=f(x)$ 의 그래프를 그려보면 다음과 같다.

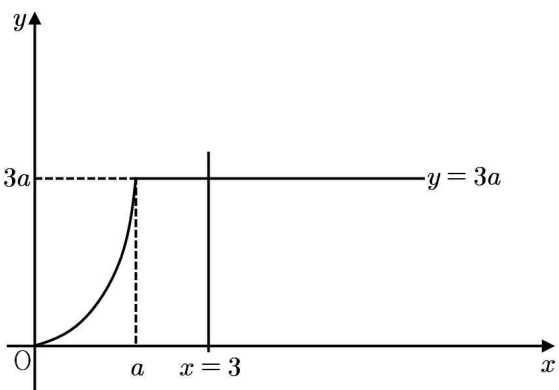
(i)  $a \geq 3$ 일 때



$$\int_0^3 \frac{3}{a}x^2 dx = \left[ \frac{x^3}{a} \right]_0^3 = \frac{27}{a} = 4$$

$$\therefore a = \frac{27}{4}$$

(ii)  $0 < a < 3$ 일 때



$$\int_0^a \frac{3}{a}x^2 dx + (3-a) \times 3a$$

$$= \left[ \frac{x^3}{a} \right]_0^a + 9a - 3a^2$$

$$= -2a^2 + 9a$$

$$= 4$$

$$\therefore a = \frac{1}{2} \quad (\because 0 < a < 3)$$

(i), (ii)에 의하여 만족하는  $a$ 는  $\frac{27}{4}, \frac{1}{2}$ 이므로 모든  $a$ 값의

합  $S$ 는  $S = \frac{29}{4}$

$$\therefore 40S = 40 \times \frac{29}{4} = 290$$

90) [정답] 13

[해설]

삼각형 OAB는 직각삼각형이므로 선분 OB는 원  $C$ 의 지름이다. 원  $C$ 의 반지름의 길이를  $r$ 라 하면

$$r = \frac{1}{2}OB = \frac{1}{2}\sqrt{t^2+t^4}$$

이때 두 점  $O(0, 0), B(t, t^2)$ 을 지나는 직선의 방정식은  $y=tx$ 이고, 원  $C$ 의 내부와 부등식  $y \leq x^2$ 이 나타내는 영역의 공통부분의 넓이는 반원의 넓이에서 원  $C$ 의 직선  $y=tx$ 와 곡선  $y=x^2$ 으로 둘러싸인 부분의 넓이를 뺀 값과 같다.

$$S(t) = \frac{1}{2}\pi r^2 - \int_0^t (tx - x^2) dx$$

$$= \frac{1}{8}\pi(t^2+t^4) - t \int_0^t x dx + \int_0^t x^2 dx$$

$$S'(t) = \frac{1}{8}\pi(2t+4t^3) - \int_0^t x dx - t^2 + t^2$$

$$= \frac{1}{4}\pi(t+2t^3) - \frac{1}{2}t^2$$

$$\therefore S'(1) = \frac{3}{4}\pi - \frac{1}{2} = \frac{3\pi-2}{4}$$

따라서  $p=3, q=-2$ 이므로

$$p^2+q^2=13$$

91) [정답] 54

[해설]

직선을  $y=mx+n$  이라 두면

$$\int_0^6 (x^3 - 6x^2 - mx - n) dx = 0 \text{ 이므로 } n = -3m - 18$$

직선  $y=mx-3m-18$

$m(x-3) - (y+18) = 0$ 이고  $m$ 에 관한 항등식

이므로 점 D의 좌표는  $(x, y) = (3, -18)$  따라서 넓이는 54

92) [정답] ②

[해설]

t에서의 두 점 P, Q의 위치를 각각  $x_P, x_Q$ 라 하면

$$x_P = 5 + \int_0^t (3t^2 - 2) dt = t^3 - 2t + 5,$$

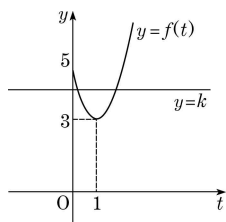
$$x_Q = k + \int_0^t 1 dt = t + k$$

이때, 두 점 P, Q가 만나려면  $t^3 - 2t + 5 = t + k$  즉,  
 $t^3 - 3t + 5 = k$ 이어야 한다.

$f(t) = t^3 - 3t + 5$ 라 하면

$f'(t) = 3t^2 - 3 = 3(t-1)(t+1)$  이므로  $t > 0$ 에서 함수

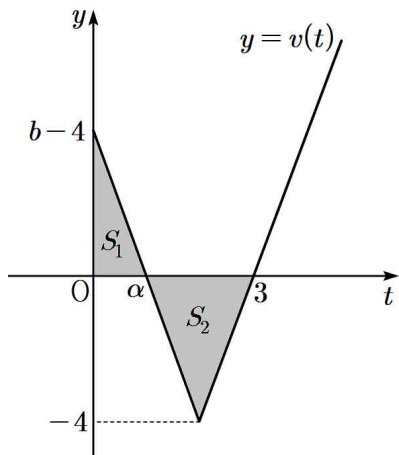
$f(t)$ 의 그래프는 그림과 같다.



직선  $y = k$ 와 곡선  $y = f(t)$ 가 서로 다른 두 점에서 만날 조건은  $3 < k < 5$ 이므로 정수  $k$ 는 4이다.

93) [정답] 14

[해설]



조건 (가), (나)에서  $v(3) = 0$ 이고, 그림과 같이 색칠한 부분의 넓이를 각각  $S_1, S_2$ 라 하면

$$s(3) = S_1 + S_2, \quad x(3) = S_1 - S_2$$

조건 (나)에서  $s(3) - x(3) = 8$ 이므로

$$(S_1 + S_2) - (S_1 - S_2) = 8$$

$$\therefore S_2 = 4$$

위의 그림에서

$$S_2 = \frac{1}{2} \times (3 - \alpha) \times 4 = 4$$

$$\therefore \alpha = 1$$

$v(2) = -4$ 이므로  $v(t) = |at - b| - 4$ 에서

$$v(2) = |2a - b| - 4 = -4, \quad b = 2a$$

$v(1) = v(3) = 0$ 이므로

$$v(1) = |a - b| - 4 = 0, \quad |-a| = 4$$

$$\therefore a = 4 (\because a > 0), \quad b = 8$$

$v(t) = |4t - 8| - 4$ 이므로  $t = 1$ 에서  $t = 6$ 까지 점 P의 위치의 변화량은

$$\begin{aligned} \int_1^6 v(t) dt &= -S_2 + \int_3^6 (4t - 12) dt \\ &= -4 + \left[ 2t^2 - 12t \right]_3^6 \\ &= -4 + 18 = 14 \end{aligned}$$

94) [정답] ④

[해설]

$$a(t) = 3t^2 - 12t + 9, \quad v(t) = t^3 - 6t^2 + 9t + k$$

ㄱ.  $t > 3$ 이면

$a(t) = 3(t-1)(t-3) > 0$ 이므로  $v(t)$ 는 증가한다.  $\therefore$  참

ㄴ.  $k = -4$ 이면  $v(1) = 0$ (극댓값)이므로  $v(t)$ 의 그래프와 같다.

따라서 점 P의 운동 방향은 한 번 바뀐다.  $\therefore$  거짓

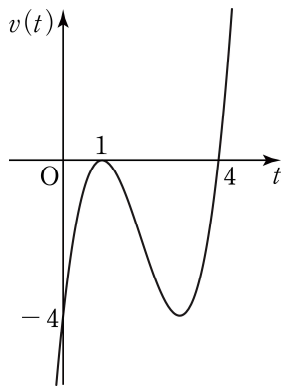
ㄷ.  $0 \leq t \leq 5$ 에서  $v(t) \geq 0$ 이면 된다.

이 구간에서 최솟값은

$$v(3) = k \text{이므로 } k \geq 0$$

따라서  $k$ 의 최솟값은 0이다.

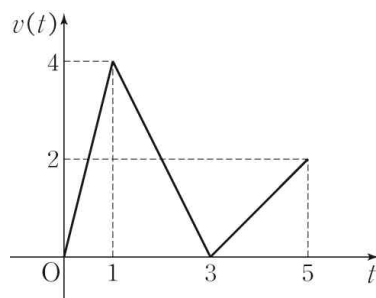
$\therefore$  참



95) [정답] ①

[해설]

$v(t)$ 의 그래프는 다음 그림과 같다.



ㄱ. (참) 시각  $t=0$ 에서  $t=1$ 까지 움직인 거리는

$$1 \times 4 \times \frac{1}{2} = 2$$

시각  $t=1$ 에서  $t=3$ 까지 움직인 거리는  $2 \times 4 \times \frac{1}{2} = 4$

시각  $t=3$ 에서  $t=5$ 까지 움직인 거리는  $2 \times 2 \times \frac{1}{2} = 2$

이므로  $f(1) = 2$ 이다.

ㄴ. (거짓)  $x=2$ 일 때, 시각  $t=4$ 에서  $t=5$ 까지 움직인

거리가 최소이므로  $f(2) = (1+2) \times 1 \times \frac{1}{2} = \frac{3}{2}$

$$\therefore f(2) - f(1) = \frac{3}{2} - 2 = -\frac{1}{2} \neq \int_1^2 v(t) dt$$

ㄷ. (거짓) (i)  $x < 1$ 인 경우

시각  $t=0$ 에서  $t=x$ 까지 움직인 거리가 최소이므로

$$f(x) = x \times 4x \times \frac{1}{2} = 2x^2$$

$$\lim_{x \rightarrow 1-0} \frac{f(x) - f(1)}{x - 1} = \lim_{x \rightarrow 1-0} (2x + 2) = 4$$

(ii)  $x > 1$ 인 경우

시각  $t=x+2$ 에서  $t=5$ 까지 움직인 거리가 최소이므로

$$f(x) = \{(x-1)+2\} \times (3-x) \times \frac{1}{2}$$

$$= \frac{1}{2}(-x^2 + 2x + 3)$$

$$\lim_{x \rightarrow 1+0} \frac{f(x) - f(1)}{x - 1} = \lim_{x \rightarrow 1+0} \left(-\frac{1}{2}x + \frac{1}{2}\right) = 0$$

(i), (ii)에서

$$\lim_{x \rightarrow 1-0} \frac{f(x) - f(1)}{x - 1} \neq \lim_{x \rightarrow 1+0} \frac{f(x) - f(1)}{x - 1}$$

그러므로 함수  $f(x)$ 는  $x=1$ 에서 미분가능하지 않다.

따라서 옳은 것은 ㄱ뿐이다.

96) [정답] ⑤

[해설]

$t$ 초 후 두 점의 위치는 각각  $\frac{1}{3}t^3 + \frac{1}{2}t^2, \frac{5}{2}t^2$

위치가 같으므로  $\frac{1}{3}t^3 + \frac{1}{2}t^2 = \frac{5}{2}t^2$

이것을 풀면  $t=6$ 이다.

$t > 0$ 일 때 각각의 점의 속도는 양수이므로, 점의 위치가 곧 움직인 거리이다.

$$\therefore \frac{5}{2} \times 6^3 = 90$$

97) [정답] ②

[해설]

$$\begin{cases} x_1(t) = t^3 - 3t^2 \\ x_2(t) = t^2 \end{cases} \text{ 이므로 } a^3 - 3a^2 = a^2$$

$$\therefore a = 4 (\because a > 0)$$

또한,  $\{x_1(t)\}' = 3t^2 - 6t$ 이므로 점 P가 움직인 거리는

$$\begin{aligned} & \int_0^4 |3t^2 - 6t| dt \\ &= \int_0^2 (-3t^2 + 6t) dt + \int_2^4 (3t^2 - 6t) dt \\ &= \frac{3 \times (2-0)^3}{6} + x_1(4) - x_1(2) \\ &= 4 + 20 \\ &= 24 \end{aligned}$$

따라서 움직인 거리는 24이다.

98) [정답] ⑤

[해설]

$$\neg. v(t) = 3t^2 - 6t = 3t(t-2)$$

$t < 2$ 일 때,  $v(t) < 0$

$t = 2$ 일 때,  $v(2) = 0$

$t > 2$ 일 때,  $v(t) > 0$

$t = 2$ 에서 점 P의 움직이는 방향이 바뀐다. (참)

ㄴ. 시각  $t$ 에서의 점 P의 위치를  $x(t)$ 라 하면

$$x(2) = 0 + \int_0^2 (3t^2 - 6t) dt = \left[t^3 - 3t^2\right]_0^2 = -4$$

(참)

ㄷ. 시각  $t$ 에서의 점 P의 가속도를  $a(t)$ 라 하면

$$a(t) = 6t - 6$$

$$6t - 6 = 12, t = 3$$

$t = 0$ 에서  $t = 3$ 까지 움직인 거리를  $s$ 라 하면

$$s = \int_0^3 |3t^2 - 6t| dt$$

$$= -\int_0^2 (3t^2 - 6t) dt + \int_2^3 (3t^2 - 6t) dt$$

$$= 4 + \left[t^3 - 3t^2\right]_2^3 = 8 \quad (\text{참})$$

따라서 옳은 것은 ㄱ, ㄴ, ㄷ이다.

99) [정답] ③

[해설]

$x(0) = 0, x(1) = 0$ 이므로 점 P의 위치는  $t=0$ 일 때 수직선의 원점이고,  $t=1$ 일 때도 수직선의 원점이다.

또,  $\int_0^1 |v(t)| dt = 2$ 이므로 점 P가  $t=0$ 에서  $t=1$ 까지

움직인 거리가 2이다.

ㄱ. 점 P의  $t=0$ 에서  $t=1$ 까지 위치의 변화량이 0이므로

$$\int_0^1 v(t) dt = 0 \quad (\text{참})$$

ㄴ.  $|x(t_1)| > 1$ 이면 점 P와 원점 사이의 거리가 1보다 큰

시각  $t_1$ 이 존재하므로 점 P가  $t=0$ 에서  $t=1$ 까지 움직인 거리가 2보다 크다. (거짓)

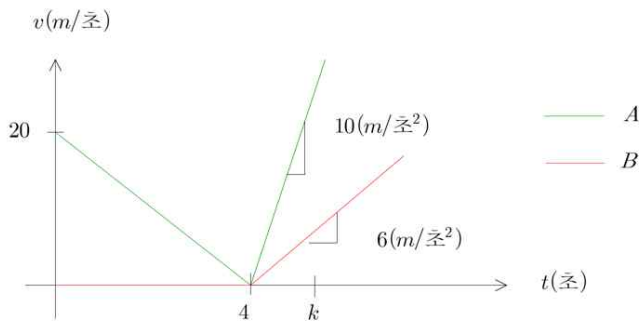
ㄷ.  $0 \leq t \leq 1$ 인 모든 시각  $t$ 에서 점 P와 원점 사이의 거리가 1보다 작고, 점 P가  $t=0$ 에서  $t=1$ 까지 움직인 거리가 2이므로 점 P는  $0 < t < 1$ 에서 적어도 한 번 원점을 지나간다. (참)

이상에서 옳은 것은 ㄱ, ㄷ이다.

100) [정답] 190

[해설]

아래 그림은 시간에 따른 A와 B의 속도변화를 보여준다.



$k$  초 후에 A가 B를 추월하려면 P지점을 기준점으로 다음과

같은 관계식이 성립한다.

$$k \text{ 초 후의 } A \text{ 의 위치} = \frac{1}{2} \cdot 4 \cdot 20 + \int_4^k 10x - 40 \, dx$$

$$= 40 + [5x^2 - 40x]_4^k$$

$$= 40 + (5k^2 - 40k) - (80 - 160)$$

$$= 5k^2 - 40k + 120$$

$$k \text{ 초 후의 } B \text{ 의 위치} = 100 + \int_4^k 6x - 24 \, dx$$

$$= 100 + [3x^2 - 24x]_4^k$$

$$= 100 + (3k^2 - 24k) - (48 - 96)$$

$$= 3k^2 - 24k + 148$$

따라서,

$$5k^2 - 40k + 120 = 3k^2 - 24k + 148$$

$$2k^2 - 16k - 28 = 0$$

$$\therefore k^2 - 8k = 14$$

따라서,  $k$  초 후의 A의 위치는

$$5(k^2 - 8k) + 120 = 5 \times 14 + 120 = 190 \text{ (m)}$$