

제 4 교시

사회탐구 영역(정치와 법)

성명

수험 번호

제 ( ) 선택

1. 다음 자료에 대한 설명으로 옳은 것은? (단, A, B는 각각 정치를 바라보는 관점 중 하나임.)

구성원의 이해관계를 조정하여 사회 질서를 확립하는 과정을 뜻하는 정치는 관점에 따라 정의하는 방식이 다를 수 있다. 정치를 국가와 사회 집단에서 공통으로 나타나는 현상으로 보는 A는 (가) 을/를 정치라고 인정한다. 이와 달리 B는 사회 집단과 구분되는 국가 권력의 특수성을 이유로 정치 권력을 획득·유지·행사하는 활동만을 정치로 본다.

- ① (가)에는 ‘국회의 예산안 의결’이 들어갈 수 있다.
- ② A는 B에 비해 다원화된 현대 사회의 정치 현상을 설명하기에 적합하지 않다.
- ③ A는 B와 달리 국가 권력과 무관한 정치 현상을 설명할 수 없다는 비판을 받는다.
- ④ B는 A에 비해 사회적 희소가치를 배분하는 과정에 참여하는 주체가 다양하다고 본다.
- ⑤ A, B 모두 총학생회 회의에서 학식 관련 문제를 해결하는 과정을 정치라고 보지 않는다.

2. 기본권 A~C에 대한 설명으로 옳은 것은? (단, A~C는 각각 평등권, 사회권, 참정권 중 하나임.) [3점]

○ ‘정치 과정에 참여할 것을 요구하는 능동적 권리인가?’라는 질문으로 A와 C를 구분할 수 있다.  
○ ‘입법자가 법률을 통해 구체화할 수 있는 기본권인가?’라는 질문으로 B와 C를 구분할 수 없다.

- ① A는 원칙적으로 내국인에게만 보장되는 기본권이다.
- ② B는 국가에 특정 행위를 요구할 수 있는 절차적 권리이다.
- ③ C는 기본권 중 가장 먼저 등장한 고전적 권리이다.
- ④ A는 B와 달리 기본권 보장을 위한 수단적 기본권이다.
- ⑤ B는 C와 달리 국가에 인간다운 생활을 요구하는 권리이다.

3. 밑줄 친 ㉠~㉢에 대한 설명으로 옳지 않은 것은?

㉠ 투입은 정치 과정에서 국민 개개인, 이익 집단, 시민 단체 등 다양한 행위자가 ㉡ 정책 결정 기구에 대한 요구를 통해 자신의 이익에 충실한 정치적 결정을 이끌고자 하는 단계이다. 이는 정책 결정 기구를 거쳐 정부 정책이라는 형태의 ㉢ 산출을 가져오고, 이렇게 산출된 정책에 대한 국민의 반응과 평가는 ㉣ 환류를 통해 나타난다.

- ① SNS에 자신의 정치적 견해를 올리는 것은 ㉠에 해당한다.
- ② 정당과 행정부는 모두 공식적으로 정책을 결정하는 ㉡에 해당한다.
- ③ 사법부가 법률을 적용하고 해석하는 것은 ㉢에 해당한다.
- ④ 민주주의 국가에서는 전체주의 국가에서보다 ㉢이 활발하게 나타난다.
- ⑤ ㉠, ㉢은 모두 문화, 생태 등 환경의 영향을 받는다.

4. 법치주의의 유형 A, B에 대한 질문에 모두 옳게 답한 학생은?

근대 민주주의가 정착되기 이전에는 국가 권력의 행사가 국왕의 뜻에 따라 이루어졌다. 이는 국왕의 자의적인 지배로 이어져 국민의 자유와 권리를 침해하는 결과를 가져왔는데, 이러한 이유로 시민 혁명 이후 민주 국가는 법치주의를 국가 권력 행사의 근본 원리로 채택하였다. 처음 등장한 A는 국가 권력의 행사가 법에 맞기만 한다면 법의 내용과 목적을 문제 삼지 않았다. 그러나 A로 인한 합법적 독재가 일어나자 A는 정의를 강조하는 B로 발전되어 현대 민주주의 국가에서 적용되고 있다.

질문	학생	갑	을	병	정	무
A는 ‘법에 의한 지배’보다 ‘법의 지배’를 강조하는가?		○	○	×	×	×
B는 정당성을 상실한 정치 권력에 대하여 저항권을 행사할 수 있다고 보는가?		○	×	○	○	×
A는 B와 달리 법의 내용이 인간의 존엄성 등에 반드시 부합해야 한다고 보는가?		×	○	○	×	×
B는 A와 달리 통치 권력이 형식적인 합법성을 갖춰야 한다고 보는가?		○	×	○	×	×

(○: 예, ×: 아니오)

- ① 갑      ② 을      ③ 병      ④ 정      ⑤ 무

5. 다음 자료에 대한 옳은 분석 및 추론으로 옳은 것은? [3점]

다음은 행정부 수반과 국가 원수의 일원화가 나타나는 갑국의 T기와 T+1기의 정치 상황을 질문으로 구분한 것이다. 단, 갑국의 정부 형태는 제시된 시기 중 변경되지 않는다.

질문	시기	T기	T+1기
(가)		낮다	높다
행정부 수반 소속 정당이 의회에서 과반 의석을 차지하고 있는가?		아니오	예

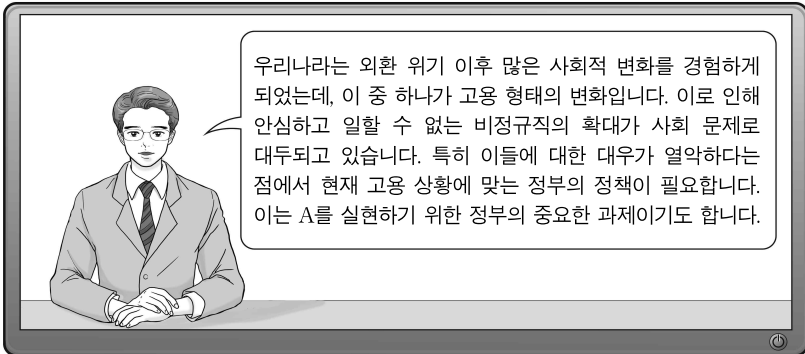
\* (가)는 T기와 T+1기 간 상대적인 가능성을 비교하는 질문임.

- ① 갑국의 행정부 수반은 의회에 대하여 정치적인 책임을 진다.
- ② 갑국의 의회는 내각 불신임을 통해 행정부를 견제할 수 있다.
- ③ 갑국의 의회 의원은 의원직을 사임하지 않아도 내각으로 임명될 수 있다.
- ④ (가)에 ‘행정부의 강력한 정책 추진 가능성’이 들어갈 수 있다.
- ⑤ (가)에 ‘정부 정책을 보조하는 법률안 제·개정 가능성’이 들어갈 수 없다.

## 2 (정치와 법)

## 사회탐구 영역

6. 우리나라 헌법의 기본 원리 A에 대한 설명으로 가장 적절한 것은?



- ① 상호주의 원칙에 따라 외국인의 지위를 보장하는 근거가 된다.
- ② 여성 및 연소자의 근로에 대해 특별한 보호를 하는 근거가 된다.
- ③ 대통령에게 조국의 평화 통일을 위해 노력할 의무를 부과하는 근거가 된다.
- ④ 국가가 국민의 자율적인 문화 활동을 보장하고 문화를 보호·지원하는 근거가 된다.
- ⑤ 일정한 요건을 갖춘 재외 국민에게 대통령 선거권을 인정하고 다양한 정치 참여 방법을 보장하는 근거가 된다.

7. 우리나라 헌법 기관 A~E에 대한 설명으로 옳은 것은? [3점]

- A는 행정부 내 최고 의사 결정 기관인 B의 의장이다.
- C는 B의 부의장인 D에 대한 해임 건의권을 가진다.
- E는 A 소속 기관으로 국가 전반을 감시하는 헌법 기관이다.

- ① A는 B에서 의결된 내용을 반드시 따라야 한다.
- ② B의 모든 구성원은 C의 구성원 지위를 동시에 가질 수 있다.
- ③ D는 A의 국법상 행위에 관한 문서에 부서한다.
- ④ E는 대통령의 각종 권한 행사에 대해 동의·승인권력을 가진다.
- ⑤ D는 E의 장(長)과 달리 탄핵 소추의 대상이 될 수 있다.

8. 정치 참여 집단 A~C에 대한 설명으로 옳은 것은? (단, A~C는 각각 정당, 시민 단체, 이익 집단 중 하나에 해당하는 집단임.)

△△회사가 운영하는 서버가 마비되면서 각종 서비스가 중단되었다. 이에 대해 택시 기사의 이윤 추구를 위해 구성된 A는 이번 화재로 택시 호출 앱이 작동하지 않아 영업상 피해를 입었다며 △△회사를 상대로 손해 배상을 청구하겠다고 밝혔다. 정권 획득을 목표로 하는 B는 △△회사 경영진을 대상으로 청문회를 열어 관리 부실 책임을 묻겠다고 밝혔다. 한편, 공익 실현을 위해 시민의 자발적 참여로 이루어진 C는 이번 사태와 관련하여 진상을 규명하라는 시위를 전개하였다.

- ① B는 시민의 여론을 수렴하여 법률안을 발의한다.
- ② C는 집단의 특수 이익을 우선적으로 추구한다.
- ③ A와 달리 B, C는 정치 사회화 기능을 수행한다.
- ④ C와 달리 A는 대의 민주주의의 한계를 보완한다.
- ⑤ A, C는 모두 공직 선거에서 유권자의 후보 선택에 필요한 정보를 제공한다.

9. 다음 자료에 대한 옳은 법적 판단만을 <보기>에서 있는 대로 고른 것은? [3점]

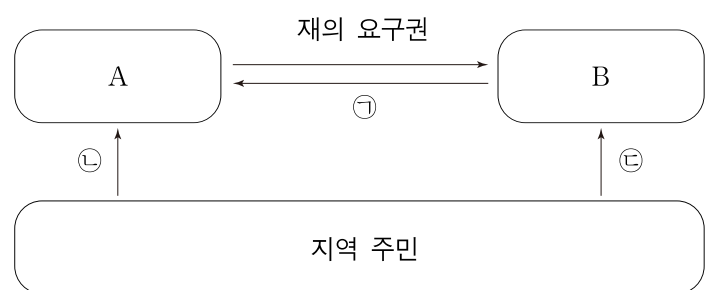
갑의 변호를 맡은 을은 검사의 후방 착석 요구로 인해, 갑의 뒤에 앉아 변호하게 되었다. 을은 이러한 요구 행위로 인해 자신의 변호권이 침해되었다며 A에 (가) 을/를 청구하였다. 이에 대해 A는 후방 착석 요구 행위로 인하여 갑이 을에게 적극적으로 조언과 상담을 요청할 것을 기대하기 어렵고, 수사 기관이 피의자에게 제시한 서류 등의 내용을 정확하게 파악하기 어려우므로, 을의 피의자 신문 참여권을 과도하게 제한한다고 판단하면서 후방 착석 요구 행위를 정당화할 그 외의 특별한 사정도 없으므로, 침해의 최소성 요건을 충족하지 못한다고 판단하였다. 또한 후방 착석 요구 행위로 얻어질 공익보다는 을의 피의자 신문 참여권 제한에 따른 불이익의 정도가 크므로 후방 착석 요구 행위가 헌법에 위배된다고 ㉠ 결정하였다.

<보 기>

- ㉠. A의 장(長)은 위헌적인 직무 집행을 이유로 탄핵 심판의 대상이 될 수 있다.
- ㉡. (가)는 법률에 정해진 기본권 구제 절차를 모두 거쳐야 청구할 수 있다.
- ㉢. A는 후방 착석 요구 행위가 법익의 균형성에 어긋나지 않는다고 판단하였다.
- ㉣. ㉠은 A의 재판관 5인의 찬성으로도 가능하다.

- ① ㉠, ㉡
- ② ㉡, ㉢
- ③ ㉢, ㉣
- ④ ㉠, ㉡, ㉣
- ⑤ ㉠, ㉢, ㉣

10. 다음 자료는 우리나라 지방 자치에서의 견제 방향 및 수단을 나타낸다. 이에 대한 설명으로 옳은 것은? (단, A, B는 각각 지방 의회, 지방 자치 단체의 장 중 하나임.) [3점]



\* 화살표의 방향은 견제 방향으로, 견제의 주체에서 대상으로 함.

- ① A는 규칙을 제정하는 지방 자치 단체의 의결 기관이다.
- ② B는 A에서 의결된 예산에 대해 예산 집행권을 가진다.
- ③ 기초 자치 단체 소속 B의 지역구 의원은 소선거구제로 선출된다.
- ④ ㉠에는 지방 자치 단체의 사무에 관한 감사·조사권이 들어갈 수 있다.
- ⑤ ㉡에는 ㉠과 달리 '주민 소환 제도'가 들어갈 수 있다.

11. 다음 자료에 대한 설명으로 옳은 것은? (단, (가), (나)는 각각 과실 책임의 원칙, 무과실 책임의 원칙 중 하나임.)

교사: 민법의 기본 원리를 적용하여 다음 사례에서 ○○기업의 책임 여부를 판단해보세요.

○○기업에 생산한 A 제품을 오랜 기간 사용한 소비자 중 많은 사람에게서 유사한 폐 질환이 발견되었다. ○○기업의 고의나 과실을 증명할 증거는 없지만, A 제품의 성분 중 폐 질환을 유발하는 물질이 있으며 이 제품을 장기간 이용할 경우 발병 확률이 크게 높아진다는 사실이 확인되었다. 이에 피해자들은 ○○기업에 폐 질환에 대한 손해배상을 청구하였다.

갑: 저는 (가)를 이유로 ○○기업의 책임이 있다고 생각합니다.  
을: 저는 (나)를 이유로 ○○기업의 책임이 없다고 생각합니다.

- ① 갑은 직접적인 고의나 과실이 없으면 책임이 없다고 볼 것이다.
- ② 을은 권리의 사회성과 공공성을 고려하여 책임 여부를 판단했을 것이다.
- ③ 갑에 비해 을은 경제적 약자의 보호를 중시하는 정도가 작을 것이다.
- ④ 을에 비해 갑은 계약에서의 자유를 추구하는 정도가 클 것이다.
- ⑤ (가)와 달리 (나)는 현대 민법에서 적용되지 않는다.

12. 다음 사례에 대한 옳은 법적 판단만을 <보기>에서 고른 것은? [3점]

갑은 을과 법률혼을 하였고 그 사이에서 병이 태어났다. 그러나 병이 태어난 후 을의 부정한 행위가 있었고, 이를 이유로 ㉠이혼하면서 병에 대한 양육권은 갑이 가지게 되었다. 이후 갑은 정과 법률혼을 하였으며 정은 병을 ㉡친양자로 입양하였다.

<보 기>

- ㉠. ㉠은 '협의상 이혼'과 '재판상 이혼'이 모두 가능하다.
- ㉡. ㉠ 이전 을이 유언 없이 사망하였다 가정한다면, 갑과 병은 모두 을의 재산을 상속받을 수 있다.
- ㉢. ㉠과 ㉡ 사이에서 정이 유언 없이 사망하였다 가정한다면, 갑과 병은 모두 정의 재산을 상속받을 수 없다.
- ㉣. ㉡ 이후 을이 유언 없이 사망하였다 가정한다면, 갑과 달리 병은 갑의 재산을 상속받을 수 있다.

- ① ㉠, ㉡    ② ㉠, ㉢    ③ ㉡, ㉣    ④ ㉠, ㉣    ⑤ ㉢, ㉣

13. 다음 사례에 대한 옳은 법적 판단만을 <보기>에서 고른 것은?

갑(30세)이 운영하는 애견 훈련소의 종업원 을(21세)은 병의 개를 훈련하던 도중 잠시 휴대전화로 게임을 하던 사이 병의 개가 행인 정을 물었다. 평소 강아지 공포증을 가지던 정은 생명의 위협을 느끼고 이를 피하고자 부득이하게 무의 집에 무단으로 침입하였다.

<보 기>

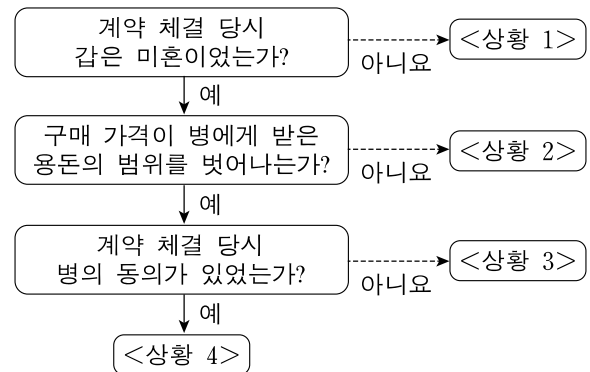
- ㉠. 갑은 정에게 채무 불이행 책임을 진다.
- ㉡. 을이 정에게 불법 행위 책임을 지는 경우, 갑은 을의 사용자로서 정에게 특수 불법 행위 책임을 지지 않는다.
- ㉢. 을은 병의 동물이 정에게 피해를 입힌 것을 이유로 정에게 특수 불법 행위 책임을 진다.
- ㉣. 정이 무의 집에 무단 침입한 것은 위법성이 조각되므로, 무에게 불법 행위 책임을 지지 않는다.

- ① ㉠, ㉡    ② ㉠, ㉢    ③ ㉡, ㉣    ④ ㉠, ㉣    ⑤ ㉢, ㉣

14. (가) 사례를 (나)에 적용했을 경우에 대한 법적 판단으로 옳지 않은 것은? [3점]

(가) 갑(18세)은 게임을 즐기고자 을(41세)에게 고사양 PC를 구매하는 계약을 체결하였다.

(나)

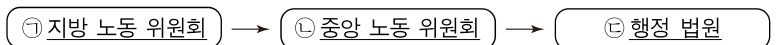


\* <상황 2>~<상황 4>에서 갑의 법정 대리인은 병이다.

- ① <상황 1>에서 고사양 PC 매매 계약은 확정적으로 유효하다.
- ② <상황 2>에서 갑은 미성년자임을 이유로 을과의 계약을 취소할 수 없다.
- ③ <상황 3>에서 을이 계약 체결 당시 갑이 미성년자임을 몰랐던 경우에도 을은 갑에게 계약의 의사 표시를 철회할 수 없다.
- ④ <상황 3>에서 갑이 을에게 위조된 병의 동의서를 제시한 경우 갑은 자신이 미성년자임을 이유로 을과의 계약을 취소할 수 없다.
- ⑤ <상황 4>에서 갑과 병은 모두 갑이 을과 체결한 계약을 취소할 수 없다.

15. 다음 사례에 대한 옳은 법적 판단만을 <보기>에서 고른 것은? [3점]

A 회사에 근무하는 갑은 휴게 시간을 활용하여 금연 구역에서 흡연을 하였다. 이러한 사실을 알게 된 사용자 을은 회사 내 금연 구역에서 흡연을 한 것은 위법한 행위라는 이유로 갑을 구두로 해고하였다. 이에 대해 갑은 변호사에게 구제 방안을 문의하였고, 변호사는 아래의 순서도를 보여주며 답변해 주었다.



<보 기>

- ㉠. 사용자가 노동조합 대표자와의 단체 교섭을 정당한 이유 없이 거부하는 경우 노동조합은 ㉠에 구제를 신청할 수 있다.
- ㉡. A 회사의 노동조합은 갑을 대신하여 ㉠에 구제를 신청할 수 있다.
- ㉢. ㉡이 갑의 구제 신청을 받아들인다면, 을은 ㉢에 중앙 노동 위원장을 피고로 하는 소를 청구할 수 있다.
- ㉣. ㉢에 재판을 청구하기 이전에 반드시 해고 무효 확인의 소를 거쳐야 한다.

- ① ㉠, ㉡    ② ㉠, ㉢    ③ ㉡, ㉣    ④ ㉠, ㉣    ⑤ ㉢, ㉣

# 4 (정치와 법)

# 사회탐구 영역

16. 밑줄 친 'A 원칙'에 대한 설명으로 가장 적절한 것은?

갑 : 식당 안에서 공병을 들고 피해자를 협박한 사실은 인정합니다. 다만 법정형이 너무 무겁다고 생각합니다.  
 변호사: 해당 법률에서 위험한 물건을 들고 협박했다는 이유로 살인죄와 유사한 정도의 형벌을 부과할 수 있도록 한 것은 A 원칙에 위배되어 위헌이라는 주장을 법정에서 해보겠습니다.

- ① 범죄와 형벌 사이에 적절한 균형이 유지되어야 한다는 원칙이다.
- ② 범죄와 형벌은 명확하게 규정되어 누구나 알 수 있어야 한다는 원칙이다.
- ③ 사회적으로 큰 비난을 받는 행위라도 관습법에 의해 처벌할 수 없다는 원칙이다.
- ④ 행위 후 법률을 제정하거나 개정해서 그 법으로 이전의 행위를 처벌해서는 안 된다는 원칙이다.
- ⑤ 어떤 사항에 대한 법규가 없을 때 비슷한 사항에 대하여 규정한 법률을 적용하는 것을 금지해야 한다는 원칙이다.

17. 다음 자료에 대한 법적 판단으로 옳은 것은? [3점]

야간에 편의점을 돌며 아르바이트생을 흉기로 협박해 금품을 갈취한 갑은 주변에 있던 을이 자신을 신고하는 것을 보고 흉기를 들고 달려 들었다. 이에 을은 생명의 위협을 느끼고 주변에 있던 병의 집에 무단으로 들어갔다. 이후 갑은 을의 신고를 통해 현행범으로 체포되었고, 구속 기소되었다. 기소 후 열린 ㉠ 국민 참여 재판에서 배심원 중 과반이 유죄 평결을 내렸으며, 평결 이후 재판부는 갑에게 징역 1년에 집행 유예 2년을 선고하였다. 반면, 을에게는 을의 행위가 범죄 성립 요건을 갖추지 않았다며 무죄를 선고하였으나, 병은 을의 행위가 유죄라고 주장하고 있다.

- ① ㉠은 민사 재판에서도 신청할 수 있다.
- ② ㉠에서 배심원의 평결은 법관의 판결을 구속한다.
- ③ 갑이 받은 선고에 따르면 일정 기간 선고의 실효 또는 취소됨이 없이 유예 기간을 경과하는 경우 면소된 것으로 간주된다.
- ④ 병이 1심 판결에 불복하더라도, 병은 법원에 직접 항소할 수 없다.
- ⑤ 갑이 범죄로 인해 형사 재판을 받는 경우, 피해를 받은 편의점은 갑에게 손해 배상을 청구할 수 없다.

18. 국제 관계를 바라보는 갑, 을의 관점에 대한 설명으로 옳은 것은?

갑: 인간은 기본적으로 이기적이고, 인간이 모여 만든 국가 역시 자국의 이익을 추구합니다. 따라서 국제 사회는 자국의 이익을 경쟁적으로 추구하는 무대에 불과하다고 생각합니다.  
 을: 인간은 이성을 가진 존재이므로, 이기적인 욕망을 제어하고 공동의 이익을 추구할 수 있습니다. 따라서 각국 간의 교류가 활발해지면 국가 간 협력이 가능할 것입니다.

- ① 갑의 관점은 계몽주의 사상을 배경으로 한다.
- ② 을의 관점은 국제 사회에서 국가들은 이기적 행위자이므로 국가 간 협력은 불가능하다고 본다.
- ③ 갑의 관점은 을의 관점과 달리 국제 사회에서 국가 간 힘의 균형 유지를 통해 분쟁을 최소화할 수 없다고 본다.
- ④ 을의 관점은 갑의 관점과 달리 집단 안보 체제를 구축하여 국제 사회에서의 분쟁을 최소화할 수 있다고 본다.
- ⑤ 갑과 을의 관점은 모두 국제 사회에 힘의 논리가 작용하고 있음을 경시한다는 비판을 받는다.

19. 국제 연합의 주요 기관 A~C에 대한 설명으로 옳은 것은?

- A는 국제 연합의 모든 회원국으로 구성되는 최고 의사 결정 기구이다.
- B는 15개 이사국으로 구성되며, 국제 평화에 대한 책임을 진다.
- C는 국가 간의 분쟁을 해결하는 국제적 사법 기관이다.

- ① A에서는 분담금에 따라 의결권을 회원국에 차등적으로 배분한다.
- ② B는 5개 상임 이사국의 찬성만으로 의결할 수 있다.
- ③ C에는 국가 이외에 국제기구도 제소할 수 있다.
- ④ C는 판결의 이행을 위해 적절한 조치를 취할 수 있다.
- ⑤ A, B는 모두 C의 재판관을 선출하는 권한을 가진다.

20. 다음 자료에 대한 분석 및 추론으로 옳은 것은? [3점]

갑국 의회는 단순 다수 대표제로 선출된 지역구 의원 6명과 정당 투표 득표율에 따라 결정된 비례 대표 의원 4명으로 구성된다. 비례 대표 의석은 각 정당의 정당 투표 득표율에 비례 대표 의석수를 곱하여 산출된 수의 정수(整數)만큼 의석을 각 정당에 먼저 배분하고, 잔여 의석은 소수점 이하 수가 큰 순서대로 각 정당에 1석씩 배분한다. 표는 최근 갑국 의회 의원 선거 결과를 나타낸다.

<지역구 의원 선거 결과> (단위: %)

구분	A당	B당	C당	D당	E당
지역구 1	40	25	15	15	5
지역구 2	30	50	15	5	0
지역구 3	40	25	10	5	20
지역구 4	20	40	5	15	20
지역구 5	25	0	15	5	55
지역구 6	45	25	10	10	10

<지역구 의원 선거 결과> (단위: %)

구분	A당	B당	C당	D당	E당
정당 득표율	38	25	20	10	7

갑국은 (가) 을/를 이유로 다음의 개편안을 검토하고 있다.

현재 총의석수를 유지하면서, 모든 의원을 비례 대표 의원으로 현행 비례 대표 의석 배분 방식에 따라 선출한다.

\* 선거 제도 개편 방안 검토 시 위의 표를 기준으로 하여 판단함.  
 \*\* 유권자 1인은 지역구 후보자에게 1표, 정당 투표에 1표를 행사하고 투표율은 100%이며, 무효표는 없음.  
 \*\*\* 선거 제도의 비례성은 각 정당의 정당 투표 득표율과 의회 의석을 간 차이의 절댓값의 총합이 작을수록 높음.

- ① (가)에는 '사표의 다수 발생'이 들어갈 수 없다.
- ② 현행에서 E당은 의석을 확보하지 못한다.
- ③ 개편안에서 의석을 획득하지 못하는 정당이 존재한다.
- ④ C당과 D당은 현행보다 개편안이 의석 확보가 유리하다.
- ⑤ 현행이 개편안보다 선거 제도의 비례성이 높다.

\* 확인 사항

- 답안지의 해당란에 필요한 내용을 정확히 기입(표기)했는지 확인 하시오.