

제 2 교시

수학 영역

출수형

5지선다형

1. $\left(\frac{4}{2^{\sqrt{2}}}\right)^{2+\sqrt{2}}$ 의 값은? [2점]

- ① $\frac{1}{4}$ ② $\frac{1}{2}$ ③ 1 ④ 2 ⑤ 4

$$\left(\frac{2^2}{2^{\sqrt{2}}}\right)^{2+\sqrt{2}} = \left(2^{2-\sqrt{2}}\right)^{2+\sqrt{2}} = 2^{4-2} = 4$$

2. $\lim_{x \rightarrow \infty} \frac{\sqrt{x^2-2}+3x}{x+5}$ 의 값은? [2점]

- ① 1 ② 2 ③ 3 ④ 4 ⑤ 5

$$\frac{1+3}{1} = 4$$

$$\lim_{x \rightarrow \infty} \frac{\sqrt{x^2-2}+3x}{x+5} = \lim_{x \rightarrow \infty} \frac{\sqrt{1-\frac{2}{x^2}}+3}{1+\frac{5}{x}} = \frac{\sqrt{1-0}+3}{1+0} = 4$$

3. 공비가 양수인 등비수열 $\{a_n\}$ 이

$$a_2 + a_4 = 30, \quad a_4 + a_6 = \frac{15}{2}$$

를 만족시킬 때, a_1 의 값은? [3점]

- ① 48 ② 56 ③ 64 ④ 72 ⑤ 80

$$\begin{aligned} \bullet a_2 + a_4 &= 30 = ar + ar^3 \\ \bullet a_4 + a_6 &= \frac{15}{2} = r^2(ar + ar^3) = 3ar^2 \\ r^2 &= \frac{1}{4} \Rightarrow r = \frac{1}{2} (\because r > 0) \end{aligned}$$

$$\text{더위} \quad \frac{5}{3}a = 30 \Leftrightarrow a = 48$$

4. 다항함수 $f(x)$ 에 대하여 함수 $g(x)$ 를

$$g(x) = x^2 f(x)$$

라 하자. $f(2) = 1, f'(2) = 3$ 일 때, $g'(2)$ 의 값은? [3점]

- ① 12 ② 14 ③ 16 ④ 18 ⑤ 20

곱의 미분법

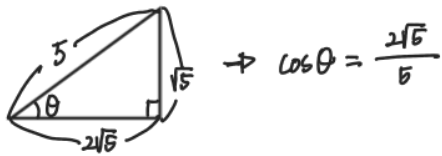
$$\begin{aligned} g(x) &= x^2 f(x) \Rightarrow g'(x) = 2x f(x) + x^2 f'(x) \\ g'(2) &= 4f(2) + 4f'(2) \\ &= 4 \cdot 1 + 4 \cdot 3 \\ &= 4 + 12 = \underline{16} \end{aligned}$$

5. $\tan \theta < 0$ 이고 $\cos\left(\frac{\pi}{2} + \theta\right) = \frac{\sqrt{5}}{5}$ 일 때, $\cos \theta$ 의 값은? [3점]

- ① $-\frac{2\sqrt{5}}{5}$ ② $-\frac{\sqrt{5}}{5}$ ③ 0
 ④ $\frac{\sqrt{5}}{5}$ ⑤ $\frac{2\sqrt{5}}{5}$

$$\cos\left(\frac{\pi}{2} + \theta\right) = \frac{\sqrt{5}}{5} \Leftrightarrow \sin \theta = -\frac{\sqrt{5}}{5}$$

$\Rightarrow \tan \theta < 0, \sin \theta < 0, \cos \theta > 0 \Rightarrow \theta$ 는 제 4사분면



6. 함수 $f(x) = 2x^3 - 9x^2 + ax + 5$ 는 $x = 1$ 에서 극대이고, $x = b$ 에서 극소이다. $a + b$ 의 값은? (단, a, b 는 상수이다.) [3점]

- ① 12 ② 14 ③ 16 ④ 18 ⑤ 20

$$f'(x) = 6x^2 - 18x + a$$

$$\Rightarrow f'(1) = 6 - 18 + a = 0 \quad \underline{a=12}$$

$$f'(x) = 6x^2 - 18x + 12$$

$$= 6(x-1)(x-2) \quad \underline{b=2}$$

$$\therefore a+b = 14$$

7. 모든 항이 양수이고 첫째항과 공차가 같은 등차수열 $\{a_n\}$ 이

$$\sum_{k=1}^{15} \frac{1}{\sqrt{a_k} + \sqrt{a_{k+1}}} = 2$$

를 만족시킬 때, a_4 의 값은? [3점]

- ① 6 ② 7 ③ 8 ④ 9 ⑤ 10

첫째항 : $a \Rightarrow a_n = a + (n-1)a = an$
 공차 : a

$$\begin{aligned} \sum_{k=1}^{15} \frac{1}{\sqrt{a_k} + \sqrt{a_{k+1}}} &= \sum_{k=1}^{15} \frac{(\sqrt{a_{k+1}} - \sqrt{a_k})}{(\sqrt{a_{k+1}} + \sqrt{a_k})(\sqrt{a_{k+1}} - \sqrt{a_k})} \\ &= \sum_{k=1}^{15} \frac{\sqrt{a_{k+1}} - \sqrt{a_k}}{a_{k+1} - a_k} \\ &= \sum_{k=1}^{15} \frac{\sqrt{a_{k+1}} - \sqrt{a_k}}{a} \\ &= \frac{\sqrt{a_2} - \sqrt{a_1} + \sqrt{a_3} - \sqrt{a_2} + \dots + \sqrt{a_{16}} - \sqrt{a_{15}}}{a} \\ &= \frac{-\sqrt{a_1} + \sqrt{a_{16}}}{a} = \frac{-\sqrt{a} + 4\sqrt{a}}{a} = \frac{3}{\sqrt{a}} = 2 \end{aligned}$$

$$\therefore a = \frac{9}{4}$$

$$\Rightarrow a_4 = 4 \cdot \frac{9}{4} = 9$$

8. 점 (0, 4)에서 곡선 $y = x^3 - x + 2$ 에 그은 접선의 x 절편은? [3점]

- ① $-\frac{1}{2}$ ② -1 ③ $-\frac{3}{2}$ ④ -2 ⑤ $-\frac{5}{2}$

($t, t^3 - t + 2$) 위에서 점선

$$\Rightarrow y = (3t^2 - 1)(x - t) + t^3 - t + 2$$

점선이 (0, 4)를 지남 \Rightarrow 대입

$$4 = -3t^3 + t + t^3 - t + 2 \Leftrightarrow t^3 = -1 \quad \therefore t = -1$$

(점 (0, 4)에서 점선) $\Rightarrow y = 2(x+1) + 2$

$$x \text{ 절편 } \Rightarrow 0 = 2x + 4 \Rightarrow x = -2$$

9. 함수

$$f(x) = a - \sqrt{3} \tan 2x$$

가 닫힌구간 $[-\frac{\pi}{6}, b]$ 에서 최댓값 7, 최솟값 3을 가질 때, $a \times b$ 의 값은? (단, a, b 는 상수이다.) [4점]

- ① $\frac{\pi}{2}$ ② $\frac{5\pi}{12}$ ③ $\frac{\pi}{3}$ ④ $\frac{\pi}{4}$ ⑤ $\frac{\pi}{6}$

* 최대, 최소 존재 $-\frac{\pi}{6} < b < \frac{\pi}{4}$

* 감소함수 $\therefore -\frac{\pi}{6}$ 에서 최대, $\frac{\pi}{4}$ 에서 최소

$$x = -\frac{\pi}{6} \text{ 일 때, } f(-\frac{\pi}{6}) = a - \sqrt{3} \tan(-\frac{\pi}{3}) = a + 3 = 7$$

$$\therefore a = 4$$

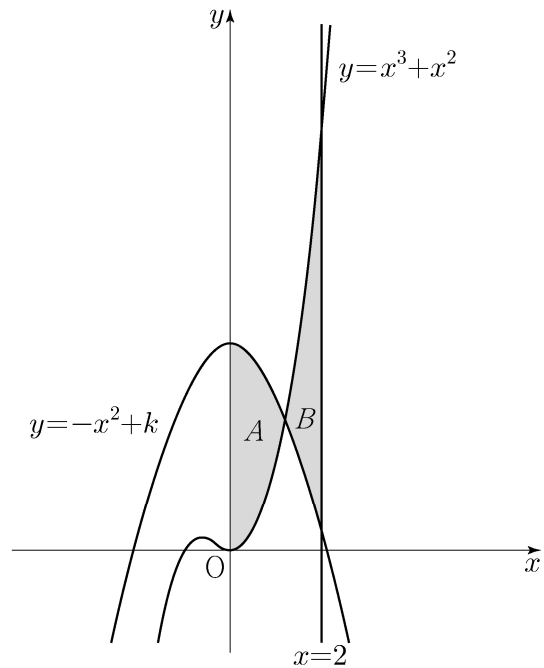
$$x = b \text{ 일 때, } f(b) = 4 - \sqrt{3} \tan(2b) = 3$$

$$\Rightarrow \tan(2b) = \frac{1}{\sqrt{3}} \quad \therefore b = \frac{\pi}{12}$$

$$\therefore a \times b = \frac{\pi}{3}$$

10. 두 곡선 $y = x^3 + x^2, y = -x^2 + k$ 와 y 축으로 둘러싸인 부분의 넓이를 A , 두 곡선 $y = x^3 + x^2, y = -x^2 + k$ 와 직선 $x = 2$ 로 둘러싸인 부분의 넓이를 B 라 하자. $A = B$ 일 때, 상수 k 의 값은? (단, $4 < k < 5$) [4점]

- ① $\frac{25}{6}$ ② $\frac{13}{3}$ ③ $\frac{9}{2}$ ④ $\frac{14}{3}$ ⑤ $\frac{29}{6}$



$$\int_0^2 \{ (x^3 + x^2) - (-x^2 + k) \} dx = -A + B = 0$$

$$\left[\frac{1}{4}x^4 + \frac{2}{3}x^3 - kx \right]_0^2 = 4 + \frac{16}{3} - 2k = 0$$

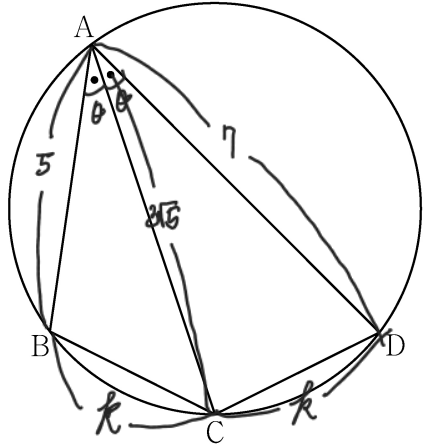
$$\Rightarrow 2k = \frac{28}{3}$$

$$\therefore k = \frac{14}{3}$$

11. 그림과 같이 사각형 ABCD가 한 원에 내접하고

$$\overline{AB} = 5, \overline{AC} = 3\sqrt{5}, \overline{AD} = 7, \angle BAC = \angle CAD$$

일 때, 이 원의 반지름의 길이는? [4점]



- ① $\frac{5\sqrt{2}}{2}$
- ② $\frac{8\sqrt{5}}{5}$
- ③ $\frac{5\sqrt{5}}{3}$
- ④ $\frac{8\sqrt{2}}{3}$
- ⑤ $\frac{9\sqrt{3}}{4}$

$$\cos\theta = \frac{25 + 45 - k^2}{2 \cdot 5 \cdot 3\sqrt{5}} = \frac{45 + 49 - k^2}{2 \cdot 3\sqrt{5} \cdot 7} \quad \therefore k = \sqrt{10}$$

$$k \text{ 값 대입} \Rightarrow \cos\theta = \frac{60}{30\sqrt{5}} = \frac{2\sqrt{5}}{5}$$

$$\sin\theta = \frac{\sqrt{5}}{5}$$

원의 반지름을 R이라 하면,

$$2R = \frac{\frac{\sqrt{10}}{1}}{\frac{\sqrt{5}}{5}} = 5\sqrt{2} \quad \therefore R = \frac{5\sqrt{2}}{2}$$

12. 실수 전체의 집합에서 연속인 함수 $f(x)$ 가 다음 조건을 만족시킨다.

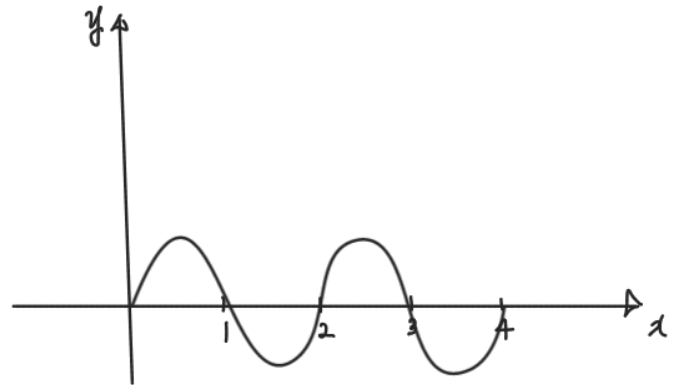
$n-1 \leq x < n$ 일 때, $|f(x)| = |6(x-n+1)(x-n)|$ 이다.
(단, n 은 자연수이다.)

열린구간 $(0, 4)$ 에서 정의된 함수

$$g(x) = \int_0^x f(t) dt - \int_x^4 f(t) dt$$

가 $x=2$ 에서 최솟값 0을 가질 때, $\int_{\frac{1}{2}}^4 f(x) dx$ 의 값은? [4점]

- ① $-\frac{3}{2}$
- ② $-\frac{1}{2}$
- ③ $\frac{1}{2}$
- ④ $\frac{3}{2}$
- ⑤ $\frac{5}{2}$



$$\int_{\frac{1}{2}}^4 f(x) dx = - \int_0^{\frac{1}{2}} f(x) dx$$

이차함수 범위 공학

$$\int_0^1 f(x) dx = \frac{6}{6} (1)^3 = 1 \Rightarrow \int_0^{\frac{1}{2}} f(x) dx = \frac{1}{2}$$

$\therefore -\frac{1}{2}$

13. 자연수 $m(m \geq 2)$ 에 대하여 m^2 의 n 제곱근 중에서 정수가 존재하도록 하는 2 이상의 자연수 n 의 개수를 $f(m)$ 이라 할 때,

$\sum_{m=2}^9 f(m)$ 의 값은? [4점]

- ① 37 ② 42 ③ 47 ④ 52 ⑤ 57

- i) $m=2$ $2^2 = 2^n \rightarrow n=2, 4, 6, 12$ $\therefore f(2)=5$
- ii) $m=3$ $3^2 = 2^n \rightarrow n=2, 3, 4, 6, 12$ $\therefore f(3)=5$
- iii) $m=4$ $2^4 = 2^n \rightarrow n=2, 3, 4, 6, 8, 12, 24$ $\therefore f(4)=11$
- iv) $m=5$ $5^2 = 2^n \rightarrow n=2, 3, 4, 6, 12$ $\therefore f(5)=5$
- v) $m=6$ $6^2 = 2^n \rightarrow n=2, 3, 4, 6, 12$ $\therefore f(6)=5$
- vi) $m=7$ $7^2 = 2^n \rightarrow n=2, 3, 4, 6, 12$ $\therefore f(7)=5$
- vii) $m=8$ $2^6 = 2^n \rightarrow n=2, 3, 4, 6, 9, 12, 18, 36$ $\therefore f(8)=8$
- viii) $m=9$ $3^2 = 2^n \rightarrow n=2, 3, 4, 6, 8, 12, 24$ $\therefore f(9)=11$

$$\sum_{m=2}^9 f(m) = 5+5+11+5+5+5+8+11 = 49$$

14. 다항함수 $f(x)$ 에 대하여 함수 $g(x)$ 를 다음과 같이 정의한다.

$$g(x) = \begin{cases} x & (x < -1 \text{ 또는 } x > 1) \\ f(x) & (-1 \leq x \leq 1) \end{cases}$$

함수 $h(x) = \lim_{t \rightarrow 0^+} g(x+t) \times \lim_{t \rightarrow 2^+} g(x+t)$ 에 대하여

<보기>에서 옳은 것만을 있는 대로 고른 것은? [4점]

<보 기>

- ㄱ. $h(1) = 3$
- ㄴ. 함수 $h(x)$ 는 실수 전체의 집합에서 연속이다.
- ㄷ. 함수 $g(x)$ 가 닫힌구간 $[-1, 1]$ 에서 감소하고 $g(-1) = -2$ 이면 함수 $h(x)$ 는 실수 전체의 집합에서 최솟값을 갖는다.

- ① ㄱ ② ㄴ ③ ㄱ, ㄴ ④ ㄱ, ㄷ ⑤ ㄴ, ㄷ

㉠ $h(x) = \lim_{t \rightarrow 0^+} g(x+t) \times \lim_{t \rightarrow 2^+} g(x+t) = 1 \cdot 3 = 3$

✗. (반례) $g(x)$

$\lim_{x \rightarrow 1^-} h(x) = 2 \cdot 3 = 6$

$\lim_{x \rightarrow 1^+} h(x) = 1 \cdot 3 = 3$

$h(1) = 3$

→ 불연속

✗ $g(x)$

$h(x)$

→ ㉠ ✗

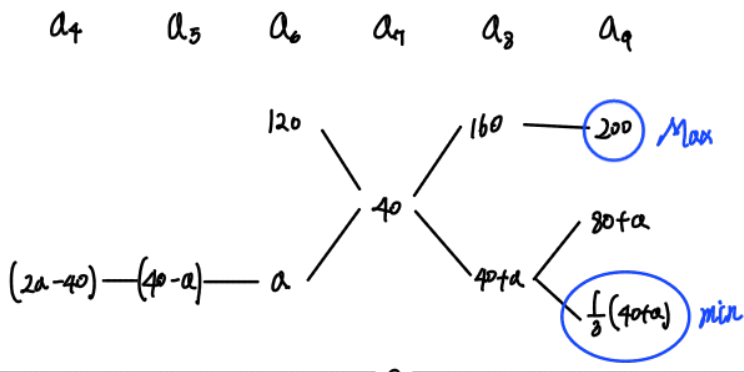
15. 모든 항이 자연수이고 다음 조건을 만족시키는 모든 수열 $\{a_n\}$ 에 대하여 a_9 의 최댓값과 최솟값을 각각 M, m 이라 할 때, $M+m$ 의 값은? [4점]

(가) $a_7 = 40$
 (나) 모든 자연수 n 에 대하여

$$a_{n+2} = \begin{cases} a_{n+1} + a_n & (a_{n+1} \text{이 } 3 \text{의 배수가 아닌 경우}) \\ \frac{1}{3}a_{n+1} & (a_{n+1} \text{이 } 3 \text{의 배수인 경우}) \end{cases}$$

이다.

- ① 216 ② 218 ③ 220 ④ 222 ⑤ 224



$40+a \Rightarrow 3$ 의 배수 $a = 3n-1$ (또 자연수) ... ①
 $40-a \Rightarrow$ 자연수 n 은 1이하의 자연수 ... ②
 $2a-40 = 6n-42$ (2의 배수) $\Rightarrow 3a_5 = a_4$... ②

3의 배수 $2a-40 = 120-3a$ $\therefore a = 32$
 $\Rightarrow \min = \frac{1}{3}(12) = 24$

$\therefore M+m = 224$

단답형

16. 방정식

$$\log_2(3x+2) = 2 + \log_2(x-2)$$

를 만족시키는 실수 x 의 값을 구하시오. [3점]

10

$$\log_2(3x+2) = \log_2(4x-8)$$

$$3x+2 = 4x-8$$

$$x = 10$$

17. 함수 $f(x)$ 에 대하여 $f'(x) = 4x^3 - 2x$ 이고 $f(0) = 3$ 일 때, $f(2)$ 의 값을 구하시오. [3점]

15

$$f(x) = x^4 - x^2 + C \Rightarrow f(0) = C = 3$$

$$f(x) = x^4 - x^2 + 3 \Rightarrow f(2) = 16 - 4 + 3 = 15$$

18. 두 수열 $\{a_n\}, \{b_n\}$ 에 대하여

$$\sum_{k=1}^5 (3a_k + 5) = 55, \quad \sum_{k=1}^5 (a_k + b_k) = 32 \quad (22)$$

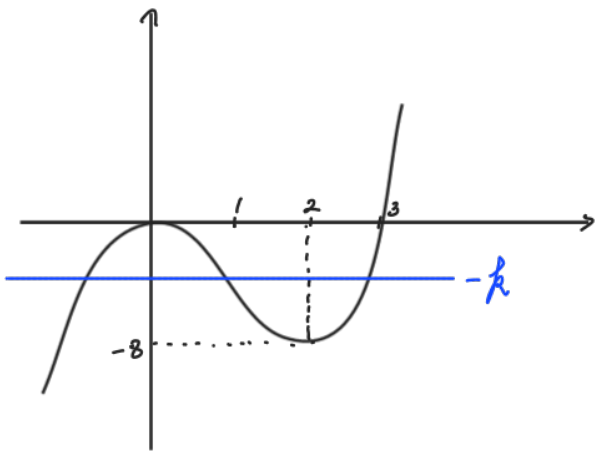
일 때, $\sum_{k=1}^5 b_k$ 의 값을 구하시오. [3점]

$$\sum_{k=1}^5 (3a_k + 5) = 3 \sum_{k=1}^5 a_k + 25 = 55 \quad \therefore \sum_{k=1}^5 a_k = 10$$

$$\sum_{k=1}^5 (a_k + b_k) = \sum_{k=1}^5 a_k + \sum_{k=1}^5 b_k = 32 \quad \therefore \sum_{k=1}^5 b_k = 22$$

19. 방정식 $2x^3 - 6x^2 + k = 0$ 의 서로 다른 양의 실근의 개수가 2가 되도록 하는 정수 k 의 개수를 구하시오. [3점] (7)

$$f(x) = 2x^3 - 6x^2 = 2x^2(x-3) \rightarrow f(2) = -8$$



방정식 $f(x) = -k$ 두개 같은 (같은 양수)

$$-8 < -k < 0 \Leftrightarrow 0 < k < 8$$

$$\therefore k = 1, 2, \dots, 7$$

(7개)

20. 수직선 위를 움직이는 점 P의 시각 $t(t \geq 0)$ 에서의 속도 $v(t)$ 와 가속도 $a(t)$ 가 다음 조건을 만족시킨다. (17)

(가) $0 \leq t \leq 2$ 일 때, $v(t) = 2t^3 - 8t$ 이다.

(나) $t \geq 2$ 일 때, $a(t) = 6t + 4$ 이다.

시각 $t=0$ 에서 $t=3$ 까지 점 P가 움직인 거리를 구하시오. [4점]

(나) $t=2$ 일 때, $v(t) = 3t^2 + 4t + C$

(가)에 $v(2)=0$ 이므로 $v(2) = 12 + 8 + C = 0 \Rightarrow C = -20$

$$v(t) = \begin{cases} 2t^3 - 8t & (0 \leq t < 2) \\ 3t^2 + 4t - 20 & (t \geq 2) \end{cases}$$

점 P가 움직인 거리

$$\int_0^2 |2t^3 - 8t| dt + \int_2^3 |3t^2 + 4t - 20| dt$$

$$= - \left[\frac{1}{2}t^4 - 4t^2 \right]_0^2 + \left[t^3 + 2t^2 - 20t \right]_2^3$$

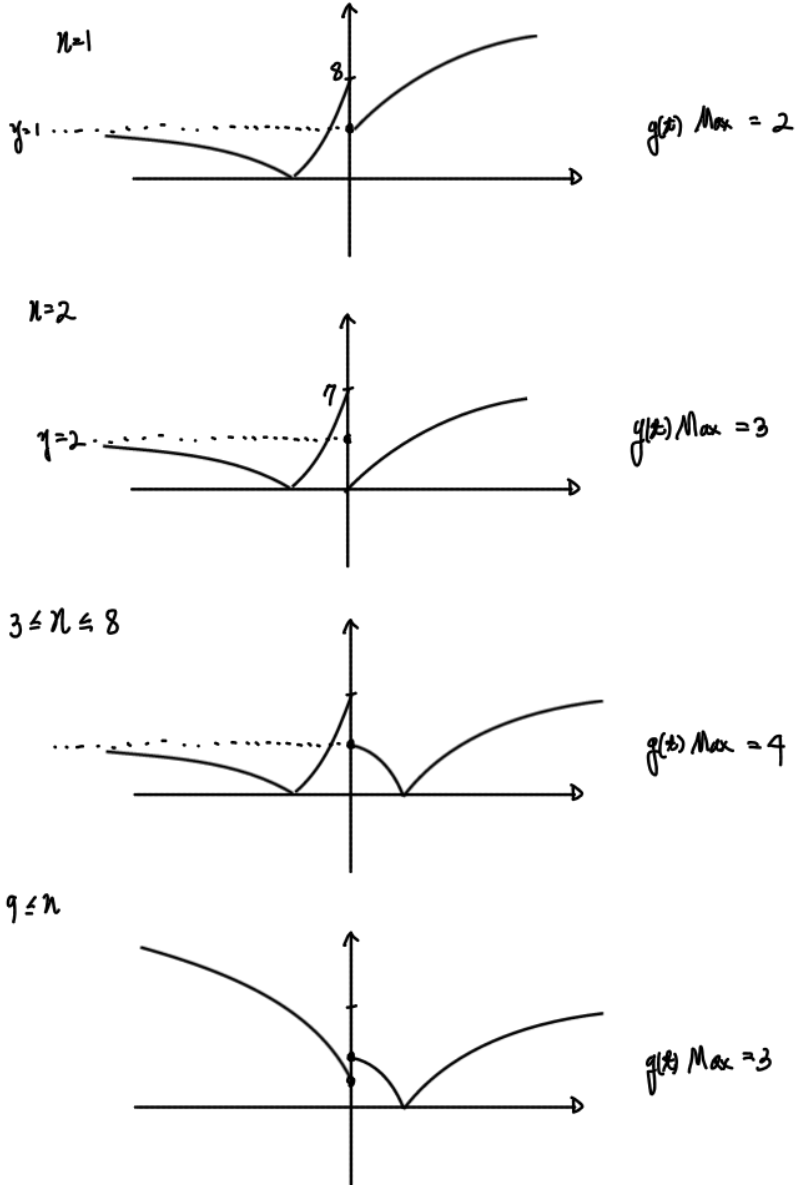
$$= -(-8) + 9 = 17$$

21. 자연수 n 에 대하여 함수 $f(x)$ 를

33

$$f(x) = \begin{cases} |3^{x+2} - n| & (x < 0) \\ |\log_2(x+4) - n| & (x \geq 0) \end{cases}$$

이라 하자. 실수 t 에 대하여 x 에 대한 방정식 $f(x) = t$ 의 서로 다른 실근의 개수를 $g(t)$ 라 할 때, 함수 $g(t)$ 의 최댓값이 4가 되도록 하는 모든 자연수 n 의 값의 합을 구하시오. [4점]



$\therefore 3+4+5+6+7+8 = 33$

22. 최고차항의 계수가 1인 삼차함수 $f(x)$ 와 실수 전체의 집합에서 연속인 함수 $g(x)$ 가 다음 조건을 만족시킬 때, $f(4)$ 의 값을 구하시오. [4점]

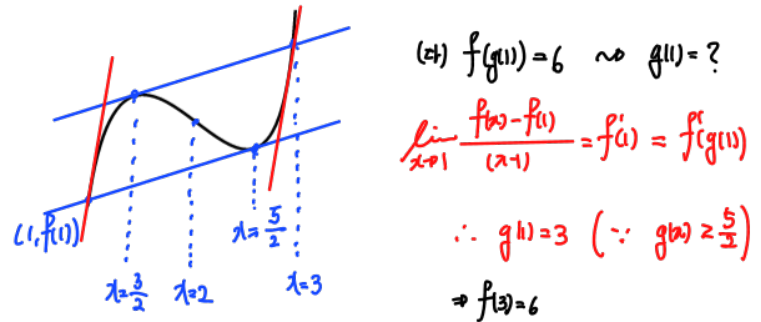
13

- (가) 모든 실수 x 에 대하여 $f(x) = f(1) + (x-1)f'(g(x))$ 이다.
- (나) 함수 $g(x)$ 의 최솟값은 $\frac{5}{2}$ 이다.
- (다) $f(0) = -3, f(g(1)) = 6$

$f(x) = x^3 + ax^2 + bx - 3$

(가) $f(x) - f(1) = (x-1)f'(g(x)) \Rightarrow \frac{f(x) - f(1)}{x-1} = f'(g(x)) \quad (x \neq 1)$

(나) $g(x)$ 최솟값 $\frac{5}{2}$



$3 \times \text{변곡점} = -a \quad \therefore a = -6$

$f(3) = 6$ 대입 $27 - 54 + 3b - 3 = 6 \quad \therefore b = 12$

$f(x) = x^3 - 6x^2 + 12x - 3 \Rightarrow f(4) = 64 - 96 + 48 - 3 = 13$

- * 확인 사항
- 답안지의 해당란에 필요한 내용을 정확히 기입(표기)했는지 확인하시오.
- 이어서, 「선택과목(확률과 통계)」 문제가 제시되오니, 자신이 선택한 과목인지 확인하시오.

제 2 교시

수학 영역(확률과 통계)

홀수형

5지선다형

23. 다항식 $(x^3+3)^5$ 의 전개식에서 x^9 의 계수는? [2점]

- ① 30
- ② 60
- ③ 90
- ④ 120
- ⑤ 150

$${}^5C_3 \cdot (x^3)^3 \cdot (3)^2 = 90x^9$$

24. 숫자 1, 2, 3, 4, 5 중에서 중복을 허락하여 4개를 택해 일렬로 나열하여 만들 수 있는 네 자리의 자연수 중 4000 이상인 홀수의 개수는? [3점]

- ① 125
- ② 150
- ③ 175
- ④ 200
- ⑤ 225

천의 자리 \Rightarrow 4, 5

백의 자리 \Rightarrow 1, 3, 5

십, 백의 자리 \Rightarrow 1, 2, 3, 4, 5

$$2 \cdot 5 \cdot 5 \cdot 3 = 150$$

25. 흰색 마스크 5개, 검은색 마스크 9개가 들어 있는 상자가 있다. 이 상자에서 임의로 3개의 마스크를 동시에 꺼낼 때, 꺼낸 3개의 마스크 중에서 적어도 한 개가 흰색 마스크일 확률은? [3점]

- ① $\frac{8}{13}$ ② $\frac{17}{26}$ ③ $\frac{9}{13}$ ④ $\frac{19}{26}$ ⑤ $\frac{10}{13}$

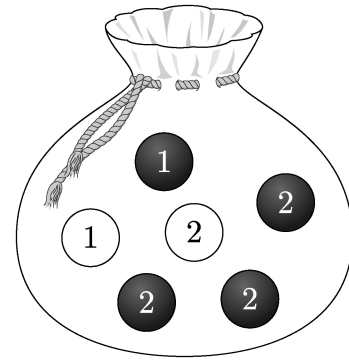
여사건

$1 - (\text{흰색 마스크} \times \text{확률})$

$= 1 - \frac{{}^9C_3}{{}^{14}C_3} = 1 - \frac{3}{13} = \frac{10}{13}$

26. 주머니에 1이 적힌 흰 공 1개, 2가 적힌 흰 공 1개, 1이 적힌 검은 공 1개, 2가 적힌 검은 공 3개가 들어 있다. 이 주머니에서 임의로 3개의 공을 동시에 꺼내는 시행을 한다. 이 시행에서 꺼낸 3개의 공 중에서 흰 공이 1개이고 검은 공이 2개인 사건을 A, 꺼낸 3개의 공에 적혀 있는 수를 모두 곱한 값이 8인 사건을 B라 할 때, $P(A \cup B)$ 의 값은? [3점]

- ① $\frac{11}{20}$ ② $\frac{3}{5}$ ③ $\frac{13}{20}$ ④ $\frac{7}{10}$ ⑤ $\frac{3}{4}$



$P(A) = \frac{{}^2C_1 \cdot {}^4C_2}{{}^6C_3} = \frac{12}{20}$

$P(B) \rightarrow$ 2가 적힌 공 3개 뽑기

$P(B) = \frac{{}^3C_3}{{}^6C_3} = \frac{1}{20}$

$P(A \cap B) \rightarrow$ 흰공 2개, 검은공 1개 뽑기

$P(A \cap B) = \frac{{}^3C_2}{{}^6C_3} = \frac{3}{20}$

$P(A \cup B) = P(A) + P(B) - P(A \cap B) = \frac{12+1-3}{20} = \frac{10}{20} = \frac{1}{2}$

27. 어느 회사에서 생산하는 샴푸 1개의 용량은 정규분포 $N(m, \sigma^2)$ 을 따른다고 한다. 이 회사에서 생산하는 샴푸 중에서 16개를 임의추출하여 얻은 표본평균을 이용하여 구한 m 에 대한 신뢰도 95%의 신뢰구간이 $746.1 \leq m \leq 755.9$ 이다. 이 회사에서 생산하는 샴푸 중에서 n 개를 임의추출하여 얻은 표본평균을 이용하여 구하는 m 에 대한 신뢰도 99%의 신뢰구간이 $a \leq m \leq b$ 일 때, $b-a$ 의 값이 6 이하가 되기 위한 자연수 n 의 최솟값은? (단, 용량의 단위는 mL이고, Z 가 표준정규분포를 따르는 확률변수일 때, $P(|Z| \leq 1.96) = 0.95$, $P(|Z| \leq 2.58) = 0.99$ 로 계산한다.) [3점]

- ① 70 ② 74 ③ 78 ④ 82 ⑤ 86

표본 16일 때, 표본 평균 \bar{x}_1

$$\bar{x}_1 - 1.96 \cdot \frac{\sigma}{\sqrt{16}} \leq m \leq \bar{x}_1 + 1.96 \cdot \frac{\sigma}{\sqrt{16}}$$

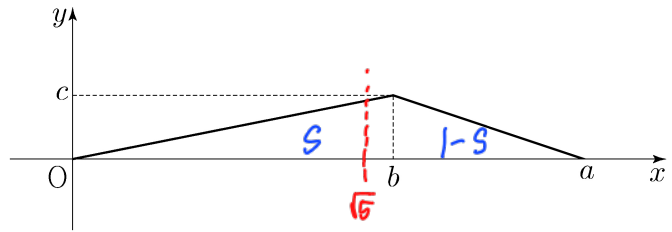
신뢰구간 $755.9 - 746.1 = 9.8 = 1.96 \sigma \quad \therefore \sigma = 10$

표본 n 일 때, 표본 평균 \bar{x}_2

$$\bar{x}_2 - 2.58 \cdot \frac{10}{\sqrt{n}} \leq m \leq \bar{x}_2 + 2.58 \cdot \frac{10}{\sqrt{n}}$$

$$b - a = \frac{51.6}{\sqrt{n}} \leq 6 \Rightarrow \sqrt{n} \geq 8.6 \Rightarrow n \geq 73.96$$

28. 연속확률변수 X 가 갖는 값의 범위는 $0 \leq X \leq a$ 이고, X 의 확률밀도함수의 그래프가 그림과 같다.



$P(X \leq b) - P(X \geq b) = \frac{1}{4}$, $P(X \leq \sqrt{5}) = \frac{1}{2}$ 일 때,

$a+b+c$ 의 값은? (단, a, b, c 는 상수이다.) [4점]

- ① $\frac{11}{2}$ ② 6 ③ $\frac{13}{2}$ ④ 7 ⑤ $\frac{15}{2}$

$$P(X \leq b) - P(X \geq b) = S - (1-S) = \frac{1}{4} \Rightarrow S = \frac{5}{8}$$

$$\Rightarrow \frac{1}{2} \cdot \sqrt{5} \cdot \frac{c}{b\sqrt{5}} = \frac{1}{2} \Rightarrow \frac{c}{b} = \frac{1}{5} \Leftrightarrow 5c = b$$

$$S = \frac{1}{2}bc = \frac{5}{2}c^2 = \frac{5}{8}$$

$$c = \frac{1}{2}, b = \frac{5}{2}$$

$$\frac{1}{2}ac = \frac{1}{4}a = 1$$

$$a = 4$$

$$\therefore a+b+c = 4 + \frac{5}{2} + \frac{1}{2} = 7$$

단답형

49

29. 앞면에는 1부터 6까지의 자연수가 하나씩 적혀 있고 뒷면에는 모두 0이 하나씩 적혀 있는 6장의 카드가 있다. 이 6장의 카드가 그림과 같이 6 이하의 자연수 k 에 대하여 k 번째 자리에 자연수 k 가 보이도록 놓여 있다.



이 6장의 카드와 한 개의 주사위를 사용하여 다음 시행을 한다.

주사위를 한 번 던져 나온 눈의 수가 k 이면 k 번째 자리에 놓여 있는 카드를 한 번 뒤집어 제자리에 놓는다.

위의 시행을 3번 반복한 후 6장의 카드에 보이는 모든 수의 합이 짝수일 때, 주사위의 1의 눈이 한 번만 나왔을 확률은 $\frac{q}{p}$ 이다. $p+q$ 의 값을 구하시오. (단, p 와 q 는 서로소인 자연수이다.) [4점]

등위 항의 적분 활용

i) 홀 2번 $\left. \begin{aligned} \left(\frac{1}{2}\right)^3 &= \frac{1}{8} \\ \Rightarrow \frac{1}{8} + \frac{3}{8} &= \frac{1}{2} \end{aligned} \right\}$

ii) 홀 1번, 짝 2번 $3 \times \left(\frac{1}{6}\right)^3 = \frac{3}{8}$

위에서 각각 한번만 나왔을 확률

i) 1, 홀 2번 $3 \cdot \left(\frac{1}{6}\right) \cdot \left(\frac{2}{6}\right)^2 = \frac{1}{18}$

ii) 1, 짝 2번 $3 \cdot \left(\frac{1}{6}\right) \cdot \left(\frac{1}{2}\right)^2 = \frac{1}{8}$

$\Rightarrow \frac{\frac{1}{18} + \frac{1}{8}}{\frac{1}{2}} = \frac{13}{26}$

$\Rightarrow \frac{\frac{13}{18} + \frac{1}{8}}{\frac{1}{2}} = \frac{13}{26}$ $p+q=49$

30. 집합 $X = \{x \mid x \text{는 } 10 \text{ 이하의 자연수}\}$ 에 대하여 다음 조건을 만족시키는 함수 $f: X \rightarrow X$ 의 개수를 구하시오. [4점] 100

- (가) 9 이하의 모든 자연수 x 에 대하여 $f(x) \leq f(x+1)$ 이다.
- (나) $1 \leq x \leq 5$ 일 때 $f(x) \leq x$ 이고, $6 \leq x \leq 10$ 일 때 $f(x) \geq x$ 이다.
- (다) $f(6) = f(5) + 6$

조건 (나)를 통해 $f(1) \leq 1, f(10) \geq 10 \Rightarrow f(1)=1, f(10)=10$
 (다)를 통해 케이스 분류

i) $f(5)=1, f(6)=7$
 $1 \leq x \leq 5$ 에서 $(f(x), f(x+1), f(x+2)) = (1, 1, 1)$ 일어난 가능
 $6 \leq x \leq 10$ 에서 $f(9)=9$ 일 때, $f(10)=f(9)+1$ 일어난 경우와, $f(10)=10$ 일 때, $f(9)=f(10)-1$ 일 때
 ${}^3H_2 - 1 = {}^4C_2 - 1 = 5$
 $f(9)=10$ 일 때, $f(10)=f(9)-1$ 개
 ${}^4H_2 - 1 = {}^5C_2 - 1 = 9 \quad \rightarrow 5+9=14$

ii) $f(5)=2, f(6)=8$
 $1 \leq x \leq 5$ 에서 ${}^2H_3 = {}^4C_3 = 4$
 $6 \leq x \leq 10$ 에서 $f(10), f(9), f(8) \rightarrow 8, 9, 10$ $f(10)=f(9)=f(8)=8$ 개
 ${}^3H_3 - 1 = {}^5C_3 - 1 = 9 \quad \Rightarrow 4 \times 9 = 36$

Without loss of generality

iii) $f(5)=3, f(6)=9 \Leftrightarrow$ ii) 36개
 iv) $f(5)=4, f(6)=10 \Leftrightarrow$ i) 14개

$\therefore 14 + 36 + 36 + 14 = 100$

- * 확인 사항
- 답안지의 해당란에 필요한 내용을 정확히 기입(표기)했는지 확인하시오.
- 이어서, 「선택과목(미적분)」 문제가 제시되오니, 자신이 선택한 과목인지 확인하시오.

제 2 교시

수학 영역(미적분)

출수형

5지선다형

23. $\lim_{x \rightarrow 0} \frac{\ln(x+1)}{\sqrt{x+4}-2}$ 의 값은? [2점]

- ① 1 ② 2 ③ 3 ④ 4 ⑤ 5

$$\begin{aligned} & \lim_{x \rightarrow 0} \frac{\ln(x+1)}{\sqrt{x+4}-2} \cdot \frac{x(\sqrt{x+4}+2)}{x(\sqrt{x+4}+2)} \\ &= \lim_{x \rightarrow 0} \frac{\ln(x+1)}{x} \cdot \frac{x}{\sqrt{x+4}+2} \\ &= 1 \cdot \frac{1}{\sqrt{0+4}+2} = \frac{1}{4} \end{aligned}$$

24. $\lim_{n \rightarrow \infty} \frac{1}{n} \sum_{k=1}^n \sqrt{1 + \frac{3k}{n}}$ 의 값은? [3점]

- ① $\frac{4}{3}$ ② $\frac{13}{9}$ ③ $\frac{14}{9}$ ④ $\frac{5}{3}$ ⑤ $\frac{16}{9}$

$$1 + \frac{3k}{n} = a, \quad \frac{3}{n} = da$$

$$\begin{aligned} \Rightarrow \lim_{n \rightarrow \infty} \frac{1}{n} \sum_{k=1}^n \sqrt{1 + \frac{3k}{n}} &= \frac{1}{3} \int_1^4 \sqrt{a} da \\ &= \frac{1}{3} \left[\frac{2}{3} a^{\frac{3}{2}} \right]_1^4 \\ &= \frac{1}{3} \left(\frac{16}{3} - \frac{2}{3} \right) = \frac{14}{9} \end{aligned}$$

25. 등비수열 $\{a_n\}$ 에 대하여 $\lim_{n \rightarrow \infty} \frac{a_n + 1}{3^n + 2^{2n-1}} = 3$ 일 때,

a_2 의 값은? [3점]

- ① 16 ② 18 ③ 20 ④ 22 ⑤ 24

공비: 4 $\rightarrow a_n = \frac{3}{2} \cdot (4)^n \rightarrow a_2 = 24$

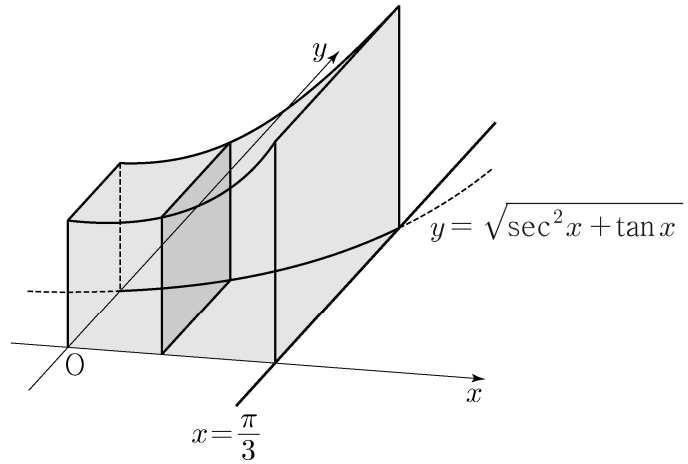
$$\lim_{n \rightarrow \infty} \frac{a \cdot r^{n-1} + 1}{3^n + \frac{1}{2} \cdot 4^n} = 3 \rightarrow r=4$$

$$\lim_{n \rightarrow \infty} \frac{\frac{a}{r} \cdot r^n + 1}{3^n + \frac{1}{2} \cdot 4^n} = \frac{a}{2} = 3 \rightarrow a=6$$

$$a_n = 6 \cdot (4)^{n-1} \rightarrow a_2 = 24$$

26. 그림과 같이 곡선 $y = \sqrt{\sec^2 x + \tan x}$ ($0 \leq x \leq \frac{\pi}{3}$)와

x 축, y 축 및 직선 $x = \frac{\pi}{3}$ 로 둘러싸인 부분을 밑면으로 하는 입체도형이 있다. 이 입체도형을 x 축에 수직인 평면으로 자른 단면이 모두 정사각형일 때, 이 입체도형의 부피는? [3점]



- ① $\frac{\sqrt{3}}{2} + \frac{\ln 2}{2}$ ② $\frac{\sqrt{3}}{2} + \ln 2$ ③ $\sqrt{3} + \frac{\ln 2}{2}$
 ④ $\sqrt{3} + \ln 2$ ⑤ $\sqrt{3} + 2\ln 2$

$$\int_0^{\frac{\pi}{3}} (\sec^2 x + \tan x) dx = \left[\tan x - \ln |\cos x| \right]_0^{\frac{\pi}{3}}$$

$$= \left(\sqrt{3} - \ln \frac{1}{2} \right) - 0$$

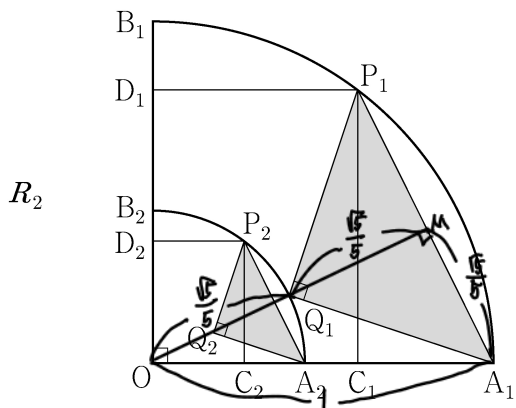
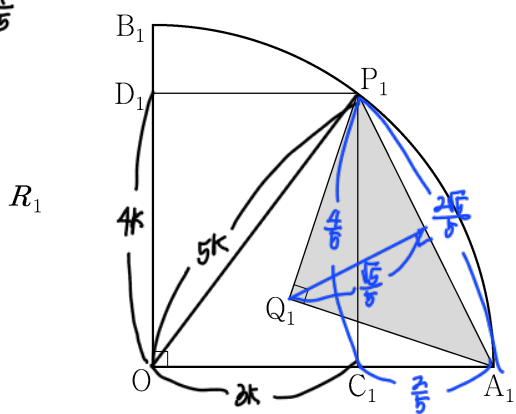
$$= \sqrt{3} + \ln 2$$

(1) * $\int \tan x dx = \int \frac{\sin x}{\cos x} dx = -\int \frac{1}{t} dt = -\ln |\cos x| + C$
 Let $t = \cos x, dt = -\sin x dx$

(2) $\int \tan x dx = \int \frac{\sin x}{\cos x} dx$
 \downarrow
 Let $f(x) = \cos x$ $\int \frac{-f'(x)}{f(x)} dx = -\ln |f(x)| + C$

27. 그림과 같이 중심이 O, 반지름의 길이가 1이고 중심각의 크기가 $\frac{\pi}{2}$ 인 부채꼴 OA_1B_1 이 있다. 호 A_1B_1 위에 점 P_1 , 선분 OA_1 위에 점 C_1 , 선분 OB_1 위에 점 D_1 을 사각형 $OC_1P_1D_1$ 이 $\overline{OC_1} : \overline{OD_1} = 3:4$ 인 직사각형이 되도록 잡는다. 부채꼴 OA_1B_1 의 내부에 점 Q_1 을 $\overline{P_1Q_1} = \overline{A_1Q_1}$, $\angle P_1Q_1A_1 = \frac{\pi}{2}$ 가 되도록 잡고, 이등변삼각형 $P_1Q_1A_1$ 에 색칠하여 얻은 그림을 R_1 이라 하자. 그림 R_1 에서 선분 OA_1 위의 점 A_2 와 선분 OB_1 위의 점 B_2 를 $\overline{OQ_1} = \overline{OA_2} = \overline{OB_2}$ 가 되도록 잡고, 중심이 O, 반지름의 길이가 $\overline{OQ_1}$, 중심각의 크기가 $\frac{\pi}{2}$ 인 부채꼴 OA_2B_2 를 그린다. 그림 R_1 을 얻은 것과 같은 방법으로 네 점 P_2, C_2, D_2, Q_2 를 잡고, 이등변삼각형 $P_2Q_2A_2$ 에 색칠하여 얻은 그림을 R_2 라 하자. 이와 같은 과정을 계속하여 n 번째 얻은 그림 R_n 에 색칠되어 있는 부분의 넓이를 S_n 이라 할 때, $\lim_{n \rightarrow \infty} S_n$ 의 값은? [3점]

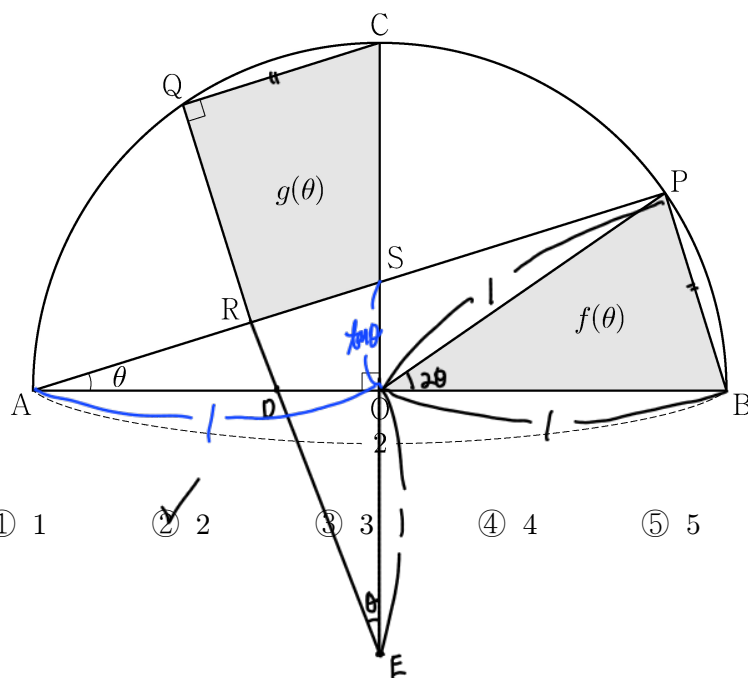
$5k=1 \Leftrightarrow k=\frac{1}{5}$
 $(\Delta P_1Q_1A_1 \text{의 넓이})$
 $= \frac{1}{2} \times \frac{2\sqrt{5}}{5} \times \frac{\sqrt{5}}{5}$
 $= \frac{1}{5}$



- ① $\frac{9}{40}$ ② $\frac{1}{4}$ ③ $\frac{11}{40}$ ④ $\frac{3}{10}$ ⑤ $\frac{13}{40}$

$\overline{OM} = \frac{2\sqrt{5}}{5}, \overline{Q_1M} = \frac{\sqrt{5}}{5}$
 $\Rightarrow \overline{OQ_1} = \overline{OM} - \overline{Q_1M} = \frac{\sqrt{5}}{5}$
 두 부채꼴의 중심각비 $1 : \frac{\sqrt{5}}{5}$
 " 넓이비 $1 : \frac{1}{5}$
 $\Rightarrow \frac{\frac{1}{5}}{1 - \frac{1}{5}} = \frac{1}{4}$

28. 그림과 같이 중심이 O이고 길이가 2인 선분 AB를 지름으로 하는 반원 위에 $\angle AOC = \frac{\pi}{2}$ 인 점 C가 있다. 호 BC 위에 점 P와 호 CA 위에 점 Q를 $\overline{PB} = \overline{QC}$ 가 되도록 잡고, 선분 AP 위에 점 R을 $\angle CQR = \frac{\pi}{2}$ 가 되도록 잡는다. 선분 AP와 선분 CO의 교점을 S라 하자. $\angle PAB = \theta$ 일 때, 삼각형 POB의 넓이를 $f(\theta)$, 사각형 CQRS의 넓이를 $g(\theta)$ 라 하자. $\lim_{\theta \rightarrow 0^+} \frac{3f(\theta) - 2g(\theta)}{\theta^2}$ 의 값은? (단, $0 < \theta < \frac{\pi}{4}$) [4점]



- ① 1 ② 2 ③ 3 ④ 4 ⑤ 5

$f(\theta) = \frac{1}{2} \cdot 1 \cdot 1 \cdot \sin 2\theta = \sin \theta \cos \theta$

$g(\theta) = \Delta CQE - \Delta SRE$

$\Rightarrow \overline{AO} = 1, \overline{SO} = \tan \theta \Rightarrow \overline{SE} = 1 + \tan \theta$

$\overline{CE} : \overline{SE} = 2 : (1 + \tan \theta) \Rightarrow (\Delta CQE \text{의 넓이}) : (\Delta SRE \text{의 넓이}) = 4 : (1 + \tan \theta)^2$

$g(\theta) = 2 \sin \theta \cos \theta - \frac{1}{2} \sin \theta \cos \theta (1 + \tan \theta)^2$

$\lim_{\theta \rightarrow 0^+} \frac{3f(\theta) - 2g(\theta)}{\theta^2} = \lim_{\theta \rightarrow 0^+} \frac{\sin \theta \cos \theta \{3 - 4 + (1 + \tan \theta)^2\}}{\theta^2}$

$= \lim_{\theta \rightarrow 0^+} \frac{\sin \theta \cos \theta (2 \tan \theta + \tan^2 \theta)}{\theta^2}$

$= 1 \cdot 1 \cdot (2 + 0) = 2$

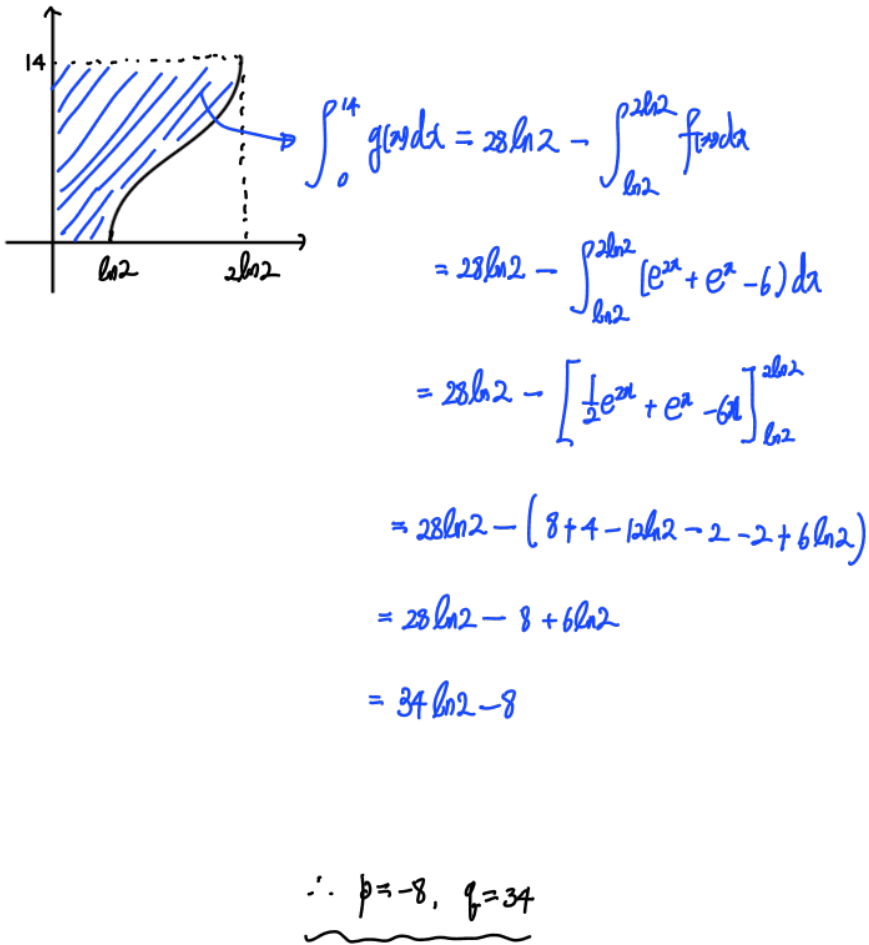
단답형

29. 세 상수 a, b, c 에 대하여 함수 $f(x) = ae^{2x} + be^x + c$ 가 다음 조건을 만족시킨다. (26)

(가) $\lim_{x \rightarrow -\infty} \frac{f(x)+6}{e^x} = 1$
 (나) $f(\ln 2) = 0$

함수 $f(x)$ 의 역함수를 $g(x)$ 라 할 때,
 $\int_0^{14} g(x) dx = p + q \ln 2$ 이다. $p+q$ 의 값을 구하시오.
 (단, p, q 는 유리수이고, $\ln 2$ 는 무리수이다.) [4점]

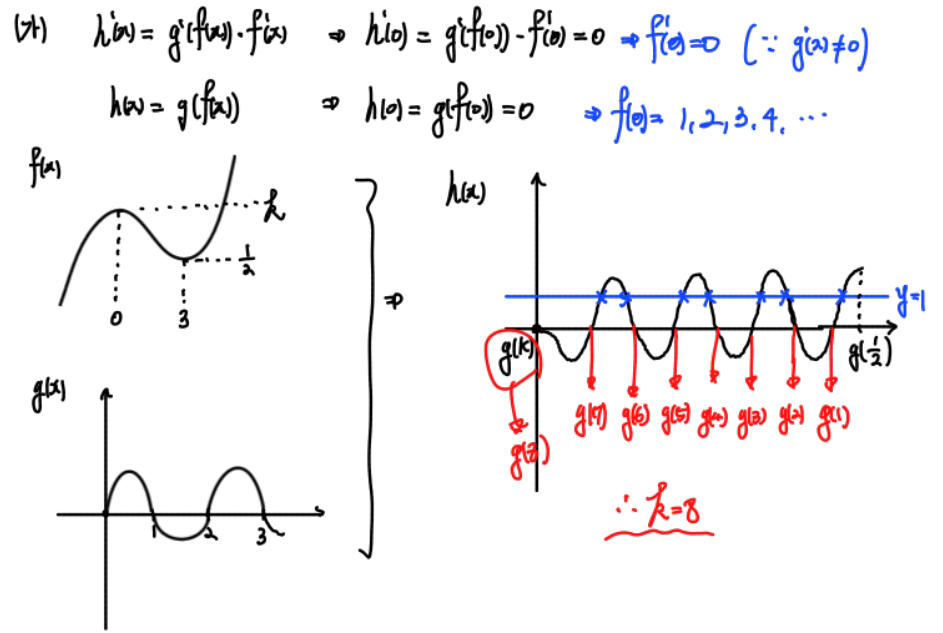
(가) $\lim_{x \rightarrow -\infty} \frac{ae^{2x} + be^x + c + 6}{e^x} = 1$
 (변모)가 0으로 가므로, (분자)도 0으로 가야함. $c = -6$
 $\lim_{x \rightarrow -\infty} \frac{ae^{2x} + be^x}{e^x} = \lim_{x \rightarrow -\infty} \frac{ae^{2x} + b}{1} = b = 1$
 (나) $f(\ln 2) = 4a + 2 - 6 = 0$ $a = 1$



30. 최고차항의 계수가 양수인 삼차함수 $f(x)$ 와 (31)
 함수 $g(x) = e^{\sin \pi x} - 1$ 에 대하여 실수 전체의 집합에서 정의된
 합성함수 $h(x) = g(f(x))$ 가 다음 조건을 만족시킨다.

- (가) 함수 $h(x)$ 는 $x=0$ 에서 극댓값 0을 갖는다.
 (나) 열린구간 $(0, 3)$ 에서 방정식 $h(x) = 1$ 의 서로 다른 실근의 개수는 7이다.

$f(3) = \frac{1}{2}, f'(3) = 0$ 일 때, $f(2) = \frac{q}{p}$ 이다. $p+q$ 의 값을 구하시오. (단, p 와 q 는 서로소인 자연수이다.) [4점]



$f'(x) = a(x)(x-3)$
 $f(x) = \frac{1}{3}ax^3 - \frac{3}{2}ax^2 + 8$
 $f(3) = 9a - \frac{27}{2}a + 8 = \frac{1}{2} \quad \therefore a = \frac{5}{3}$
 $f(2) = \frac{8}{3}a - 6a + 8 = -\frac{10}{3}a + 8 = -\frac{50}{9} + 8 = \frac{22}{9}$
 $\therefore p+q = 31$

* 확인 사항
 ○ 답안지의 해당란에 필요한 내용을 정확히 기입(표기)했는지 확인 하시오.
 ○ 이어서, 「선택과목(기하)」 문제가 제시되오니, 자신이 선택한 과목인지 확인 하시오.