

제 2 교 시

수학 영역 (미적분)

23. $\lim_{x \rightarrow 0} \frac{e^{7x} - 1}{e^{2x} - 1}$ 의 값은? [2점]

- ① $\frac{1}{2}$ ② $\frac{3}{2}$ ③ $\frac{5}{2}$
 ④ $\frac{7}{2}$ ⑤ $\frac{9}{2}$



수능수학 Big Data Analyst 김지석
수능한권 Prism 해설

$$\lim_{x \rightarrow 0} \frac{e^{7x} - 1}{e^{2x} - 1} = \lim_{x \rightarrow 0} \frac{e^{7x} - 1}{7x} \times \frac{7x}{2x} = \frac{7}{2}$$

24. 매개변수 t 로 나타내어진 곡선

$$x = t + \cos 2t, \quad y = \sin^2 t$$

에서 $t = \frac{\pi}{4}$ 일 때, $\frac{dy}{dx}$ 의 값은?

- ① -2 ② -1 ③ 0
 ④ 1 ⑤ 2



수능수학 Big Data Analyst 김지석
수능한권 Prism 해설

$$\frac{dy}{dx} = \frac{\frac{dy}{dt}}{\frac{dx}{dt}} = \frac{2 \sin t \cos t}{1 - 2 \sin 2t}$$

$t = \frac{\pi}{4}$ 일 때

$$\frac{dy}{dx} = \frac{2 \times \frac{\sqrt{2}}{2} \times \frac{\sqrt{2}}{2}}{1 - 2 \times 1} = -1$$

25. 함수 $f(x) = x + \ln x$ 에 대하여

$\int_1^e \left(1 + \frac{1}{x}\right) f(x) dx$ 의 값은? [3점]

- ① $\frac{e^2}{2} + \frac{e}{2}$ ② $\frac{e^2}{2} + e$ ③ $\frac{e^2}{2} + 2e$
 ④ $e^2 + e$ ⑤ $e^2 + 2e$



수능수학 Big Data Analyst 김지석
수능한권 Prism 해설

$f'(x) = 1 + \frac{1}{x}$ 이므로 $f(x) = t$ 로 치환하면

$$\int_1^e \left(1 + \frac{1}{x}\right) f(x) dx = \int_1^{e+1} t dt = \left[\frac{1}{2} t^2 \right]_1^{e+1} = \frac{e^2}{2} + e$$

제2교시

수학 영역 (미적분)

26. 공차가 양수인 등차수열 $\{a_n\}$ 과 등비수열 $\{b_n\}$ 에 대하여 $a_1 = b_1 = 1$, $a_2 b_2 = 1$ 이고

$$\sum_{n=1}^{\infty} \left(\frac{1}{a_n a_{n+1}} + b_n \right) = 2$$

일 때, $\sum_{n=1}^{\infty} b_n$ 의 값은? [3점]

- ① $\frac{7}{6}$ ② $\frac{6}{5}$ ③ $\frac{5}{4}$
 ④ $\frac{4}{3}$ ⑤ $\frac{3}{2}$



수능수학 Big Data Analyst 김지석
수능한권 Prism 해설

등차수열 $\{a_n\}$ 의 공차를 d ,
 등비수열 $\{b_n\}$ 의 공비를 r 라고 하면

$a_1 = b_1 = 1$ 이므로
 $a_2 b_2 = 1 \Leftrightarrow (1+d)r = 1$

$\therefore d = \frac{1}{r} - 1 = \frac{1-r}{r}$

$$\begin{aligned} \sum_{n=1}^{\infty} \left(\frac{1}{a_n a_{n+1}} + b_n \right) &= 2 \\ &= \sum_{n=1}^{\infty} \left\{ \frac{1}{d} \left(\frac{1}{a_n} - \frac{1}{a_{n+1}} \right) + b_n \right\} \\ &= \lim_{n \rightarrow \infty} \frac{1}{d} \left(1 - \frac{1}{a_{n+1}} \right) + \frac{1}{1-r} \\ &= \frac{1}{d} + \frac{1}{1-r} = \frac{r}{1-r} + \frac{1}{1-r} = \frac{1+r}{1-r} = 2 \end{aligned}$$

$\therefore r = \frac{1}{3}$

$\therefore \sum_{n=1}^{\infty} b_n = \frac{1}{1 - \frac{1}{3}} = \frac{3}{2}$

27. $x = -\ln 4$ 에서 $x = 1$ 까지의 곡선

$y = \frac{1}{2}(|e^x - 1| - e^{|x|} + 1)$ 의 길이는? [3점]

- ① $\frac{23}{8}$ ② $\frac{13}{4}$ ③ $\frac{29}{8}$
 ④ 4 ⑤ $\frac{35}{8}$



수능수학 Big Data Analyst 김지석
수능한권 Prism 해설

$f(x) = \frac{1}{2}(|e^x - 1| - e^{|x|} + 1)$ 라고 하면

$$f'(x) = \begin{cases} \frac{1}{2}(-e^x - e^{-x} + 2) & (-\ln 4 \leq x < 0) \\ 0 & (0 \leq x \leq 1) \end{cases}$$

\therefore 곡선의 길이는

$$\begin{aligned} &\int_{-\ln 4}^1 \sqrt{1 + \{f'(x)\}^2} dx \\ &= \int_{-\ln 4}^0 \sqrt{1 + \frac{1}{4}(e^{2x} - 2 + e^{-2x})} dx + \int_0^1 \sqrt{1 + 0} dx \\ &= \int_{-\ln 4}^0 \sqrt{\frac{1}{4}(e^{2x} + 2 + e^{-2x})} dx + 1 \\ &= \int_{-\ln 4}^0 \frac{1}{2}(e^x + e^{-x}) dx + 1 \\ &= \frac{1}{2} \left[e^x - e^{-x} \right]_{-\ln 4}^0 + 1 \\ &= \frac{1}{2} \left(4 - \frac{1}{4} \right) + 1 \\ &= \frac{15}{8} + 1 = \frac{23}{8} \end{aligned}$$

제2교시

수학 영역 (미적분)

28. 실수 a ($0 < a < 2$)에 대하여 함수 $f(x)$ 를

$$f(x) = \begin{cases} 2|\sin 4x| & (x < 0) \\ -\sin ax & (x \geq 0) \end{cases}$$

이라 하자. 함수

$$g(x) = \left| \int_{-a\pi}^x f(t) dt \right|$$

가 실수 전체의 집합에서 미분가능할 때, a 의 최솟값은? [4점]

- ① $\frac{1}{2}$ ② $\frac{3}{4}$ ③ 1
- ④ $\frac{5}{4}$ ⑤ $\frac{3}{2}$

Analysis^{MM-}

$g(x) = \int_a^x f(t) dt$ 꼴이 등장하면 꼭 해야 하는 것!

- ① $x = a$ 대입 : $g(a) = \int_a^a f(x) dx = 0$
- ② 미분 : $g'(x) = f(x)$

Analysis^{MM-}

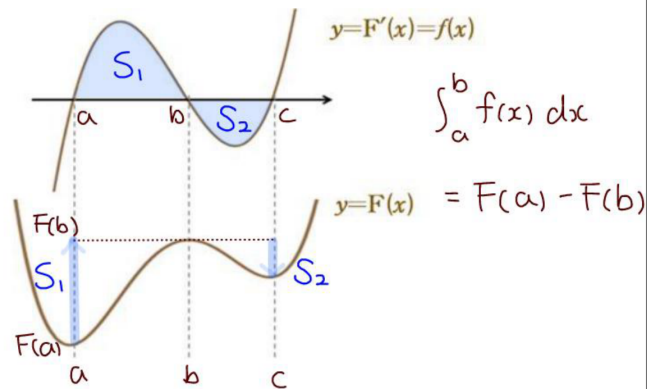
절댓값 함수의 미분 가능성

함수 $y = |f(x)|$ 에서

- ① $f(a) = 0$
- ② $x = a$ 에서 미분가능 $\Rightarrow f'(a) = 0$

Analysis^{MM-}

도함수의 넓이는 원시함수의 높이차



수능수학 Big Data Analyst 김지석
수능한권 Prism 해설

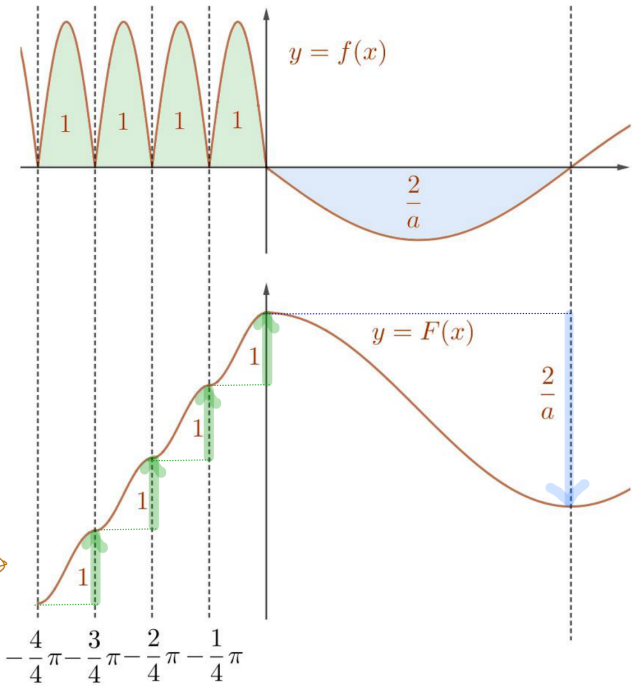
$F(x) = \int_{-a\pi}^x f(t) dt$ 라고 하면

- ① $F(-a\pi) = 0$
- ② $F'(x) = f(x)$

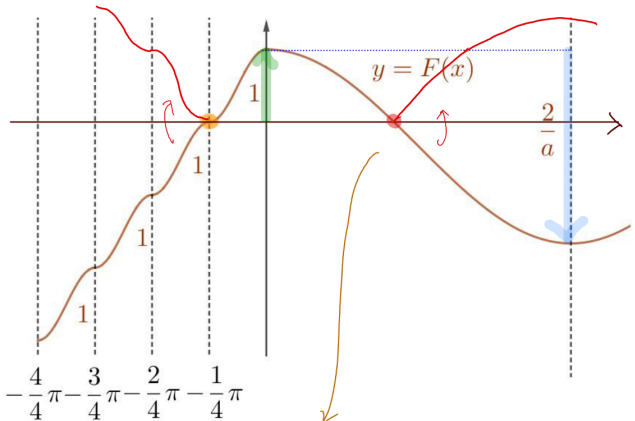
$g(x) = |F(x)|$ 이 실수 전체에서 미분가능하므로

$\Rightarrow F'(-a\pi) = f(-a\pi) = 0$

$\therefore -a\pi = -\frac{\pi}{4}, -\frac{2}{4}\pi, -\frac{3}{4}\pi, -\frac{4}{4}\pi, \dots$



i) $-a\pi = -\frac{\pi}{4}$ 인 경우 $\frac{2}{a} = 8 > 1$

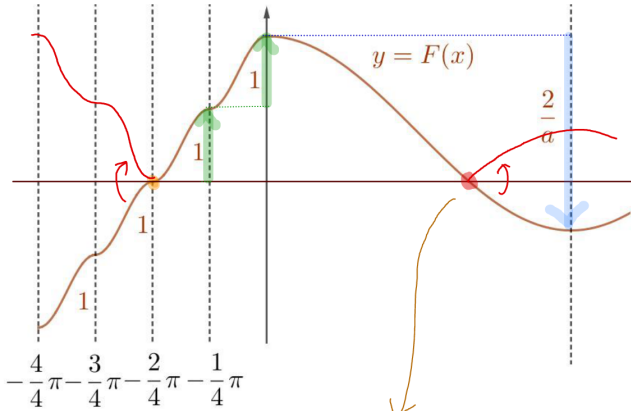


$\therefore g(x) = |F(x)|$ 미분불가능한 점 존재

제 2 교 시

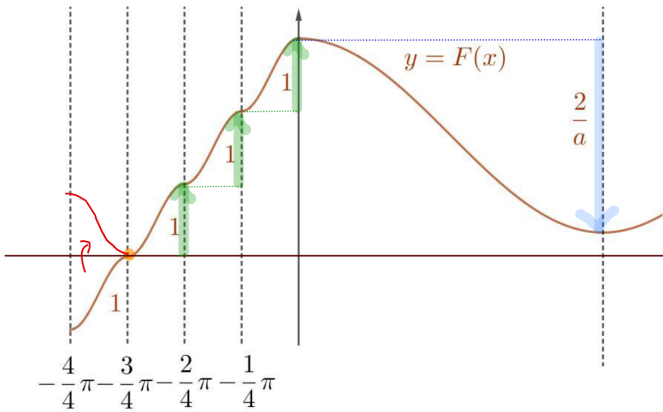
수학 영역 (미적분)

ii) $-\alpha\pi = -\frac{2\pi}{4}$ 인 경우 $\frac{2}{a} = 4 > 2$



$\therefore g(x) = |F(x)|$ 미분불가능한 점 존재

iii) $-\alpha\pi = -\frac{3\pi}{4}$ 인 경우 $\frac{2}{a} = \frac{8}{3} < 3$



$\therefore g(x) = |F(x)|$ 실수전체에서 미분 가능

$\therefore a$ 의 최솟값은 $\frac{3}{4}$



플립러 손해설 기출문제집

과목별 6일완성 수능한권



제2교시

수학 영역 (미적분)

29. 두 실수 a, b ($a > 1, b > 1$)이

$$\lim_{n \rightarrow \infty} \frac{3^n + a^{n+1}}{3^{n+1} + a^n} = a, \quad \lim_{n \rightarrow \infty} \frac{a^n + b^{n+1}}{a^{n+1} + b^n} = \frac{9}{a}$$

를 만족시킬 때, $a+b$ 의 값을 구하시오. [4점]



수능수학 Big Data Analyst 김지석
수능한권 Prism 해설

18

(Step1) a 의 값 파악하기

i) $1 < a < 3$ 인 경우

$$\lim_{n \rightarrow \infty} \frac{3^n + a^{n+1}}{3^{n+1} + a^n} = \frac{1}{3}$$

$$\therefore a = \frac{1}{3} \rightarrow \text{모순} (\because a > 1)$$

ii) $a = 3$ 인 경우

$$\lim_{n \rightarrow \infty} \frac{3^n + a^{n+1}}{3^{n+1} + a^n} = 1$$

$$\therefore a = 1 \rightarrow \text{모순} (\because a > 1)$$

iii) $a > 3$ 인 경우

$$\lim_{n \rightarrow \infty} \frac{3^n + a^{n+1}}{3^{n+1} + a^n} = a$$

\therefore 성립

(Step2) b 의 값 파악하기

$$\lim_{n \rightarrow \infty} \frac{a^n + b^{n+1}}{a^{n+1} + b^n} = \frac{9}{a} \text{ 에서}$$

i) $a > b$ 인 경우

$$\lim_{n \rightarrow \infty} \frac{a^n + b^{n+1}}{a^{n+1} + b^n} = \lim_{n \rightarrow \infty} \frac{1 + b \left(\frac{b}{a}\right)^n}{a + \left(\frac{b}{a}\right)^n} = \frac{1}{a}$$

$$\therefore \frac{1}{a} = \frac{9}{a} \rightarrow \text{모순}$$

ii) $a = b$ 인 경우

$$\lim_{n \rightarrow \infty} \frac{a^n + b^{n+1}}{a^{n+1} + b^n} = 1$$

$$\therefore 1 = \frac{9}{a} \Leftrightarrow a = 9, b = 9$$

iii) $a < b$ 인 경우

$$\lim_{n \rightarrow \infty} \frac{a^n + b^{n+1}}{a^{n+1} + b^n} = \lim_{n \rightarrow \infty} \frac{\left(\frac{a}{b}\right)^n + b}{a \left(\frac{b}{a}\right)^n + 1} = b$$

$$\therefore b = \frac{9}{a} < 3 (\because a > 3)$$

\rightarrow 모순 ($\because a < b$)

$$\therefore a + b = 9 + 9 = 18$$



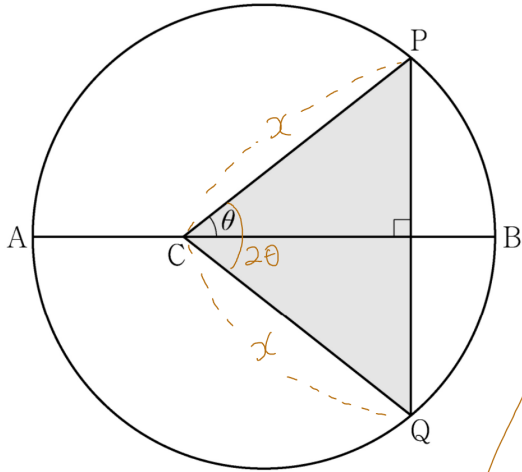
(독학) 도형의 필연성
풀컬러 도형문제집
전자책 1,000원! (한정판매)



제2교시

수학 영역 (미적분)

30. 길이가 10인 선분 AB를 지름으로 하는 원과 선분 AB 위에 $\overline{AC}=4$ 인 점 C가 있다. 이 원 위의 점 P를 $\angle PCB=\theta$ 가 되도록 잡고, 점 P를 지나고 선분 AB에 수직인 직선이 이 원과 만나는 점 중 P가 아닌 점을 Q라 하자. 삼각형 PCQ의 넓이를 $S(\theta)$ 라 할 때, $-7 \times S'\left(\frac{\pi}{4}\right)$ 의 값을 구하시오. (단, $0 < \theta < \frac{\pi}{2}$) [4점]



수능수학 Big Data Analyst 김지석
수능한권 Prism 해설

32

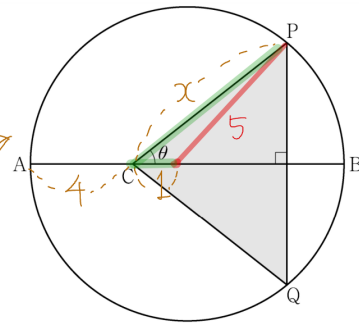
(step1) $S(\theta)$ 파악하기

$\overline{CP} = x$ 라고 하면

$$S(\theta) = \frac{1}{2} x^2 \sin 2\theta$$

$$S'(\theta) = \frac{1}{2} \left(2x \frac{dx}{d\theta} \sin 2\theta + x^2 \cos 2\theta \cdot 2 \right)$$

(step2) $\overline{CP} = x$ 파악하기



$$5^2 = x^2 + 1^2 - 2x \cos \theta$$

θ 에 대하여 미분하면

$$0 = 2x \frac{dx}{d\theta} - 2 \left\{ \frac{dx}{d\theta} \cos \theta + x(-\sin \theta) \right\}$$

(step3) $\theta = \frac{\pi}{4}$ 대입하기

$$5^2 = x^2 + 1^2 - 2x \cos \theta$$

$$\Leftrightarrow x^2 - \sqrt{2}x - 24 = 0$$

$$\therefore x = 4\sqrt{2} \text{ or } -3\sqrt{2}$$

$$0 = 2x \frac{dx}{d\theta} - 2 \left\{ \frac{dx}{d\theta} \cos \theta + x(-\sin \theta) \right\}$$

$$\Leftrightarrow 0 = 2 \cdot 4\sqrt{2} \frac{dx}{d\theta} - 2 \left\{ \frac{dx}{d\theta} \cdot \frac{1}{\sqrt{2}} + 4\sqrt{2} \left(\frac{-1}{\sqrt{2}} \right) \right\}$$

$$\therefore \frac{dx}{d\theta} = -\frac{4\sqrt{2}}{7}$$

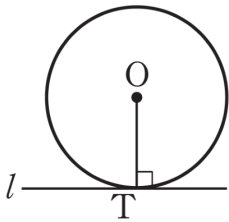
$$\therefore S'\left(\frac{\pi}{4}\right) = \frac{1}{2} \cdot 2 \cdot 4\sqrt{2} \left(-4\frac{\sqrt{2}}{7} \right) + 0 = -\frac{32}{7}$$

$$\therefore -7 \times S'\left(\frac{\pi}{4}\right) = 32$$

도형의 필연성 01

원 나오면 → 중심과 특별점 잇기

✓ 접점 → 접선과 수직



도형의 필연성 09

코사인법칙 활용법 (변이 많을 때)

[단서] → [답]

✓ 2변 1각 → 1변

✓ 3변 → 각